

МІНІСТЕРСТВО ОСВІТИ І НАУКИ УКРАЇНИ
НАЦІОНАЛЬНИЙ УНІВЕРСИТЕТ ЧЕРНІГІВСЬКА ПОЛІТЕХНІКА
НАВЧАЛЬНО-НАУКОВИЙ ІНСТИТУТ АРХІТЕКТУРИ,
ДИЗАЙНУ ТА ГЕОДЕЗІЇ

КАФЕДРА ГЕОДЕЗІЇ, КАРТОГРАФІЇ ТА ЗЕМЛЕУСТРОЮ

О.І.Терещук, В.І.Мовенко, Ю.В.Щербак

ГЕОДЕЗІЯ ТА ЗЕМЛЕВПОРЯДКУВАННЯ



НАВЧАЛЬНИЙ ПОСІБНИК ДЛЯ СТУДЕНТІВ

Галузі знань – 20 «Аграрні науки та продовольство»
Спеціальність 201 – «Агрономія»

ЧЕРНІГІВ – 2021

УДК 528

ББК 26.1

Т 35

Рекомендовано до друку Вченою радою Національного університету «Чернігівська політехніка» (протокол № __ від __.__.2021 р.)

Рецензенти:

В.А. Іванишин, д-р. геол. наук, проф.;

С.С. Перій, д-р техн. наук, доц.;

Р.В. Шульц, д-р техн. наук, проф.

Терещук О.І., Мовенко В.І. Щербак Ю.В.

Т 35 «Геодезія та землевпорядкування» – навчальний посібник для здобувачів вищої освіти спеціальності 201 – «Агрономія» в галузі знань – 20 «Аграрні науки та продовольство». – Чернігів: Нац. ун-т «Чернігівська політехніка», 2021р. – 162 с. іл. 80

ISBN

У посібнику розглянуті основні поняття геодезії, топографії, а також виконання геодезичних робіт із застосуванням сучасних технологій у сільськогосподарському виробництві. Наведені конструкції геодезичних приладів та їх перевірки. Висвітлені новітні методи та пристрої, які використовуються в геодезичних роботах в сучасних умовах. Також розглянуті важливі питання землеустрою, кадастрового знімання, використання ІТ технологій для геодезичних та землевпорядних робіт. В практикумі приведені умовні знаки для топографічних планів різних масштабів, які, зазвичай, можуть використовуватись в сільському господарстві.

Посібник призначений для поглибленого вивчення студентами дисципліни «Геодезія та землевпорядкування». Також може бути корисним для аспірантів, науковців, практичних працівників.

УДК 528

ББК 26.1

Т 35

ISBN 978-617-7932-22-1

Терещук , В.І. Мовенко, Ю.В. Щербак, 2021

З М І С Т

	ПЕРЕДМОВА	4
ГЛАВА 1	ГЕОДЕЗИЧНІ РОБОТИ В СІЛЬСЬКОГОСПОДАРСЬКОМУ ВИРОБНИЦТВІ	9
Розділ 1.1	ПЛАНІ. КАРТИ. МАСШТАБИ. ОРІЄНТУВАННЯ ЛІНІЙ. ВИЗНАЧЕННЯ ГЕОДЕЗИЧНИХ І ПРЯМОКУТНИХ КООРДИНАТ ПОВОРОТНИХ ТОЧОК	9
Розділ 1.2	РОЗВ'ЯЗУВАННЯ ЗАДАЧ НА ТОПОГРАФІЧНІЙ КАРТІ	16
Розділ 1.3	НОМЕНКЛАТУРА КАРТ ТА ПЛАНІВ	22
Розділ 1.4	ВИМІРЮВАННЯ ЛІНІЙ НА МІСЦЕВОСТІ	30
ГЛАВА 2	ГОРИЗОНТАЛЬНЕ ЗНІМАННЯ	33
Розділ 2.1	БУДОВА ТА ПЕРЕВІРКИ ТЕХНІЧНИХ ТЕОДОЛІТІВ	33
Розділ 2.2	ВИМІРЮВАННЯ ГОРИЗОНТАЛЬНИХ КУТІВ ТЕОДОЛІТАМИ	39
Розділ 2.3	ВИМІРЮВАННЯ ВЕРТИКАЛЬНИХ КУТІВ, ВІДДАЛЕЙ ТА ПЕРЕВИЩЕНЬ	42
Розділ 2.4	ПОЛЬОВІ ТА КАМЕРАЛЬНІ РОБОТИ ПРИ ТЕОДОЛІТНОМУ ЗНІМАННІ ДІЛЯНКИ МІСЦЕВОСТІ	46
Розділ 2.5	БЕЗПЛОТНІ ЛІТАЛЬНІ АПАРАТИ (БПЛА) В ГЕОДЕЗІІ ТА ЗЕМЛЕВПОРЯДКУВАННІ	55
ГЛАВА 3	ГЕОМЕТРИЧНЕ НІВЕЛЮВАННЯ	64
Розділ 3.1	БУДОВА ТА ПЕРЕВІРКИ НІВЕЛІРІВ. НІВЕЛІРНІ РЕЙКИ	64
Розділ 3.2	ВИКОНАННЯ ТЕХНІЧНОГО НІВЕЛЮВАННЯ. ОБЧИСЛЕННЯ ПЕРЕВИЩЕНЬ НА СТАНЦІЇ ТА ОПРАЦЮВАННЯ ЖУРНАЛУ НІВЕЛЮВАННЯ	69
Розділ 3.3	СКЛАДАННЯ ПОЗДОВЖНЬОГО ПРОФІЛЮ МІСЦЕВОСТІ	72
ГЛАВА 4	ОСНОВНІ ПОНЯТТЯ ЗЕМЛЕУСТРОЮ	85
Розділ 4.1	ПОБУДОВА ПЛАНУ ТА ВИЗНАЧЕННЯ ПЛОЩ КОНТУРІВ УГІДЬ СІЛЬСЬКОГОСПОДАРСЬКОГО ПІДПРИЄМСТВА	85
Розділ 4.2	СКЛАДАННЯ КАДАСТРОВОГО ПЛАНУ ЗЕМЕЛЬНОЇ ДІЛЯНКИ	98
Розділ 4.3	ЕКСПЛІКАЦІЇ ЗЕМЕЛЬ ТА СТРУКТУРА ЗЕМЛЕКОРИСТУВАЧІВ І ЗЕМЕЛЬНИХ УГІДЬ	105
Розділ 4.4	ВИКОРИСТАННЯ ГРАФІЧНОГО РЕДАКТОРА AUTOCAD В ГЕОДЕЗИЧНИХ ТА ЗЕМЛЕВПОРЯДНИХ РОБОТАХ	109
	ПРОГРАМА НАВЧАЛЬНОЇ ПРАКТИКИ З ДИСЦИПЛІНИ «ГЕОДЕЗІЯ ТА ЗЕМЛЕВПОРЯДКУВАННЯ»	125
	УМОВНІ ЗНАКИ ДЛЯ ТОПОГРАФІЧНИХ ПЛАНІВ ТА КАРТ	138
	ЛІТЕРАТУРА	162

ПЕРЕДМОВА

Дисципліна «Геодезія та землевпорядкування», яку вивчають здобувачі вищої освіти спеціальності 201 «Агрономія», забезпечує фахівців сільськогосподарського виробництва знаннями, необхідними для виконання багатьох спеціальних робіт, пов'язаних з геодезичними та землевпорядними роботами.

Згідно з освітньо-професійною програмою (ОПП) для підготовки здобувачів вищої освіти першого (бакалаврського) рівня за спеціальністю 201 «Агрономія», галузі знань 20 "Аграрні науки та продовольство", затвердженою у 2019р., передбачено вивчення студентами II-го курсу вибіркової дисципліни «Геодезія та землевпорядкування» / «Геодезія з основами землевпорядкування» (код ВБ 20) в обсязі 4-х кредитів з підсумковим контролем – екзамен.

В освітньо-професійній програмі розроблені наступні види програмних компетентностей для здобувачів вищої освіти спеціальності 201 «Агрономія», галузі знань 20 "Аграрні науки та продовольство":

- Інтегральна компетентність.
- Загальні компетентності.
- Фахові компетентності.

Для здобувачів вищої освіти даної спеціальності, які вивчають курс «Геодезія та землевпорядкування»/«Геодезія з основами землевпорядкування» передбачені відповідні компоненти програмних компетентностей, а саме:

Загальні компетентності – здатність застосовувати знання у практичних ситуаціях.

Фахові компетентності – базові знання з агрономічних дисциплін (рослинництво, землеробство, селекція і насінництво, сільськогосподарських культур, агрохімія, агрометеорологія, плідівництво, овочівництво, ґрунтознавство, кормовиробництво, механізація в рослинництві, фітопатологія, ентомологія, фітофармакологія та інші);

Фахові компетентності – здатність управляти комплексними діями або проектами, відповідальність за прийняття рішень у конкретних виробничих умовах.

Згідно з освітньо-професійною програмою передбачена наступна забезпеченість програмними результатами навчання:

- демонструвати знання і розуміння фундаментальних дисциплін в обсязі, необхідному для володіння відповідними навичками в агрономії;
- аналізувати та інтегрувати знання із загальної та спеціальної професійної підготовки в обсязі, необхідному для спеціалізованої професійної роботи у галузі агрономії;
- проектувати та організовувати заходи вирощування високоякісної сільськогосподарської продукції та відповідно до чинних вимог;

– планувати економічно вигідне виробництво сільськогосподарської продукції.

Мета навчальної дисципліни “Геодезія та землевпорядкування”: формувати у здобувачів вищої освіти уявлення про фігуру Землі та методи геодезичних та аерогеодезичних робіт; забезпечити студентів знаннями, вміннями та навиками для ведення геодезичних вимірів і розрахунків при розв’язанні задач професійної діяльності (знімання та складання плану земельної ділянки, визначення площі земельної ділянки та поділ її на окремі частини (поля), перенесення меж полів на місцевість, виконання з’йомки контурів, землевпорядкування, інвентаризації земельних ділянок); професійно готувати спеціаліста за напрямом «Агрономія» щодо збору, аналізу та використання геодезичної інформації як вихідної основи для прийняття і реалізації оптимальних рішень в сільськогосподарській діяльності та сільському будівництві.

Завдання, які вирішуються в процесі вивчення навчальної дисципліни “Геодезія та землевпорядкування”:

- вивчити зміст, принципи і методи використання інформаційно-геодезичних матеріалів про земельні ділянки, отриманих засобами наземного та аерокосмічного знімання місцевості і створенням загальногеографічних і тематичних (головним чином сільськогосподарських) карт та планів;
- вивчити призначення, конструкції та принципи використання сучасних геодезичних і фотограмметричних приладів (в тому числі для автоматизованих вимірів з записом цифрової інформації на магнітні носії; оволодіти практичними навиками роботи з геодезичними приладами);
- вивчити методи та засоби математичного опрацювання геодезичної інформації, а також способи їх автоматизації;
- оволодіти практичними навичками топографічного знімання місцевості, яке виконується в процесі проведення робіт при сільськогосподарському землевпорядкуванні та будівництві;
- оволодіти навичками виконання геодезичних розмічувальних робіт;
- засвоїти наукові основи виконання геодезичних вимірів на місцевості на підставі аерокосмічних знімків і карт.

У результаті вивчення навчальної дисципліни здобувачі вищої освіти повинні вміти читати карту, визначати геодезичні та прямокутні координати точок місцевості на картах, вимірювати і орієнтувати лінії, вимірювати горизонтальні і вертикальні кути, вимірювати перевищення і визначати висоти, вимірювати площі, викреслювати профілі та карти, виконувати польові роботи у всіх видах наземного топографічного знімання, складати та оформляти карти, використовувати топографічні та сільськогосподарські карти (плани), аерокосмічні знімки і цифрові моделі місцевості при вирішенні задач в сільському господарстві, вести розрахунки при підготовці

геодезичних даних для виносу в натуру сільськогосподарських проектів, а також геодезичних розмічувальних робіт.

Засобами оцінювання та методами демонстрування результатів навчання з даної дисципліни є іспит, виконані та захищені лабораторні роботи з даної дисципліни, які представлені у лабораторному практикумі (див. сайт дистанційного навчання Національного університету «Чернігівська політехніка» Moodle, дисципліна «Геодезія та землевпорядкування»).

Відповідно до п. 2.5 Положення про поточне та підсумкове оцінювання знань здобувачів вищої освіти Національного університету «Чернігівська політехніка» (із змінами, внесеними згідно із рішенням Вченої ради від 28.12.2020, протокол №10 та наказом ректора № 120 від 28.12.2020), з тими здобувачами вищої освіти, які до проведення підсумкового семестрового контролю не встигли виконати всі обов'язкові види робіт та мають підсумкову оцінку менше 60 балів (з можливих за шкалою оцінювання до 60-75% підсумкової оцінки за виконання всіх видів робіт, що виконуються протягом семестру і до 40-25% підсумкової оцінки – на екзамені), проводяться додаткові індивідуальні заняття, за результатами яких визначається, наскільки глибоко засвоєний матеріал, та чи необхідне повторне вивчення дисципліни.

Поточний контроль проводиться шляхом спілкування із студентами під час лекцій, рішення задач під час лабораторних занять та консультацій.

За результатами самостійних робіт виставляються модульні оцінки, причому бали, які набрані студентом під час поточного контролю, дораховуються до модульних оцінок. Підсумкові оцінки поточного контролю доводяться до відома студентів до початку сесії. Здобувачі вищої освіти, які повністю виконали навчальний план з дисципліни і за результатами поточного контролю отримали 60 балів, можуть залишити набрану кількість балів, як підсумкову семестрову оцінку.

У випадку, якщо студент хоче підвищити оцінку, отриману за балами, набраними протягом семестру, він складає екзамен з двома питаннями: одним теоретичним та одним практичним. В цьому випадку остаточна семестрова оцінка виставляється за найбільшою сумою балів (або за результатами іспиту, або за результатами поточного та модульних контролів).

У випадку, якщо здобувач вищої освіти протягом семестру не виконав в повному обсязі передбачених робочою програмою дисципліни «Геодезія та землевпорядкування» усіх видів навчальної роботи, має невідпрацьовані практичні, лабораторні роботи, або не набрав мінімальну необхідну кількість балів, то ЗВО не допускається до складання екзамену під час семестрового контролю, хоча може ліквідувати академічну заборгованість у порядку, передбаченому в розділі 6 Положення.

Навчальний посібник «Геодезія та землевпорядкування» розроблений відповідно до робочої програми вибіркового курсу «Геодезія та землевпорядкування» для підготовки здобувачів вищої освіти першого (бакалаврського) рівня за спеціальністю 201 «Агрономія», галузі знань 20

"Аграрні науки та продовольство" і навчального плану даного напрямку та призначений для здобувачів вищої освіти денної форми навчання.

Навчальний посібник "Геодезія та землепорядкування" складається з чотирьох глав та розділів, в яких викладені лабораторні та практичні завдання, а також програми навчально-геодезичної практики, довідника основних топографічних умовних знаків, списку літератури. Значна увага приділяється питанням самостійного вивчення будови та перевірок геодезичних приладів, роботи з ними, а також організації та виконання камеральних робіт. Також подані відомості про сучасні геодезичні прилади – електронні тахеометри, лазерні нівеліри, GPS приймачі та БПЛА(безпілотні літальні апарати).

Для вивчення карти та розв'язку задач на ній навчальний посібник містить частину навчальної топографічної карти масштабу 1:10000. У посібнику розглядаються методи виконання куткових та лінійних вимірювань на місцевості, прості геодезичні прилади, планіметри тощо; способи створення геодезичної знімальної основи у вигляді теодолітних, тахеометричних ходів та методи виконання знімачів; нівелювання поверхні; визначення перевищень між точками земної поверхні та побудови плану землепорядкування з визначенням площ контурів сільськогосподарського підприємства.

У кожній темі навчального посібника висвітлені теоретичні питання, які необхідні студенту для кращого засвоєння лекційного матеріалу та виконання практичних завдань. Знаючи, яка тема планується, студент має можливість якісно підготуватися до кожного наступного заняття.

Форма побудови навчального посібника дозволяє більш ефективно використовувати час, відведений на лабораторні та практичні роботи, а також акцентувати увагу студента на безпосередньому виконанні цих робіт, оскільки у навчальному посібнику вже подані допоміжні табличні, графічні та довідкові матеріали.

У посібнику студент безпосередньо виконує індивідуальні завдання з кожної теми згідно свого варіанту, проводить записи, розрахунки, графічні побудови та робить висновки. Викладач перевіряє правильність обчислень, графічних побудов, акуратність виконання того чи іншого завдання та у відповідній графі записує свої рекомендації. Після врахування зауважень викладача, студент захищає виконану ним роботу, а викладач оцінює рівень знань студента та зараховує ту чи іншу тему.

У навчальному посібнику введені додаткові умовні позначення для акцентування особливої уваги на виконання окремих фрагментів лабораторних і практичних робіт:

- курсивним шрифтом виділені основні поняття і визначення;
- схематичний малюнок теодоліта акцентує увагу студента на наведених формулюваннях;
- виділений фон з прокресленими лініями призначений для самостійного записування студентом окремих понять та визначень.

Після виконання лабораторних робіт, здачі заліків та іспитів навчальний посібник “Геодезія та землевпорядкування“ залишається у студента. Окрім того, ЗВО завжди зможе скористатися посібником як допоміжним навчальним матеріалом при складанні іспитів з дисципліни «Геодезія та землевпорядкування», під час проходження навчальної геодезичної практики, а також для відновлення знань на будь-якому етапі вивчення наступних фахових дисциплін.

Навчальний посібник з геодезії протягом багатьох років був випробований при вивченні курсу “Геодезія“ студентами геодезичних та інших спеціальностей на кафедрі геодезії Національного університету «Львівська політехніка» і на кафедрі геодезії, картографії та землеустрою Національного університету «Чернігівська політехніка».

Посібник “Геодезія та землевпорядкування“ буде корисний всім **здобувачам вищої освіти, які вивчають складні інженерні дисципліни за спеціальністю 201 «Агрономія», галузі знань 20 "Аграрні науки та продовольство"**, а також інших спеціальностей.

Навчальний посібник адаптований та може повністю використовуватися у дистанційній (on-line) формі навчання.

Автори висловлюють щире подяку рецензентам за корисні поради та рекомендації і будуть вдячні усім читачам за їх побажання щодо наступних видань посібника.

ГЛАВА I. ГЕОДЕЗИЧНІ РОБОТИ В СІЛЬСЬКОГОСПОДАРСЬКОМУ ВИРОБНИЦТВІ

РОЗДІЛ I.1. ПЛАНИ. КАРТИ. МАСШТАБИ. ОРІЄНТУВАННЯ ЛІНІЙ. ВИЗНАЧЕННЯ ГЕОДЕЗИЧНИХ І ПРЯМОКУТНИХ КООРДИНАТ ПОВОРОТНИХ ТОЧОК

Приймаючи до уваги значні розміри та кулястість Землі, її зображення на площині без спотворень отримати неможливо. Ділянки Землі спочатку ортогонально проектують на сфероїд, а тоді, згідно з математичними законами, які називають картографічними проєкціями, на площину. В результаті такого зображення отримують карту або план [1].

Карта – зменшене, спотворене під впливом кривини Землі зображення на площині горизонтальної проєкції значної частини або всієї земної поверхні, побудоване за певними математичними законами. При складанні карт перш за все будують географічну сітку меридіанів та паралелей, яка називається **картографічною сіткою**.

Планом називається зображення порівняно невеликих ділянок місцевості, побудоване на площині в ортогональній проєкції без врахування кривизни Землі. При побудові планів точки місцевості проектують на площину прямовисними лініями. Таке проектування називається ортогональним.

Горизонтальні проєкції ліній місцевості на планах та картах зображують у зменшеному вигляді. Ступінь зменшення горизонтальних проєкцій ліній місцевості при зображенні їх на планах або картах – називається **масштабом**. Іншими словами, це відношення довжини відрізка на плані чи карті до його горизонтальної проєкції на місцевості.

Масштаб, який виражається у вигляді дробу з чисельником одиниця називають **числовим**, наприклад, $\frac{1}{200}, \frac{1}{500}, \frac{1}{1000}, \frac{1}{10000}$ і т.д. Знаменник числового масштабу є число, яке показує у скільки разів зменшені горизонтальні проєкції ліній місцевості при зображенні їх на плані чи карті.

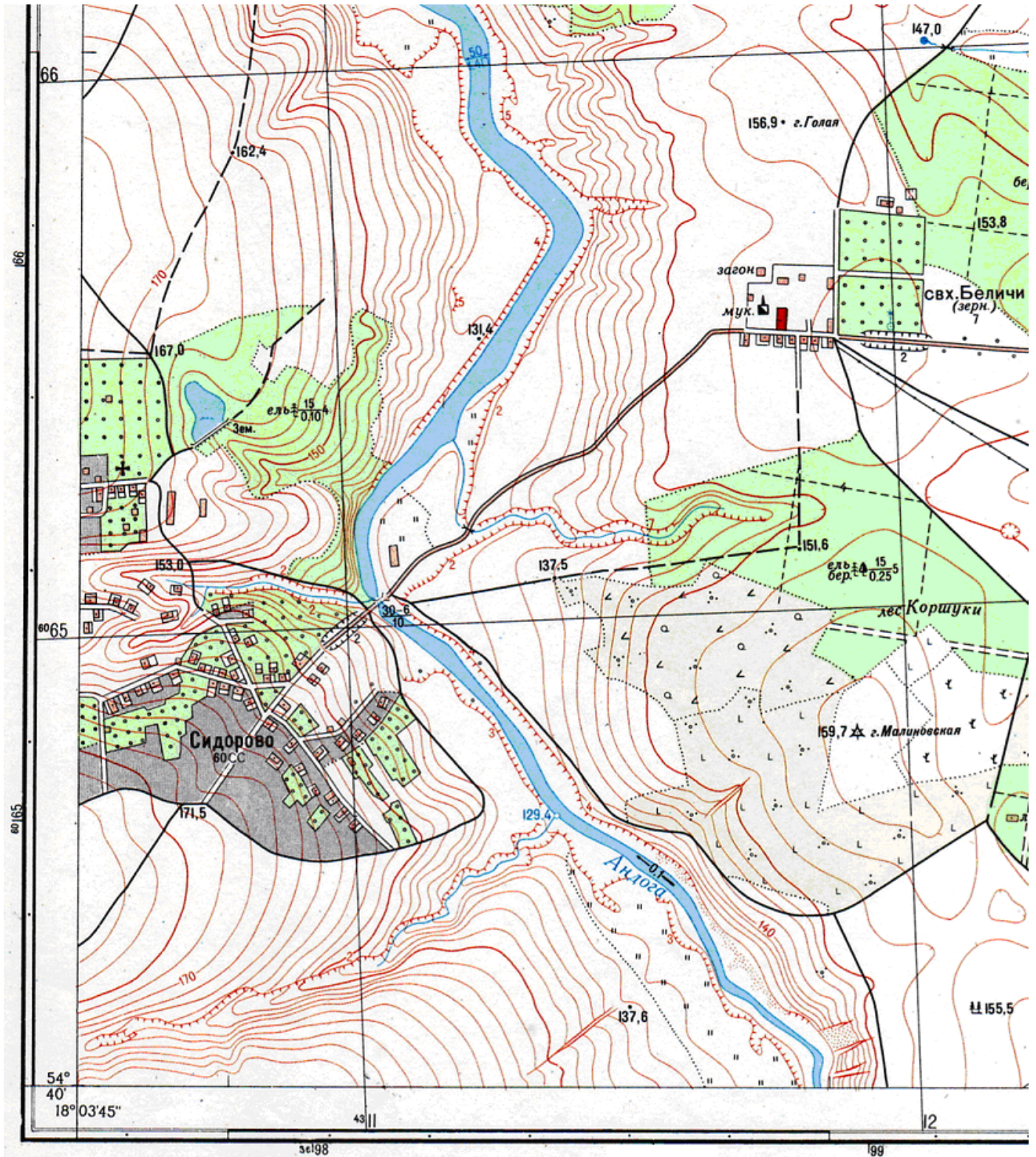
Словесний масштаб – це запис масштабу на карті словами. Наприклад, для карти масштабу 1 : 10 000 - в 1 сантиметрі 100 метрів.

Користування числовим масштабом потребує обчислень. Тому, частіше використовують графічні побудови - так звані, лінійні та поперечні масштаби.

Лінійний масштаб – це графічне зображення чисельного масштабу. Для побудови лінійного масштабу на відрізку прямої відкладають (в сантиметрах) декілька відрізків однакової довжини, які називаються основою масштабу. При основі 2 см масштаб називається нормальним. Ліву основу поділяють на 10 частин.

Лінійний масштаб в багатьох випадках не дозволяє виміряти довжину лінії з необхідною точністю. Точніше вимірюють лінії за допомогою поперечного (сотенного) масштабу [2].

У-34-37-В-В-4



1:10 000

Схилення на 1997 р. східне 6°12' (1-03). Середнє зближення меридіанів західне 2°22' (0-39). При прикладанні бусолі (компаса) до вертикальних ліній координатної сітки середнє відхилення магнітної стрілки східне 8°34' (1-42). Річна зміна схилення східна 0°02' (0-01). Поправка в дирекційний кут при переході до магнітного азимуту (1-43).
 Примітка: В дужках показані поділки кутоміра (одна поділка кутоміра = 3.6)

Рис. І.1.1. Частина навчальної топографічної карти

Поперечний (соченний) масштаб застосовують для визначення довжин ліній на карті з точністю десятих часток міліметра. Для його побудови на відрізку прямої АВ відкладають декілька основ масштабу. Якщо основа 2 см, то такий масштаб називається нормальним. В отриманих точках встановлюють перпендикуляри і проводять через однакові проміжки десять паралельних до лінії АВ. Верхню і нижню крайні зліва основи ділять на 10 рівних відрізків і зеднюють скісними лініями – трансверсальями.

Графічна точність масштабу – це горизонтальна віддаль на місцевості, яка на карті (плані) даного масштабу дорівнює 0,1мм.

Плани та карти викреслюють в умовних знаках для даного масштабу. Умовні знаки прийнято поділяти на масштабні (контурні), напівмасштабні (лінійні), позамасштабні та допоміжні. **Масштабними** називаються умовні знаки, якими відображають предмети місцевості з дотриманням їх розмірів. Лінійні об'єкти зображають на планах і картах **напівмасштабними** умовними знаками, тобто лише їх довжина виражається в масштабі плану чи карти. Предмети місцевості, які не можуть бути виражені в масштабі плану чи карти внаслідок своєї малої величини зображають **позамасштабними** умовними знаками.

Завдання 1: Підписати лінійний масштаб для карти масштабу 1:10000, поданий на рисунку I.1.2 і визначити довжину ліній, позначених на топографічній карті (рис. I.1.1). Вважати, що основа масштабу - 2см.

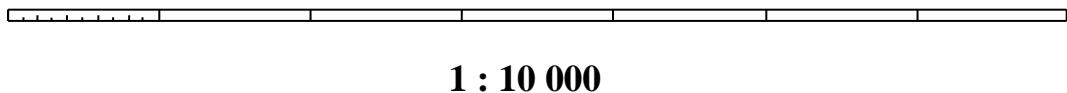


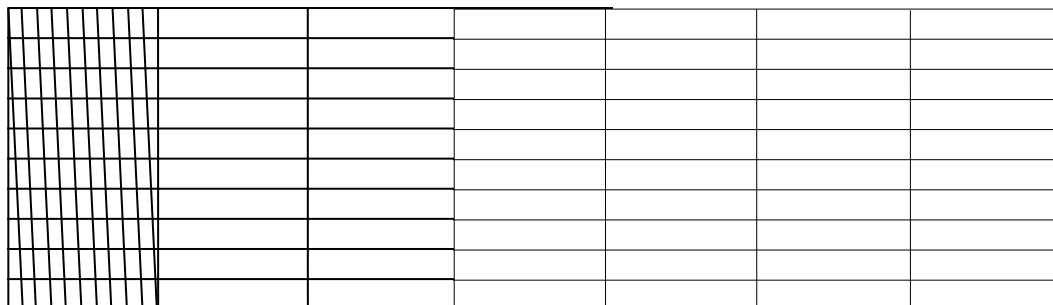
Рис. I.1.2. Лінійний масштаб

За допомогою вимірника відрізки АВ і CD переносять з карти на лінійний масштаб (рис. I.1.2) та позначають хрестиками (х), між якими і визначаються довжини ліній АВ і CD.

$$AB = \underline{\hspace{2cm}} \text{ м}$$

$$CD = \underline{\hspace{2cm}} \text{ м}$$

Завдання 2: Оцифрувати поперечний масштаб для масштабу 1:10000 (рис. I.1.3) та відкласти на ньому довжини ліній АВ і CD, позначені на топографічній карті (рис. I.1.1).



1 : 10 000

Рис. I.1.3. Поперечний масштаб

За допомогою вимірника відрізки АВ і CD переносять з карти на поперечний масштаб (рис. I.1.3) та позначають хрестиками (х), між якими і визначаються довжини ліній АВ і CD.

$$AB = \underline{\hspace{2cm}} \text{ м}$$

$$CD = \underline{\hspace{2cm}} \text{ м}$$

Завдання 3: Виміряти на карті дирекційні кути напрямків АВ і CD, обчислити їх істинні та магнітні азимути.

Орієнтування ліній – це визначення напрямку лінії відносно іншого напрямку, прийнятого за початковий (вихідний). За початковий напрямок в геодезії приймають істинний, магнітний та осьовий меридіани або лінії паралельні їм (для осьового меридіана це лінії кілометрової сітки).

Дирекційним кутом α називають кут, який відраховують від північного напрямку осьового меридіана або лінії, що паралельна до нього, за годинниковою стрілкою до заданої лінії (в межах від 0 до 360°).

На аркушах карти лінії, що паралельні до осьового меридіана, - це вертикальні кілометрові лінії. Тому, для вимірювання дирекційного кута лінії АВ через початкову точку А проводять пряму, що паралельна найближчій вертикальній кілометровій лінії і від її північного напрямку транспортиром вимірюють дирекційний кут лінії АВ. Аналогічно вимірюють дирекційний кут лінії CD та записують їх значення:

$$\alpha_{AB} = \underline{\hspace{1cm}}^{\circ} \underline{\hspace{1cm}}' \quad \alpha_{CD} = \underline{\hspace{1cm}}^{\circ} \underline{\hspace{1cm}}'$$

(на самостійне опрацювання)

Істинним азимутом $A_{\text{іст}}$ називається кут, який відраховується від північного напрямку істинного меридіана або лінії, що паралельна до нього, за годинниковою стрілкою до заданої лінії (в межах від 0 до 360°).

Зближення меридіанів γ - кут між істинним меридіаном і лінією сітки.

Якщо точка знаходиться на схід від осевого меридіана, то значення γ матиме від'ємний знак, якщо на захід – додатній.

Магнітним азимутом $A_{\text{магн}}$ називається кут, який відраховується від північного напрямку магнітного меридіана або лінії, що паралельна до нього, за годинниковою стрілкою до заданої лінії (в межах від 0 до 360°).

Схилення магнітної стрілки δ - кут між магнітним та істинним меридіанами [3].

Схилення магнітної стрілки δ вважають додатнім, коли магнітний меридіан відхиляється на схід від істинного меридіана, від'ємним - коли магнітний меридіан відхиляється на захід від істинного меридіана.

Магнітний азимут на місцевості може бути виміряний за допомогою бусолі.

Для визначення істинного та магнітного азимутів необхідно використати графік, який розміщений під південною рамкою карти з лівої сторони від числового масштабу (див. фрагмент карти рис.1.1). Пояснення до графіку подано на схемі (рис 1.4)

$$\gamma = \underline{\hspace{2cm}}; \quad \delta = \underline{\hspace{2cm}}.$$

Враховуючи знаки γ і δ , істинний та магнітний азимути обчислюють за формулами

$$A_{\text{іст}} = \alpha - \gamma \tag{1.1.1}$$

$$A_{\text{магн}} = A_{\text{іст}} - \delta \tag{1.1.2}$$

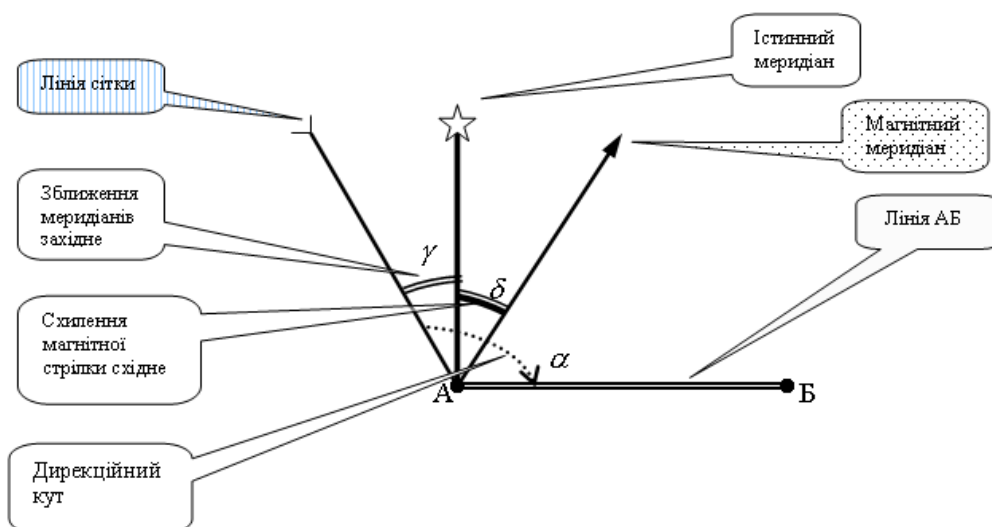


Рис. І.1.4. Графік закладень

Дані обчислень:

(Лінія AB) $A_{іст} =$ _____
 $A_{магн} =$ _____

(Лінія CD) $A_{іст} =$ _____
 (на самостійне опрацювання)
 $A_{магн} =$ _____

Завдання 4: Визначити на карті геодезичні та прямокутні координати точок A і B .

На аркушах сучасних топографічних карт нанесена сітка ліній абсцис та ординат, яку називають **координатною (кілометровою) сіткою**. Прямокутні координати точок A і B (X_A, Y_A, X_B, Y_B) визначають відносно ліній кілометрової сітки, причому “ X ” – віддаль в кілометрах від площини екватора до шуканої точки; “ Y ” – має 4-5 значущих цифр: перші 1 або 2 – це номер зони, три останні - відстань в км від умовного початку координат.

Окрім того, на аркуші карти підписані широти та довготи кутів рамок – це є їх геодезичні координати. Рамки поділені на хвилини широти і довготи, які, в свою чергу, поділені крапками на 6 проміжків по 10 секунд кожний.

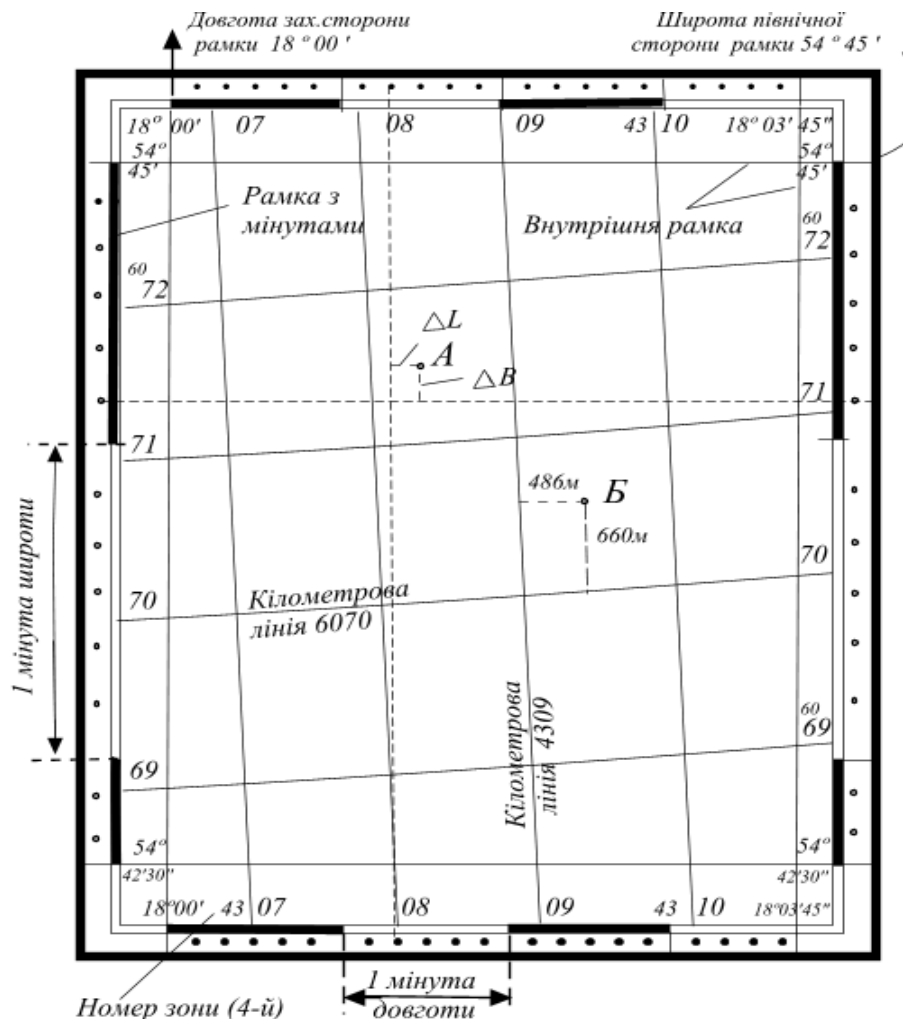


Рис. І.1.5. Визначення прямокутних та геодезичних координат

Геодезична широта B – це гострий кут, утворений нормаллю до поверхні еліпсоїда і площини екватора. Геодезичні широти відлічують від площини екватора в межах $0^\circ - \pm 90^\circ$. Для точок північної півсфери вони додатні, для південної - від’ємні.

Геодезична довгота L - це двогранний кут, утворений площиною початкового меридіана і площиною меридіана, що проходить через задану точку. Геодезичні довготи, відлічувані від площини початкового меридіана на схід в межах $0^\circ - + 180^\circ$, називають східними, а на захід – західними.

Для визначення на карті широти точки необхідно через точку провести лінію, паралельну до північної або південної рамки. В точці перетину паралелі з рамкою карти, де є поділки мінут та десятків секунд, слід відраховувати значення широти (рис.1.5). Для визначення довготи точки належить через точку провести лінію, паралельну до західної або східної рамки. В точці перетину лінії з рамкою карти, де є поділки мінут та десятків секунд, слід відраховувати значення довготи [4].

Приклад (див. рис. 1.1.5):

$$B_A = 54^\circ 44' 10'' + \Delta B = 54^\circ 44' 18''; \quad L_A = 18^\circ 01' 20'' + \Delta L = 18^\circ 01' 29''$$

$$X_B = 6\,070 + \Delta x = 6\,070\,660 \text{ м}; \quad Y_B = 4\,307 + \Delta y = 4\,307\,486 \text{ м}$$

Значення прямокутних та геодезичних координат точок A і B (з карти на рис. 1.1):

$$X_A = \underline{\hspace{10em}} \text{ м} \qquad B_A = \underline{\hspace{10em}}$$

$$Y_A = \underline{\hspace{10em}} \text{ м} \qquad L_A = \underline{\hspace{10em}}$$

(на самостійне опрацювання)

$$X_B = \underline{\hspace{10em}} \text{ м} \qquad B_B = \underline{\hspace{10em}}$$

$$Y_B = \underline{\hspace{10em}} \text{ м} \qquad L_B = \underline{\hspace{10em}}$$

Оцінка: _____

Виконав/ла ст. гр. - _____

Викладач: _____

“ _____ ” _____ 20__ р.

РОЗДІЛ 1.2. РОЗВ'ЯЗУВАННЯ ЗАДАЧ НА ТОПОГРАФІЧНІЙ КАРТІ

Зображення рельєфу на планах та картах є надзвичайно складним завданням. Рельєф – це просторовий об'єкт, і його, як правило, розглядають в перспективі, тоді як зображають на площині. Рельєф – це сукупність нерівностей земної поверхні, що утворюються на межі літосфери з атмосферою і гідросферою [5].

Способи зображення рельєфу:

- Світло-тіньове зображення рельєфу (випуклі форми рельєфу більш освітлені, впадини – затемнені);
- За допомогою штрихів (рельєф зображають виходячи з принципу прямовисного освітлення земної поверхні, при якому вона буде менш освітленою, коли крутизна схилу буде більша. Відповідно до крутизни схилу будуються шкали, де вказано співвідношення товщини штриха до відстані між штрихами. Використовувався цей метод в 18-19 ст.);
- Гіпсометричний (кожному діапазону висот відповідає певний колір або його відтінок);
- За допомогою горизонталей (основний).

Горизонталі – це лінії, які з'єднують точки з однаковими висотами. Вони мають наступні властивості.

- Горизонталі – зімкнуті криві в межах плану або карти;
- Горизонталі на карті або плані є неперервними лініями. Вони можуть перериватись лише через яри і ріки.
- **Горизонталі не можуть пересікатись і розгалужуватись. Винятком може бути хіба нависла в горах скала;**
- Віддаль між горизонталями характеризує крутизну схилу, тобто чим ближче розташовані горизонталі на карті, тим крутіший схил. Напрямок схилу позначається *схилштрихами* (*бергштрихами*);
- Горизонталі мають висоти, кратні висоті перерізу рельєфу. Наприклад, при перерізі рельєфу 2,5м, горизонталі будуть мати висоти 150м, 152,5м, 155м.

Вивчення рельєфу топографічної карти починається з визначення напрямків підвищення та зниження місцевості. При цьому керуються наступними ознаками:

- схилштрихи (бергштрихи) завжди направлені у сторону зниження рельєфу;
- основи цифр, якими підписані горизонталі, збігаються з напрямком зниження схилу;
- у напрямку водойм та водостоків місцевість знижується;
- стрімкість схилу характеризується величиною закладення – віддаллю між горизонталями, чим більша віддаль – тим пологіший схил, і навпаки, чим менша віддаль – тим схил крутіший;

- горизонталі згинаються на водороздільних лініях хребтів і на тальвегах лощин.

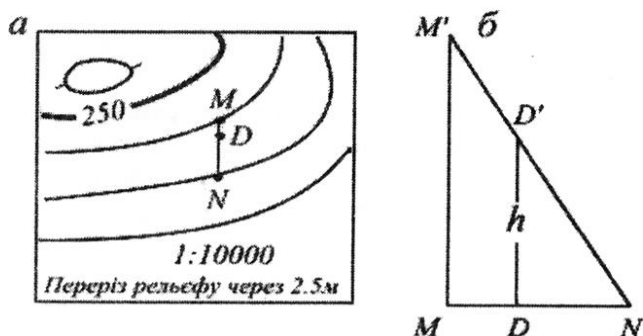
Завдання 1: Визначити висоту точки D , яка розташована між двома горизонталями (див. рис. I.2.1)

При розв'язуванні цієї задачі спочатку визначають і підписують на схематичному рисунку висоти двох суміжних горизонталей, між якими знаходиться точка D . Потім проводять найкоротшу пряму лінію через точку D між двома суміжними горизонталями (рис. I.2.1.а).

Горизонталь з позначкою 245 м, на якій лежить точка N , називається молодшою, а горизонталь з позначкою 247,5 м, на якій лежить точка M , - старшою.

Взаємне розміщення точок N , D і M показано на рис. I.2.1.

Точкам D і M на карті відповідає їх просторове положення D' і M' . З рис. I.2.1.б. запишемо шукану висоту $H_{D'}$:



$$H_{D'} = H_N + h, \quad (I.2.1)$$

де h - перевищення точки D' над точкою N .

Таким чином, розв'язування задачі зводиться до обчислення h .

З подібних трикутників $MM'N$ і $DD'N$ запишемо відношення:

Рис. I.2.1. Схематичне визначення висоти

$$\frac{DD'}{MM'} = \frac{DN}{MN}, \quad (I.2.2)$$

$$\text{звідки } DD' = h = \frac{MM' \cdot DN}{MN}. \quad (I.2.3)$$

Зауважимо, що MM' - це переріз рельєфу і в даному випадку дорівнює 2,5 м. В подальшому необхідно виміряти на карті відрізок DN і MN . Ці вимірювання виконують за допомогою циркуля - вимірника з точністю до 0,1 мм.

Обчислюють h з точністю до 1 см, тобто до двох знаків після коми.

$$h = \underline{\hspace{2cm}} = \underline{\hspace{2cm}} \text{ м}$$

Відповідь: $H_D = \underline{\hspace{2cm}} = \underline{\hspace{2cm}} \text{ м.}$

Завдання 2: (на самостійне опрацювання) Побудувати повздовжній профіль поверхні землі між пунктами А та Е та зробити висновки щодо видимості одного пункту з іншого.

Для цього необхідно на карті з'єднати прямою лінією вихідні пункти А і Е (викладачем задаються індивідуально на фрагменті карти) і підписати на карті позначки горизонталей, які перетинає лінія АЕ. Для прикладу така побудова подана на рис. І.2.2. Точки перетину лінії АЕ з цими горизонталями послідовно нумеруються числами 1, 2, 3 ... і так далі (див. рис. І.2.2).

Лінію АЕ переносять на папір зі збереженням масштабу і позначають точки, в яких лінія АЕ перетинає горизонталі (рис. І.2.2). Побудована лінія буде основою профілю, а перпендикулярна до неї – лінія з відповідним оцифруванням значень висот горизонталей в масштабі. Вертикальний масштаб, зазвичай, приймають таким, щоб одному сантиметру відповідало значення перерізу рельєфу. В розглянутому прикладі по вертикалі в 1 см - 2.5 метри.

Наступним етапом розв'язування задачі є побудова профілю - у кожній з відкладених на горизонтальній осі точці відкладають вертикально відрізок, який відповідає позначці кожної з цих точок. Позначки точок беруть на карті (див. рис. І.2.2). Нанесені на сітку профілю точки А-1-2-3 - 7 - Е з'єднують плавною лінією.

Якщо по лінії побудови профілю є лісові масиви чи насадження, необхідно побудувати на профілі у відповідному місці схематичне зображення цього масиву, відклавши вертикально середню висоту дерев цього лісу відповідно до прийнятого вертикального масштабу профілю. Так, для розглянутого прикладу середня висота дерев лісового масиву урочища Дуброва (рис. І.2.2) дорівнює 10 м, що відповідає 4 см у вертикальному масштабі профілю. В точці 5' і б' відкладають вгору від лінії профілю відрізки довжиною в 4 см.

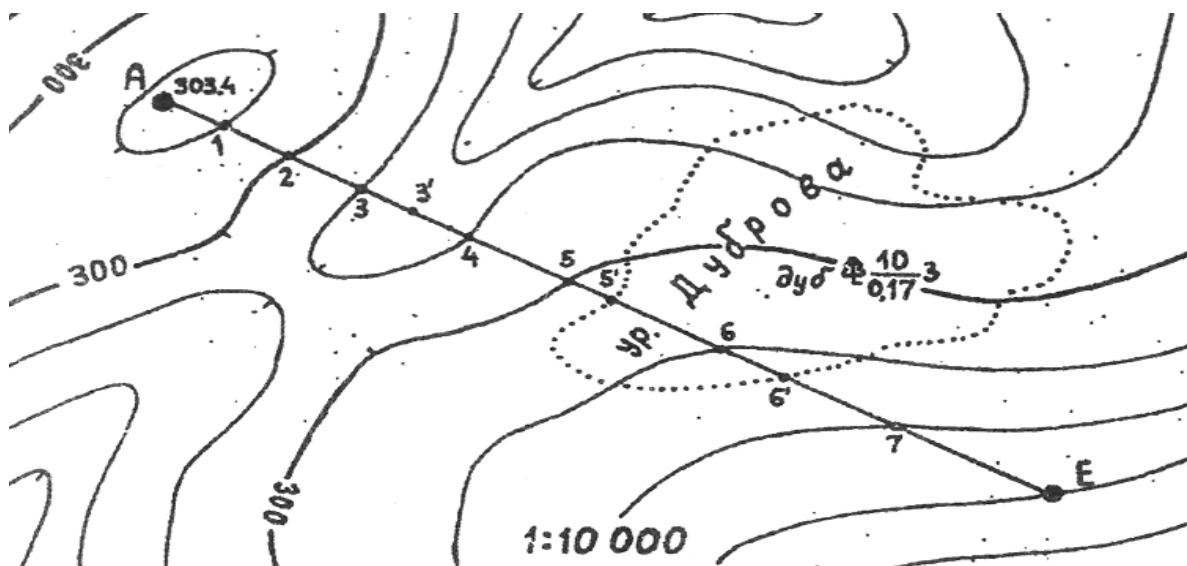


Рис. І.2.2. Точки перетину горизонталей з лінією АЕ

Закінченням графічної побудови цієї задачі буде з'єднання на профілі просторових положень точок A і E ; бажано цю лінію на профілі показати червоним кольором. Тільки тепер, після виконання всіх описаних побудов, можна висловитися щодо взаємної видимості між пунктами A і E . Якщо червона лінія не зустрічає на своєму шляху перешкод, пункт E видно з пункту A , якщо зустрічає - видимість відсутня. В даному випадку пункт E не видно з пункту A внаслідок перешкод у вигляді дерев урочища Дуброва.

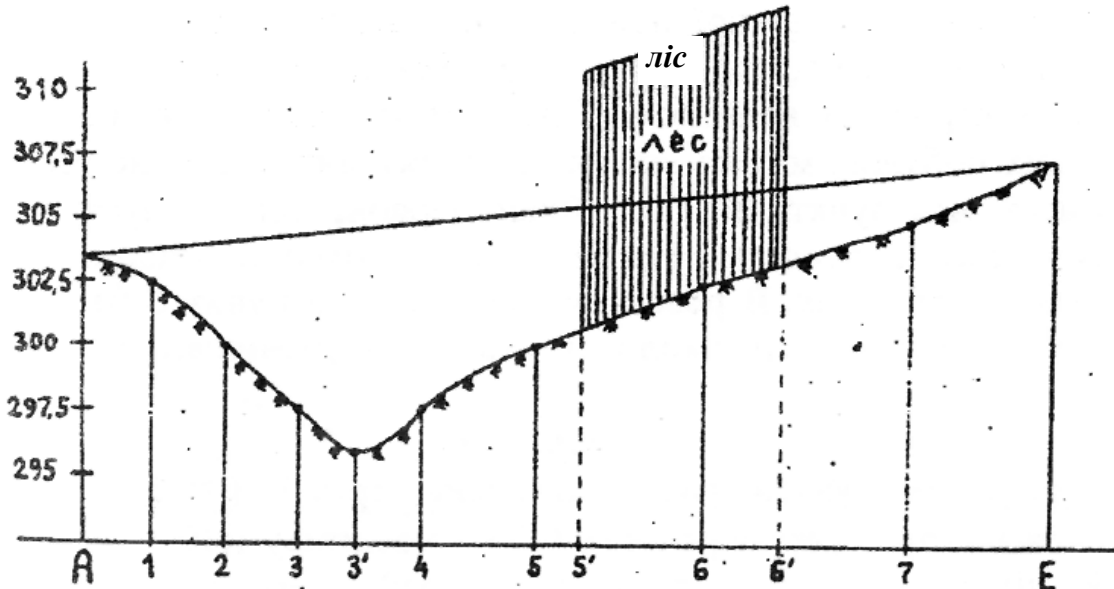


Рис. І.2.3. Профіль між точками A і E

Побудувати повздовжній профіль поверхні землі між пунктами A та E (рис. І.2.4) та зробити висновки щодо видимості одного пункту з іншого.




Рис. І.2.4. Профіль по лінії AE (до завдання 2)

Висновок: _____

Завдання 3: Прокласти на фрагменті топографічної карти (рис. І.1.1) лінію між двома точками MN із заданим ухилом i_0 (точки MN та величину ухилу задає викладач). Масштаб карти 1:10000, переріз рельєфу $h=2,5$ м.

$$i_0 = \underline{\hspace{2cm}}$$

Для розв'язування цієї задачі скористаємося формулою $i_0 = h / d_0$, де d_0 - горизонтальна проекція лінії, яка відповідає заданому ухилу i_0 при даному перерізі рельєфу h .

Звідси
$$d_0 = \frac{h}{i_0} = \frac{2,5 \text{ м}}{\hspace{1cm}} = \underline{\hspace{1cm}} \text{ м}.$$

В масштабі карти

$$d_0 = \underline{\hspace{1cm}} \text{ см}$$

Приклад. Розглянемо прокладення лінії з ухилом $i_0 = 0,020$ між точками M і N (рис. І.2.5). Масштаб карти 1:10000, переріз рельєфу $h=2,5$ м. Тоді

$$d_0 = 2,5 / 0,020 = 125 \text{ (м)}.$$

Розхилом циркуля-вимірювача на величину d_0 , що дорівнює 12,5мм в масштабі карти, прокладаємо лінію заданого ухилу між точками M і N (див. рис. І.2.4).

Одну з ніжок циркуля ставлять у точку M , а другою ніжкою циркуля засікають точку 1 на суміжній горизонталі в напрямі точки N . Із точки 1 аналогічно засікають на наступній суміжній горизонталі точку 2 , далі із точки 2 - точку 3 і т.д. до горизонталі, на якій розміщена точка 9 (див.рис. І.2.4).

Розглянемо два рівноцінних випадки проведення лінії із точки 9 в точку N .

В першому випадку точку 10 вибирають таким чином, щоб віддаль $9 - 10$ була більша або дорівнювала d_0 і щоб потім точка N лежала на лінії $10 - 11$, яка також більша чи дорівнює d_0 . В цьому випадку ухил на відрізку $10 - N$ не буде перевищувати заданий.

В іншому випадку із точки 9 розхилом циркуля d_0 засікають положення точки $10'$, при цьому відрізок $10' - 11'$, який проходить через точку N , також повинен бути більший чи дорівнювати d_0 .

В місцях з пологим рельєфом, де віддаль між сусідніми горизонталями більша d_0 проєктована лінія може розміщуватись вільно в напрямі на кінцеву точку ходу. Приклад такого розміщення - лінія 6-7 на рис. 1.2.4. При цьому, як видно на рисунку, півгоризонталь до уваги не береться.

Допускається прокладення лінії з меншим ухилом на ділянках, коли віддаль між сусідніми горизонталями більша ніж d_0 .

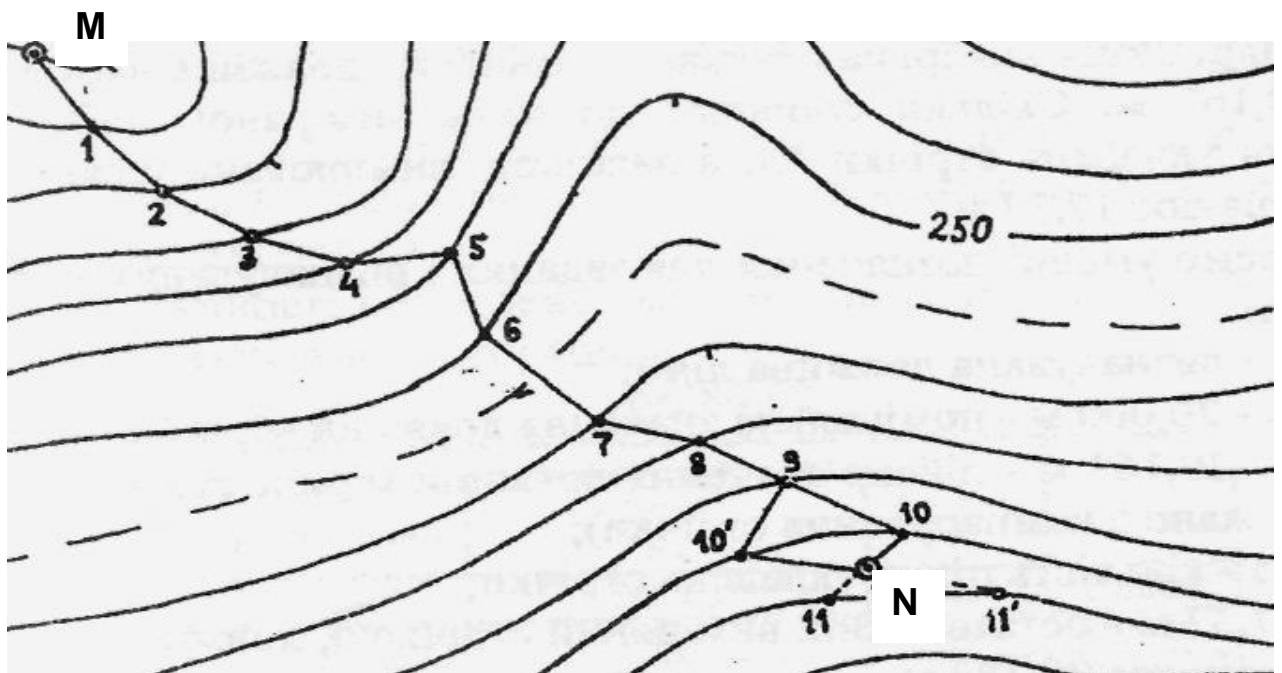


Рис. 1.2.5. Прокладення лінії за визначеним ухилом

Оцінка: _____

Виконав/ла ст. гр. - _____

Викладач: _____

“ _____ ” _____ 20__ р.

РОЗДІЛ 1.3. НОМЕНКЛАТУРА КАРТ ТА ПЛАНІВ

В сільськогосподарському виробництві значна кількість робіт пов'язана з використанням картографічних матеріалів, планів та карт сільськогосподарських угідь різних масштабів.

Для зручності користування картою та виділення її серед інших аналогічних багатоаркушевих карт, кожному аркушеві карти надається певне найменування (позначення). Система таких найменувань окремих аркушів карти називається номенклатурою карти. **Номенклатура** – це умовне літероцифрове позначення листів карт та планів, яке дозволяє визначити положення на земній кулі тієї частини території, що зображена на тих листах. Розграфлення – це прийнята система поділу карт або планів на окремі аркуші (трапеції) [6].

Основою номенклатурного ряду карт різних масштабів є карта масштабу

1 : 1 000 000. На кожному аркуші карти цього масштабу земна поверхня зображена у вигляді трапеції, сторонами якої є меридіани і паралелі. Номенклатура аркушів цієї карти складається з великої літери латинського алфавіту **A, B, C, D, E, F, ... Z**, що відповідають 4-градусним широтним смугам – поясам, які відлічують від площини екватора до полюсів і арабської цифри **1, 2, 3, ... 60**, що означає номер 6-градусної колони, і відлічується із заходу на схід (проти годинникової стрілки) від меридіана з довготою 180°. Цей меридіан називається **початковим** або **Грінвіцьким**.

Меридіан – це лінія перетину земної поверхні площиною, що проходить через напрям прямої лінії в певній точці і паралельна до осі обертання Землі.

Паралель – це лінія перетину земної поверхні площиною, яка перпендикулярна до осі обертання Землі і паралельна до площини екватора.

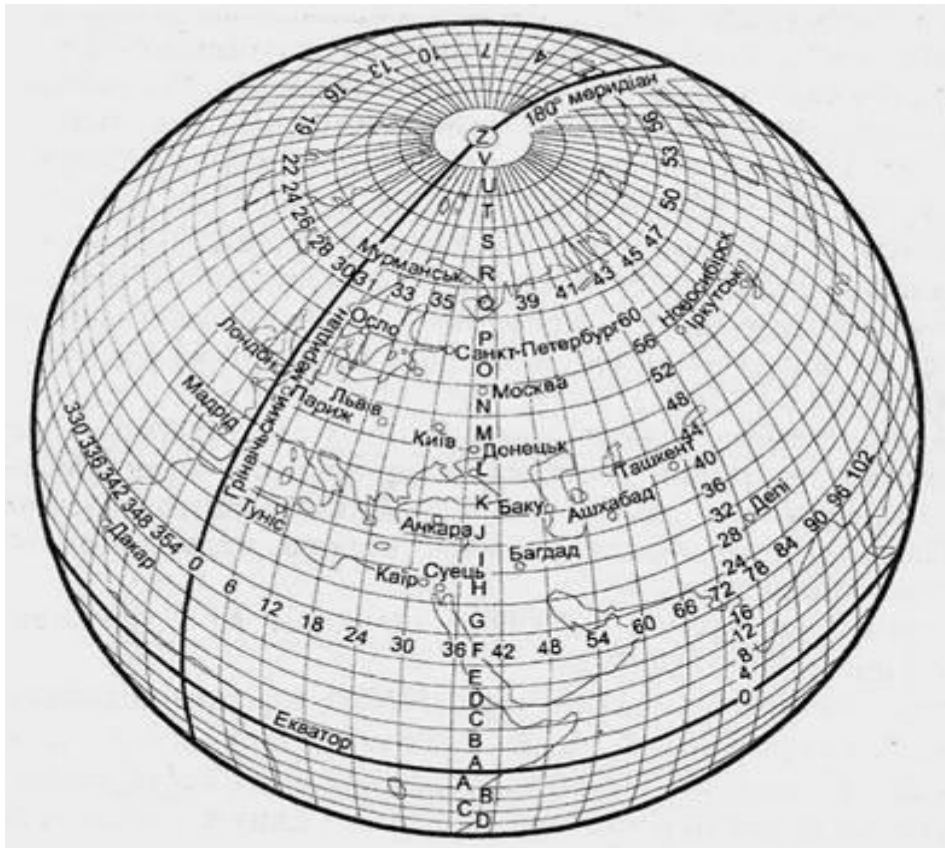


Рис. І.3.1. Схема розграфлення аркушів карти масштабу 1:1 000000

Для прикладу, з рисунку І.3.1 номенклатура аркуша карти масштабу 1:1000 000, де розташована столиця нашої держави м.Київ, є М-36.

Завдання 1: Розрахувати геодезичні координати вершин кутів рамки трапеції масштабу **1:10 000** за заданою номенклатурою

$$M - (30 + N_{гр.}) - N_{ш/п} - A - a - 1.$$

Наприклад, для групи БД-15 ($N_{гр.} = 5$) і порядкового номеру студента $N_{ш/п} = 22$ номенклатура матиме вигляд

$$M - 35 - 22 - A - a - 1.$$

Перш за все розглянемо номенклатурний ряд від аркуша масштабу **1:1 000 000** до масштабу **1:10 000**.

Для цього спочатку розраховують аркуш карти **М-35** масштабу **1:1 000 000**. Далі, цей аркуш поділяють на **144** частини і отримують карту масштабу **1:100 000** з номенклатурою, наприклад, **М-35 -115**. *Аркуші карт масштабів 1:50 000, 1:25 000, 1:10 000, мають в основі аркуш карти масштабу 1:100 000*

Подальший поділ можна записати у вигляді:

- **1:100 000** поділяють на 4 частини = **1:50 000** і позначають буквами **А, Б, В, Г**, наприклад (**М-35-115-А**) ;
- **1:50 000** поділяють на 4 частини = **1:25 000** і позначають малими буквами **а, б, в, г**, наприклад (**М-35-115-А-а**);
- **1:25 000** поділяють на 4 частини = **1:10 000** і позначають арабськими цифрами **1, 2, 3, 4**, наприклад (**М-35-115-А-а-1**).

Для розрахунку геодезичних координат рамки аркуша карти масштабу **1:1 000 000** використовують наступні формули:

Значення широти північної рамки $V_{пн}$ обчислюють як

$$V_{пн} = \text{Номер букви (номер букви М - 13)} \cdot 4^\circ = \underline{\quad} \cdot 4^\circ = \underline{\quad}^\circ \quad (\text{I.3.1})$$

Значення широти південної рамки $V_{пд}$ дорівнює:

$$V_{пд} = V_{пн} - 4^\circ = \underline{\quad}^\circ - 4^\circ = \underline{\quad}^\circ \quad (\text{I.3.2})$$

Значення довготи східної рамки $L_{сх}$ дорівнює:

$$L_{сх} = (\text{Номер колони} - 30) \cdot 6^\circ = (35 - 30) \cdot 6^\circ = \underline{\quad}^\circ \quad (\text{I.3.3})$$

Значення довготи західної рамки $L_{зх}$ дорівнює :

$$L_{зх} = L_{сх} - 6^\circ = \underline{\quad}^\circ - 6^\circ = \underline{\quad}^\circ \quad (\text{I.3.4})$$

Розрахувавши за формулами (3.1 – 3.4) координати рамки аркуша карти масштабу **1:1 000 000**, викреслюють трапецію з номенклатурою, наприклад, **М – 35**.

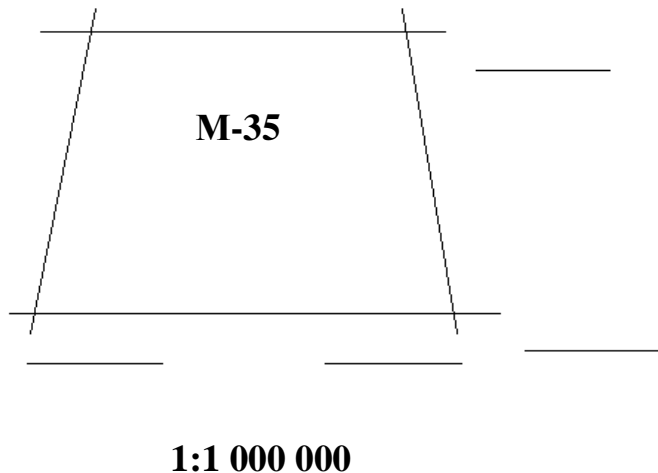


Рис. I.3.2. Аркуш карти М 1:1000 000

Для розрахунку широт і довгот вершин рамки трапеції масштабу **1:100 000**, наприклад, **М - 35 - 144** знову викреслюють трапецію **М - 35** та поділяють її на **12** частин по широті і **12** частин по довготі. Кожна з отриманих **144** трапецій має наступні розміри :

по довготі - $6^\circ : 12 = 360' : 12 = 30'$

по широті - $4^\circ : 12 = 240' : 12 = 20'$.

1	2	3	4	5	6	7	8	9	10	11	12
13											24
25											36
37											48
49											60
61											72
73											84
85											96
97											108
109											120
121											132
133	134	135	136	137	138	139	140	141	142	143	144

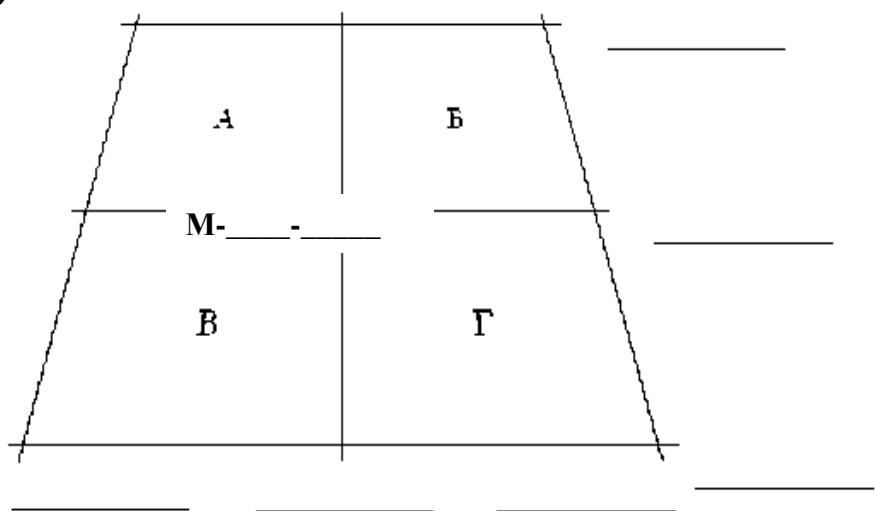
1 : 1 000 000

Рис. І.3.3. Схема поділу аркуша карти М 1:1 000 000

Подальший крок полягає в переході до масштабу **1:50 000** поділом аркуша карти **1:100000** на 4 частини. Аркуш карти з номенклатурою, наприклад, **М - 35- 144 - Б** має розміри:

по довготі $30' : 2 = 15'$

по широті $20' : 2 = 10'$



1:100 000

Рис. І.3.4. Схема поділу аркуша карти М 1:100 000

Для отримання аркушу карти масштабу **1:25 000** необхідно аркуш масштабу **1:50 000** поділити на 4 частини. Шукана номенклатура буде М- ____ - ____ - ____ - ____, а розміри :

по довготі $15' : 2 = 7,5'$

по широті $10' : 2 = 5'$

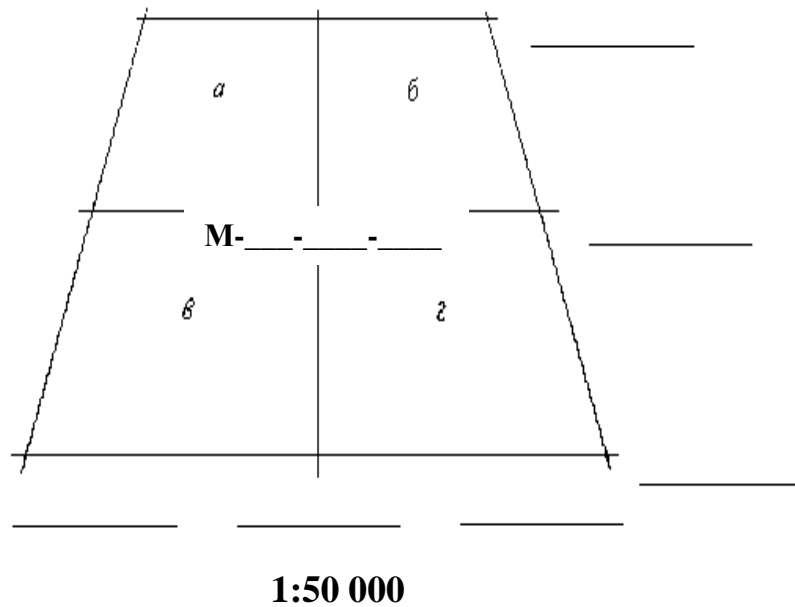


Рис. І.3.5. Схема поділу аркуша карти М 1:50 000

»

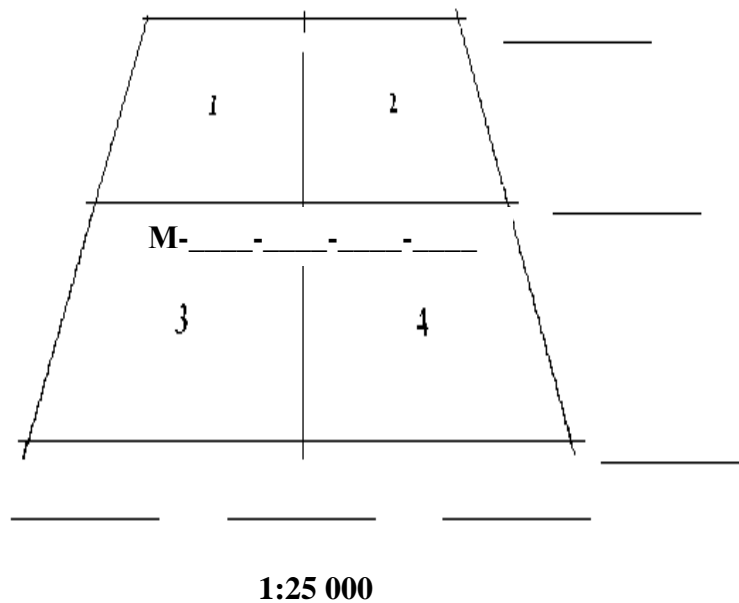


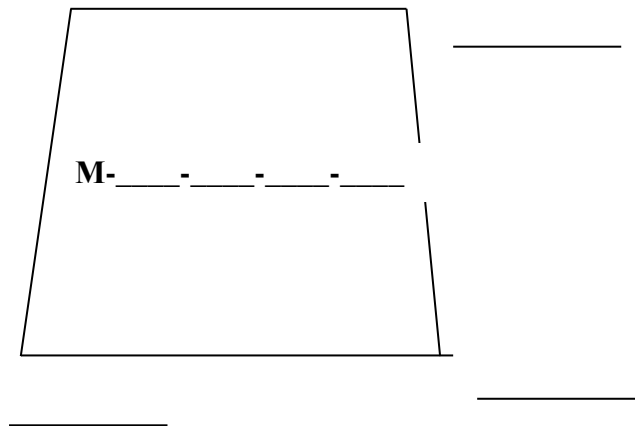
Рис. І.3.6. Схема поділу аркуша карти М 1:25 000

I, нарешті, поділ аркуша карти масштабу **1 : 25 000** на 4 частини дасть аркуш карти масштабу **1 : 10 000** з номенклатурою **М-_____ - _____ - _____ - _____ - _____** та розмірами :

по довготі $7,5' : 2 = 450'' : 2 = 3' 45''$

по широті $5' : 2 = 2,5' = 2' 30''$

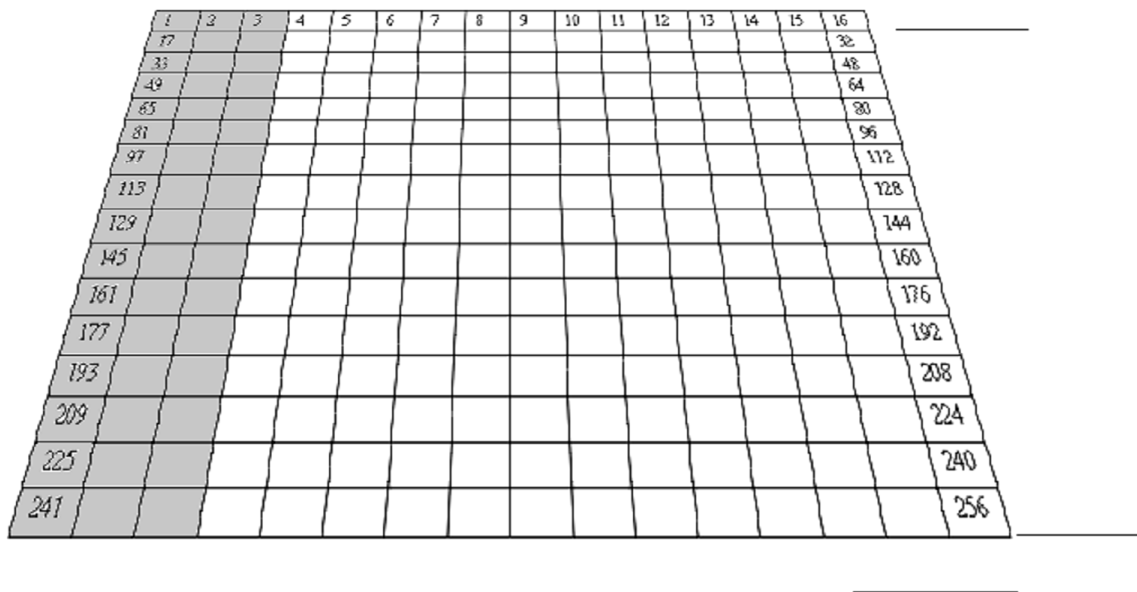
Викреслюють аркуш масштабу **1:10 000** з номенклатурою **М-_____ - _____ - _____ - _____ - _____**



1:10 000

Рис. І.3.7. Аркуш карти М 1:10 000

Завдання 2(на самостійне опрацювання): Розрахувати геодезичні координати вершин кутів рамки трапеції масштабу **1:2 000** за номенклатурою **М – (30+ N_{гр.}) – N_{п/п} – (N_{п/п} - Г)**.



1:100 000

Рис. І.3.8. Схема поділу аркуша карти М 1:100 000

Викреслюють трапецію масштабу **1:5 000** з номенклатурою **М-_____ - _____ - (_____)**.

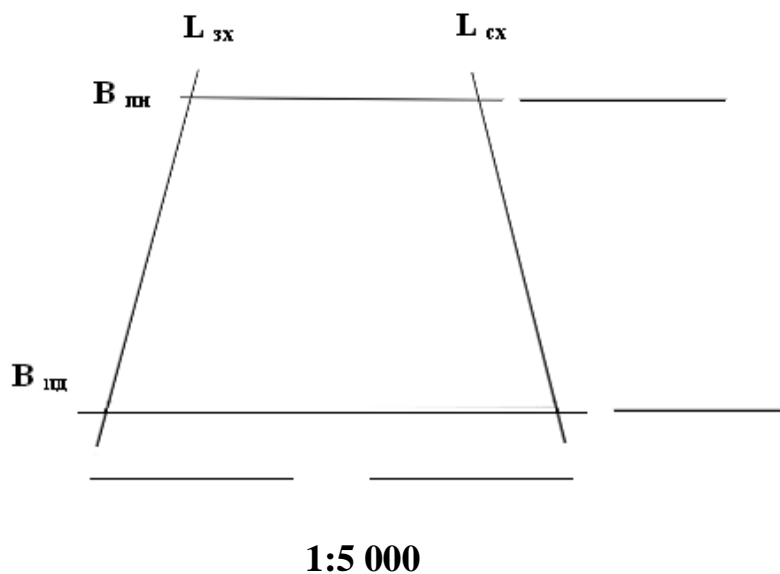
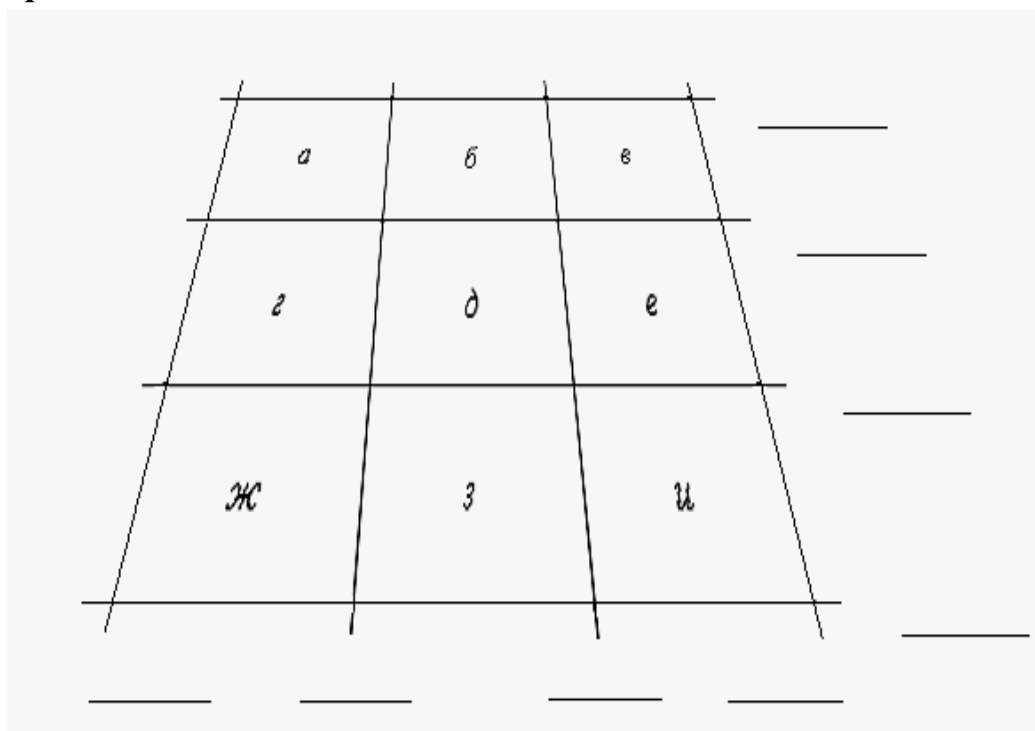


Рис. І.3.9. Аркуш карти М 1:5000

Номенклатуру аркуша масштабу **1:2 000** отримують поділом аркуша масштабу **1:5 000** на 9 частин. Кожна з отриманих 9 трапецій буде планом масштабу **1:2 000** з розмірами:

по довготі: $1' 52,5'' : 3 = 112,5'' : 3 = 37,5''$

по широті: $1' 15'' : 3 = 75'' : 3 = 25''$



1:5 000

Рис. І.3.10. Схема поділу аркуша карти М 1:5000

На рис. І.3.10 позначити аркуш масштабу **1:2 000** з номенклатурою М-___-___- (___-___)

Оцінка: _____

Виконав/ла ст. гр. - _____

Викладач: _____

“ _____ “ _____ 20____ р.

РОЗДІЛ І.4. ВИМІРЮВАННЯ ЛІНІЙ НА МІСЦЕВОСТІ

В геодезичних та землевпорядних роботах у сільському господарстві лінійні вимірювання виконують мірними стрічками, рулетками, нитковим та оптичним віддалемірами, електронними тахеометрами. Для топографо-геодезичних та вишукувальних робіт часто застосовується землемірна стрічка і рулетка, а також лазерні рулетки, наприклад **Leica DISTO™A5** (Рис. І.4.1 – І.4.3).



Рис. І.4.1. Землемірна стрічка



Рис. І.4.2. Рулетка РК-50



Рис. І.4.3. Leica DISTO™A5

Перед початком лінійних вимірювань проводять компарування стрічок та рулеток. За еталон або компаратор приймають відрізки ліній на місцевості або в лабораторії, довжини яких відомі з високою точністю, близько 1:100000. Знаючи точну довжину компаратора L_0 і вимірявши його довжину L за допомогою стрічки (рулетки), що перевіряється, визначають поправку за компарування Δl_k та дійсну довжину l стрічки (рулетки):

$$\Delta l_k = \frac{L_0 - L}{n}, \quad (I.4.1)$$

$$l = l_0 + \Delta l_k, \quad (I.4.2)$$

де n – кількість укладень стрічки, l_0 – номінальна довжина сталюї стрічки.

Процес вимірювання лінії починається з провішування лінії, тобто фіксації лінії на місцевості за допомогою віх (рис. І.4.4). Кожне вкладення лінії повинно бути в створі лінії. **Створ лінії** – це прямовисна площини, що проходить через кінцеві точки лінії.

Якщо вимірювання лінії не буде виконуватись в створі (тобто не по прямій, а по ламаній лінії), тоді виміряна довжина лінії буде більша за дійсну, оскільки ламана лінія завжди довша за пряму.

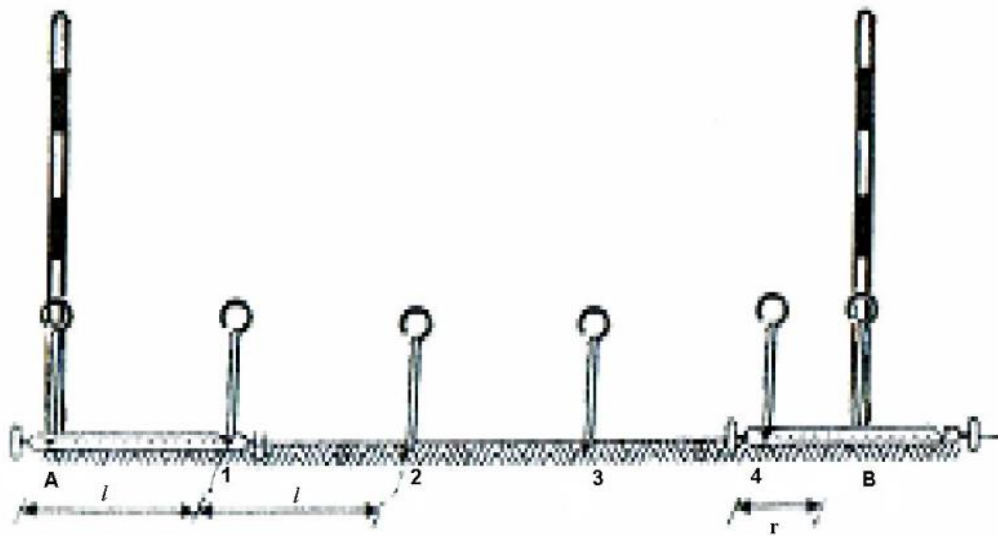


Рис.І.4.4. Вимірювання ліній стрічкою

Лінію між точками місцевості вимірюють в прямому та зворотньому напрямках. Довжина лінії, що виміряна стрічкою, обчислюється за формулою

$$S = n \cdot l_0 + r, \quad (\text{I.4.3})$$

де n - кількість укладень стрічки; l_0 - номінальна довжина сталюї стрічки; r - довжина доміру (залишок) [6].

Якщо довжина стрічки відрізняється від номіналу l_0 , то вводять поправку за компарування стрічки Δl_k . В такому випадку довжина лінії обчислиться за формулою

$$S = n(l_0 + \Delta l_k) + \frac{\Delta l_k}{l_0} \cdot r + r + \Delta S_t, \quad (\text{I.4.4})$$

де ΔS_t - поправка у виміряну довжину лінії за різницю температур при компаруванні і вимірюванні лінії, яка обчислюється за формулою

$$\Delta S_t = \alpha(t_{\text{середн.}} - t_k)S, \quad (\text{I.4.5})$$

де $\alpha = 0,0000125$ - коефіцієнт лінійного розширення сталі; $t_{\text{середн.}}$ - середня температура, при якій проводились виміри; t_k - температура при компаруванні стрічки; S - довжина лінії без введення поправок за компарування. ΔS_t вводиться тільки тоді, коли різниця $t_{\text{середн.}} - t_k \geq 8^\circ \text{C}$.

Як відомо, на місцевості вимірюють похилу лінію S . Для побудови плану використовують її горизонтальне прокладення d , тобто її проекцію на горизонтальну площину. Щоб визначити горизонтальну проекцію лінії місцевості, необхідно виміряти кут нахилу ν . Тоді

$$d = S \cdot \cos \nu \quad (\text{I.4.6})$$

Завдання 1: Визначити довжину лінії S , що виміряна 20-ти метровою стрічкою, коли відомо:

$$n = 6; \quad r = \text{_____}^*)\text{м};$$

$$S' = n \times l_0 + r = \text{_____} \text{ м}$$

Відповідь: $S = \text{_____} \text{ м}.$

Завдання 2: Обчислити горизонтальне прокладення (проекцію) лінії d якщо відома довжина похилої лінії S (значення S взяти із завдання 1) та кут її нахилу до горизонту $\nu = +4^{\circ}30'$.

$$d = \text{_____} = \text{_____} \text{ м}$$

Відповідь: $d = \text{_____} \text{ м}.$

*)значення r вибрати згідно з порядковим номером в журналі: 1-й – 1,01 м; 8-й – 8,08 м; 10-й – 10,10 м; і т.д.

Оцінка: _____

Виконав/ла ст. гр. - _____

Викладач: _____

“ _____ “ _____ 20 _____ р.

ГЛАВА II. ГОРИЗОНТАЛЬНЕ ЗНІМАННЯ

РОЗДІЛ II.1. БУДОВА ТА ПЕРЕВІРКИ ТЕХОДОЛІТІВ

Прилад для вимірювання кутів між точками на земній поверхні називається *теодолітом*. В сільськогосподарському виробництві при проведенні геодезичних вимірювань найчастіше використовують технічні теодоліти серії Т30 (2Т30, 4Т30П), які дозволяють виміряти кут одним прийомом з похибкою 30" [7,14].




Рис. II.1.1. Теодоліт 2Т30 (з боку вертикального круга)




Рис. П.1.2. Теодоліт 2Т30 (з боку колонки)

Завдання 1. На рис. П.1.1 та П.1.2 підписати частини теодоліта 2Т30

Завдання 2: Виконати перевірки теодоліта 2Т30.

1. Перевірка циліндричного рівня на алідаді горизонтального круга
(допуск - відхилення бульбашки рівня не повинно перевищувати 2-х поділок)

- **умова перевірки: Вісь циліндричного рівня повинна бути перпендикулярна до вертикальної осі теодоліта**

- **виконання перевірки** _____

- **результат (висновок)** _____

- **послідовність виправлення рівня** _____

2. Перевірка колімаційної похибки

(допуск - значення колімаційної похибки C не повинно перевищувати $\pm 1'$)

- **умова перевірки: Візирна вісь труби повинна бути перпендикулярна до горизонтальної осі теодоліта**

- **виконання перевірки** _____

- висновок _____

4. Перевірка сітки ниток

- умова перевірки: **Коли теодоліт приведено в робочий стан, вертикальний штрих сітки ниток має розташовуватись в прямовисній площині**
- виконання перевірки _____

- результат _____

- послідовність виправлення _____

Оцінка: _____

Виконав/ла ст. гр. - _____

Викладач: _____

“ _____ “ _____ 20 _____ р.

РОЗДІЛ П.2. ВИМІРЮВАННЯ ГОРИЗОНТАЛЬНИХ КУТІВ ТЕОДОЛІТАМИ

При проведенні геодезичних та землевпорядних робіт в сільському господарстві для вимірювання горизонтального кута теодоліт центрують над його вершиною **A** нитковим виском або зоровою трубою (рис. П.2.1). На точках **B** і **C** встановлюють візирні цілі: віхи, шпильки, марки тощо.

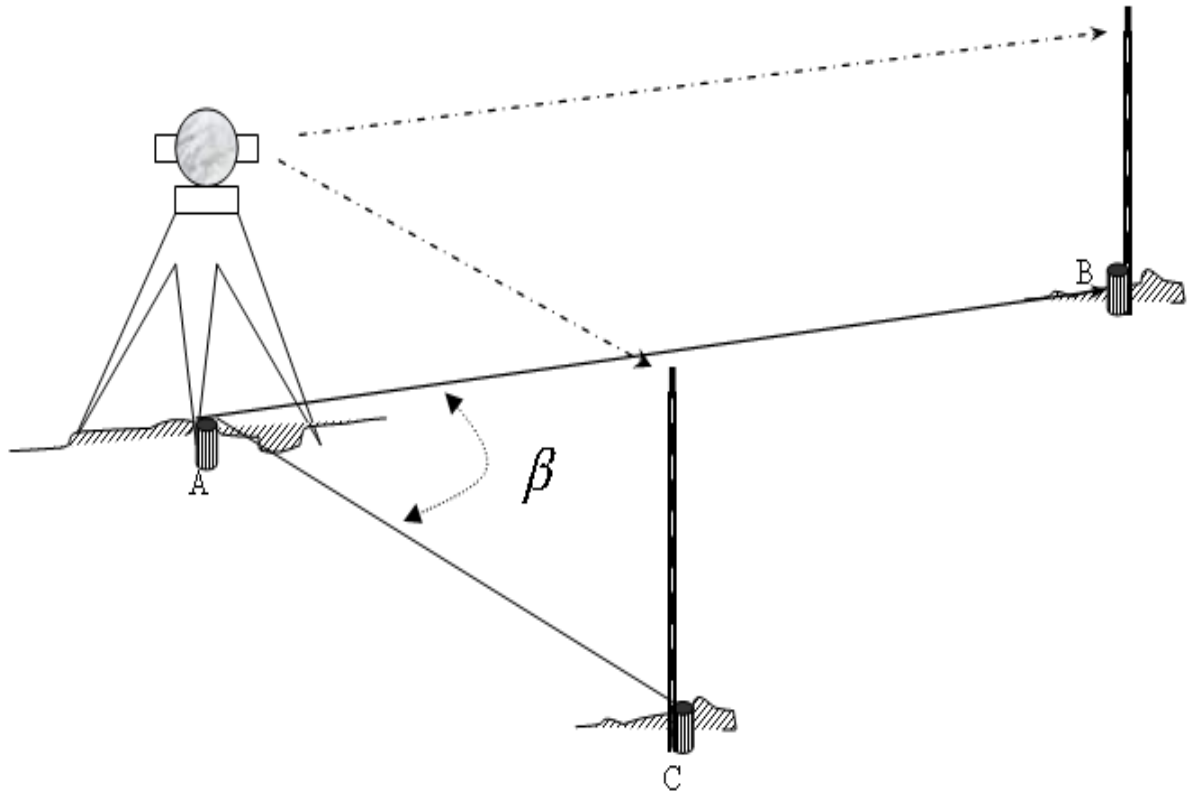


Рис. П.2.1.Схема вимірювання горизонтального кута

Прилад приводять у робоче положення. **Вимірювання кута β** починають з наведення зорової труби на точку **B** при положенні вертикального круга КЛ. Перед спостереженнями необхідно домогтися чіткого зображення сітки ниток, обертаючи окулярне діоптрійне кільце, і чіткого зображення візирної цілі обертанням фокусувального гвинта.

При закріпленому горизонтальному крузі (лімбі) відкріплюють закріпний гвинт алідади і наводять зорову трубу на т. **B** за допомогою коліматорного прицілу. Для точного наведення сітки ниток на точку (візирну ціль) користуються навідними гвинтами алідади і зорової труби. Відлічують горизонтальний круг і записують відлік у польовий журнал (табл. П.2.1, відлік 1).

Відкріпивши алідаду наводять зорову трубу на т. **C**. При цьому горизонтальний круг (лімб) залишається закріпленим. Знову відлічують відліковий пристрій і записують результат в табл. П.2.1, відлік 2.

Описані дії складають перший півприйом вимірювання горизонтального кута.

Після цього зорову трубу переводять через зеніт.

При закріпленій алідаді відкріплюють закріпний гвинт лімба і, повертаючи верхню (алідадну) частину приладу, змінюють положення лімба, приблизно, на декілька градусів. Закріплюють лімб, відкріплюють алідаду і при іншому положенні вертикального круга КП знову наводять зорову трубу на т. **В**. Відлік записують в журнал (табл. П.2.1, відлік 4).

Відкріпивши алідаду візують на т. **С** і знову беруть відлік (табл. П.2.1, відлік 5). Таким чином, закінчують другий півприйом вимірювання кута.

Обидва півприйоми складають повний прийом [5,6].

Обчислення в журналі виконують в наступній послідовності:

- Обчислюють значення кута β в півприйомах (табл. П.2.1, значення кута 3 і 6), тобто $\beta = C - B$.
- Якщо різниця значень β і β' не перевищує допуск $1'$, обчислюють середнє значення кута $\beta_{сер.}$ (табл.6.1, значення 7), яке приймають за остаточне.

Значення кута β і β' повинно збігатися між собою в межах подвійної точності відлікового пристрою. Різниця вимірянних значень горизонтального кута, одержаних з двох півприймів для теодоліта 2Т30, не повинна перевищувати допуск $1'$.

Таблиця П.2.1

ЖУРНАЛ
вимірювання горизонтальних кутів (зразок)

Назва станцій	Назва точок наведення	Відліки горизонтального круга	Значення кута β	Середнє значення кута $\beta_{сер.}$
		кл		
	С	175°47',5 (2)		
			44°27',0 (3)	
	В	131°20',5 (1)		
А		кп		44°26',5 (7)
	С	264°02',0 (5)		
			44°26',0 (6)	
	В	219°36',0 (4)		

РОЗДІЛ II.3. ВИМІРЮВАННЯ ВЕРТИКАЛЬНИХ КУТІВ, ВІДДАЛЕЙ ТА ПЕРЕВИЩЕНЬ

Вимірювання кутів нахилу ν

Для зручності обчислення вертикальних кутів існує умова: коли візирна вісь зорової труби і вісь рівня при алідаді вертикального круга горизонтальні, нульові поділки алідади повинні збігатися з нульовими поділками вертикального круга. В дійсності ця умова порушується і візирна вісь труби може займати горизонтальне положення, і бульбашка рівня знаходитиметься в нуль-пункті, а відлік вертикального круга не дорівнює нулю.

Для тахеометрів без циліндричного рівня при алідаді вертикального круга (**Т-30**, **2Т30**) відлік вертикального круга, коли візирна вісь труби горизонтальна, а вертикальна вісь обертання приладу – прямовисна, називається *місцем нуля вертикального круга*.

Якщо місце нуля невідомо, то кут нахилу вимірюють двічі - візуючи на точку при КЛ і КП. За результатами цих двох відліків обчислюють і кут нахилу ν , і місце нуля МО [5, 6, 10].

Основні формули для обчислень кутів нахилу та місця нуля.

Для Т-30

$$MO = \frac{KL + KP + 180^0}{2} \quad (II.3.1)$$

$$\begin{aligned} \nu &= MO - KP - 180^0; \\ \nu &= KL - MO; \end{aligned} \quad (II.3.2)$$
$$\nu = \frac{KL - KP - 180^0}{2}.$$

Для 2Т30

$$MO = \frac{KL + KP}{2} \quad (II.3.3)$$

$$\begin{aligned} \nu &= MO - KP; \\ \nu &= KL - MO; \end{aligned} \quad (II.3.4)$$
$$\nu = \frac{KL - KP}{2}$$

Приклад. Відлік вертикального круга (2Т30) $KL = 3^029.0'$ а $KP = -3^023.0'$.

$$MO = \frac{3^029' + (-3^023')}{2} = +0^003'; \quad \nu = 3^029' - 0^003' = +3^026'.$$

Контроль: $\nu = 0^{\circ}03' - (-3^{\circ}23') = +3^{\circ}26'$; або $\nu = \frac{3^{\circ}29' - (-3^{\circ}23')}{2} = +3^{\circ}26'$.

Одним з контролів якості вимірювання кутів нахилу є сталість $M\theta$. Коливання його величини під час вимірювань на одній станції не має перевищувати подвійної точності відлікового пристрою теодоліта. Величина $M\theta$ не впливає на результати вимірювань, але зручніше, коли воно близьке до 0° .

Вимірювання віддалей нитковим віддалеміром

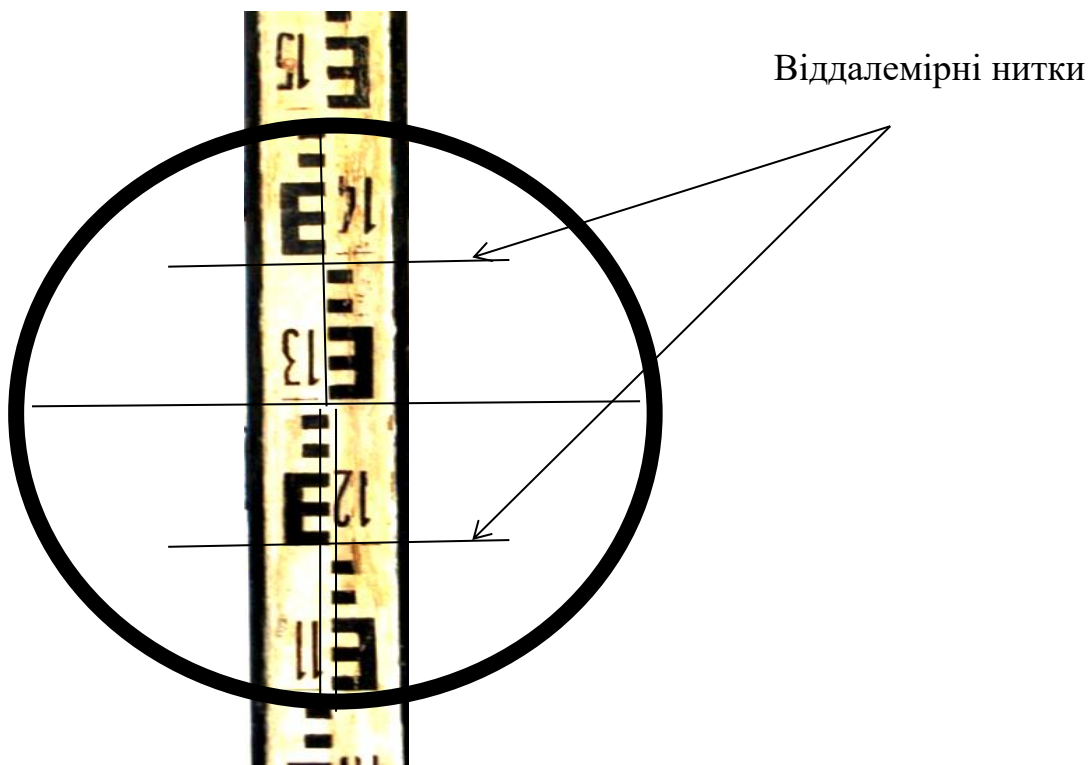


Рис. П.3.1. Вимірювання довжини лінії нитковим віддалеміром

Ниткові віддалеміри є в зорових трубах, що мають в полі зору віддалемірні нитки (рис. П.3.1). Вони дозволяють виміряти віддаль від теодоліта (тахеометра) до рейки. Коефіцієнт ниткового віддалеміра K є величина стала і близька до 100.

Під час вимірювань одну з віддалемірних ниток для зручності відлічування спрямовують на початок дециметра. Далі обчислюють віддаль n між віддалемірними штрихами на рейці. Виміряну відстань D обчислюють за формулою:

$$D = K \cdot n$$

На рис. П.3.1. віддаль, яка виміряна нитковим віддалеміром складає:

$$D = 100 \cdot 19.4 \text{ см} = 19.4 \text{ м}$$

Обчислення перевищень

Знаючи похилу віддаль (або її горизонтальну проекцію) від теодоліта до рейки та кут нахилу цієї лінії за формулами тригонометричного нівелювання можна обчислити перевищення h між точкою, над якою центровано теодоліт і точкою, в якій встановлено рейку

$$h = \frac{1}{2} D \cdot \sin 2\nu + i - l \quad \text{або} \quad h = d \cdot \operatorname{tg} \nu + i - l,$$

де i – висота приладу (тахеометра);
 l – висота наведення зорової труби на рейку;
 ν – кут нахилу;
 D – похилу віддаль, виміряну нитковим віддалеміром;
 d – горизонтальну проекцію похилої віддалі.

Завдання 1: Виміряти та обчислити наступні значення та внести їх у журнал (табл. П.3.1):

1. Виміряти висоту тахеометра i ;
2. Навести зорову труби на рейку на висоту l і відлічити вертикальний круг при KL ;
3. Навести зорову труби на рейку на висоту l і відлічити вертикальний круг при KII ;
4. Обчислити місце нуля вертикального круга MO (формула П.3.1 або П.3.3);
5. Обчислити кут нахилу ν (формули П.3.2 або П.3.4);
6. Обчислити похилу віддаль D , виміряну нитковим віддалеміром при двох положеннях вертикального круга (KII , KL); коефіцієнт віддалеміра прийняти рівним 100;
7. Обчислити горизонтальну проекцію похилої віддалі $d = D \cdot \cos^2 \nu$
8. Обчислити перевищення. $h = d \cdot \operatorname{tg} \nu + i - l$.

ЖУРНАЛ ПРОБНИХ ВИМІРЮВАНЬ

Відліки вертикально го круга ($^{\circ}$ $'$)	Місце нуля МО ($^{\circ}$ $'$)	Кути нахилу ν ($^{\circ}$ $'$)	Вимірян а віддаль по рейці D , (м)	Горизонтальна проекція віддалі d , (м)	Перевищення h , (м)	Примітки
1	2	3	4	5	6	7
<i>КЛ</i>						$i=$ м
<i>КП</i>						$l= 1.0$ м
<i>КЛ</i>						$i=$ м
<i>КП</i>						$l= 1.5$ м
<i>КЛ</i>						$i=$ м
<i>КП</i>						$l= 2.0$ м
<i>КЛ</i>						$i=$ м
<i>КП</i>						$l=2.5$ м

Оцінка: _____

Виконав/ла ст. гр. - _____

Викладач: _____

“ ____ ” _____ 20 р.

РОЗДІЛ П.4. ПОЛЬОВІ ТА КАМЕРАЛЬНІ РОБОТИ ПРИ ТЕОДОЛІТНОМУ ЗНІМАННІ ДІЛЯНКИ МІСЦЕВОСТІ

Горизонтальне (контурне) знімання місцевості називається теодолітним. В результаті цього знімання отримують план із зображенням на ньому місцевих предметів та контурів (ситуації). Теодолітне знімання частіше всього застосовується в рівнинній місцевості в умовах складної ситуації (населені пункти, забудовані ділянки, залізнодорожні вузли, станції, аеропорти) [4].

Основою для теодолітного знімання служать теодолітні ходи, що являють собою систему ламаних ліній, в яких кути вимірюються одним прийомом теодолітом 30-ти секундної точності, а сторони – сталлюю 20-ти метровою стрічкою або віддалемірами з точністю не нижчою, ніж 1 : 2 000. Теодолітні ходи, як правило, прокладають між пунктами опорної геодезичної мережі (триангуляції, трилатерації, полігонометрії), або вони утворюють зімкнені полігони (багатокутники). Якщо з пунктів зімкненого полігону немає можливості виконати знімання всієї ділянки, то всередині полігону прокладають діагональні ходи. Форма ходів залежить від характеру території, що підлягає зніманню. Теодолітне знімання складається із наступних видів робіт:

- підготовчі роботи;
- прокладання теодолітних ходів та полігонів;
- прив'язка теодолітних ходів до пунктів геодезичної опорної мережі;
- знімання ситуації;
- обчислювальні роботи;
- графічне оформлення.

Завдання 1: За результатами теодолітного знімання ділянки місцевості пропонується виконати наступне:

1. опрацювати журнал кутових вимірів (таблиця П.4.1);
2. заповнити схему теодолітного ходу (рис. П.4.1);
3. обчислити координати точок зімкнутого теодолітного ходу (табл. П.4.2);
4. скласти план теодолітного знімання ділянки місцевості (рис. П.4.2);
5. виконати графічне оформлення плану згідно вимог [13];
6. обчислити площі [12].

Вихідні дані для роботи:

дирекційний кут лінії 1-2 $\alpha_{1-2} = 271^\circ + N^\circ N'$ (номер в журналі викладача – в градусах і мінутах)

$$\alpha_{1-2} = \dots^\circ \dots'$$

початкові координати точки 1 :

$$X_1 = 520,00 \text{ м}$$

$$Y_1 = 680,00 \text{ м}$$

Порядок виконання роботи

1. Опрацювати журнал кутомірних вимірів (таблиця П.4.1).

1.1 Обчислити горизонтальні кути на кожній з п'яти станцій при двох положеннях вертикального круга (КП і КЛ) та знайти їх середні значення.

1.2 Обчислити середні значення із двох вимірів довжин ліній (прямо-зворотньо) та визначити їх горизонтальні проекції за формулою, приймаючи до уваги кути нахилу.

$$d = S \cdot \cos \nu .$$

2. Складання схеми теодолітного ходу.

Схема викреслюється на окремому аркуші (рис. П.4.1) паперу так, щоби горизонтальні кути та довжини ліній приблизно відповідали обчисленим в журналі. На схему виписуються середні значення відповідних кутів та горизонтальних прокладень ліній, практична та теоретична сума кутів, а також практична та допустима кутові нев'язки.

3. Обчислення координат точок зімкнутого теодолітного ходу.

Обчислення координат виконують у спеціальній відомості (таблиця П.4.2) у такій послідовності.

3.1. В графі 1 проводять нумерацію точок зімкнутого ходу 1-2-3-4-5-1 (через рядок);

із кутомірного журналу виписують в графу 2 середні значення горизонтальних кутів, а в графу 7 – горизонтальні прокладення ліній.

3.2. Вихідний дирекційний кут лінії 1-2 виписують в 4 , а в графі 12 і 13 – координати першої точки X_1 і Y_1 .

3.3. Виконують ув'язку горизонтальних кутів зімкнутого ходу:

а) отримують практичну суму кутів $\sum \beta_{np}$, сумуючи значення горизонтальних кутів у графі 2 :

$$\sum \beta_{np} = \beta_1 + \beta_2 + \beta_3 + \beta_4 + \beta_5 ;$$

б) теоретичну суму кутів в багатокутнику обчислюють за формулою:

$$\sum \beta_{теор} = 180^\circ (n - 2);$$

де n - кількість кутів ($n = 5$);

в) обчислюють кутову нев'язку за формулою:

$$f_{\beta_{np}} = \sum \beta_{np} - \sum \beta_{теор} ;$$

г) визначають допустиму кутову нев'язку :

$$f_{\beta \text{ доп}} = 1' \sqrt{n}$$

Кутова нев'язка не повинна перевищувати допустимої!

д) кутову нев'язку $f_{\beta_{np}}$ розподіляють порівну з протилежним знаком на всі виміряні кути у вигляді поправки. Поправки записують над кутами червоним кольором.

Контролем правильності розподілу нев'язки є сума поправок δ , тобто

$$\sum \delta_i = -(f_{\beta}),$$

а також сума виправлених кутів $\sum \beta_{випр} = \sum \beta_{теор}$ повинна бути рівною теоретичній.

Виправлені кути записують з точністю до мінути в графу 3.

3.4. Обчислення дирекційних кутів (графа 4) виконується за формулами:

α_{1-2} – відомо, (див. вихідні дані)

$$\alpha_{2-3} = \alpha_{1-2} + 180^0 - \beta_2$$

$$\alpha_{3-4} = \alpha_{2-3} + 180^0 - \beta_3$$

$$\alpha_{4-5} = \alpha_{3-4} + 180^0 - \beta_4$$

$$\alpha_{5-1} = \alpha_{4-5} + 180^0 - \beta_5$$

Контроль:

$$\alpha_{1-2} = \alpha_{5-1} + 180^0 - \beta_1$$

3.5. Обчислення румбів з їх назвою виконують на основі співвідношень між румбами та дирекційними кутами, а саме:

$$r_I = \alpha_I$$

$$r_{II} = 180^0 - \alpha_{II}$$

$$r_{III} = \alpha_{III} - 180^0$$

$$r_{IV} = 360^0 - \alpha_{IV},$$

де r_{I-IV}, α_{I-IV} - відповідно румби та дирекційні кути у чотирьох чвертях.

3.6. За формулами прямої геодезичної задачі обчислюють прирости координат:

$$\Delta x = d \cdot \cos \alpha$$

або

$$\Delta x = d \cdot \cos r$$

$$\Delta y = d \cdot \sin \alpha$$

$$\Delta y = d \cdot \sin r$$

Для оперативного обчислення приростів координат можна застосовувати мікрокалькулятори, хоча є розроблені спеціальні таблиці.

Обчислені значення $\Delta x, \Delta y$ записують **зі своїми знаками** відповідно у графі 8,9.

3.7. В тих же графах (8, 9) сумують обчислені значення приростів координат. Для зімкненого ходу ці суми рівнозначні нев'язкам - $f_{\Delta x}, f_{\Delta y}$.

$$f_{\Delta x} = \sum \Delta x_{np}; f_{\Delta y} = \sum \Delta y_{np}.$$

3.8. Абсолютна нев'язка ходу:

$$f_{abc} = \sqrt{f_{\Delta x}^2 + f_{\Delta y}^2}.$$

3.9. Відносна нев'язка

$$f_{відн} = \frac{f_{abc}}{P} \leq f_{відн. доп.},$$

де P – периметр ходу.

3.10. Допустима нев'язка для даних умов:

$$f_{\text{відн.доп.}} = \frac{1}{2000}.$$

3.11. Якщо відносна нев'язка ходу менша за допустиму, або рівна їй (п.3.9.), то нев'язки $f_{\Delta x}, f_{\Delta y}$ в приростах слід розподілити шляхом введення поправок в обчислені прирости координат пропорційно довжинам ліній ходу. Поправки мають знак, протилежний знаку нев'язки; їх заокруглюють до цілих сантиметрів і виписують червоним кольором над приростами координат в графах 8,9.

Сума поправок дорівнює нев'язці з оберненим знаком!

3.12. виправлені прирости координат виписують в графи 10, 11. Сума виправлених приростів координат повинна дорівнювати нулю:

$$\sum \Delta x_{\text{випр}} = 0; \sum \Delta y_{\text{випр}} = 0$$

3.13. Обчислення координат вершин ходу (графи 12, 13).

Координати вершин теодолітного ходу обчислюють за виправленими приростами координат:

$$X_{n+1} = X_n + \Delta x_{n,n+1}; Y_{n+1} = Y_n + \Delta y_{n,n+1}.$$

Контролем правильності обчислення координат точок зімкнутого ходу є отримання координат першої (початкової) точки – X_1 Y_1 !

3.14. Відомість координат заповнюють і оформляють чорнилом (тушшю), поправки у виміряні кути та прирости координат виписують червоним кольором.

4. Складання плану теодолітного знімання ділянки місцевості занотувати на аркуші “Для нотаток”.

5. Графічне оформлення плану – див. п.4.

ЖУРНАЛ
кутомірного знімання земельної ділянки в с.Деснянка

Початий : _____ Закінчений: _____
 Дата _____ Вимірював _____ Записував _____
 Теодоліт _____ № _____

Таблиця П.4.1

Номери станцій	Точки наведення	Відліки горизонтального круга	Значення кута	Середній кут	Довжини ліній, (м)	Кут нахилу лінії	Горизонтальне прокладення (м)
1	2	3	4	5	6	7	8
1	5	КП 204 27	96 17	96° 16',5	<u>1-2</u> 167,61 167,65 167,63	+ 1 30	167,57
	2	108 10					
	5	КЛ 241 56					
	2	145 40					
2	1	КЛ 284 47			<u>2-3</u> 212,04 212,14	+ 1 40	
	3	188 11					
	1	КП 72 37					
	3	336 00					
3	2	КП 180 35			<u>3-4</u> 167,34 167,38	- 1 30	
	4	79 07					
	2	КЛ 233 41					
	4	132 13					
4	3	КЛ 85 36			<u>4-5</u> 159,90 159,86	- 1 50	
	5	357 20					
	3	КП 333 28					
	5	245 12					
5	4	КП 232 41			<u>5-1</u> 109,53 109,57	+ 1 20	
	1	75 17					
	4	КЛ 212 47					
	1	55 22					

**СХЕМА
ЗІМКНЕНОГО ТЕОДОЛІТНОГО ХОДУ**

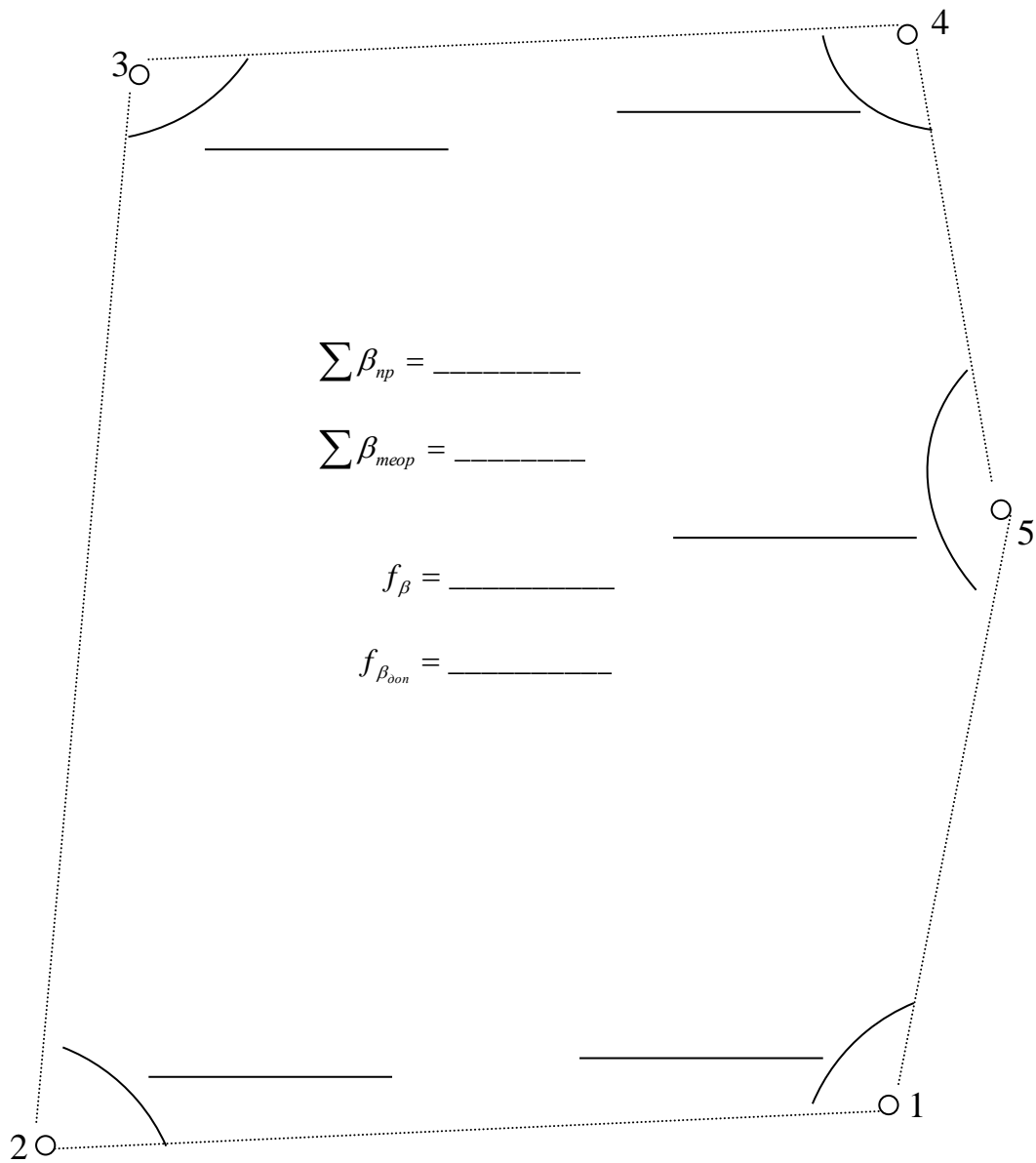


Рис. П.4.1. Схема теодолітного ходу

***) навести лінії тушшю**

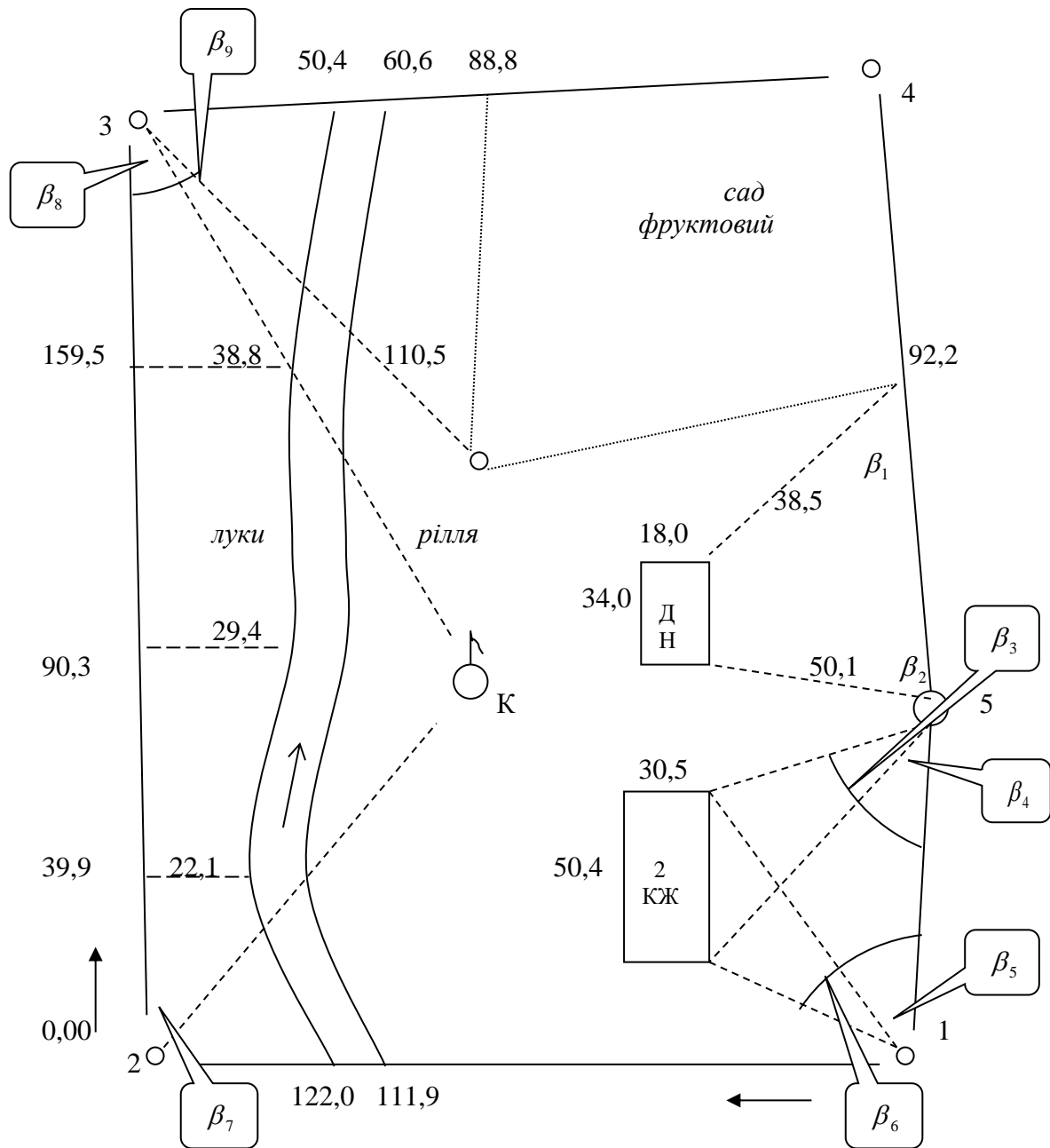
Схему перевірів:

“ _____ ” 20 _____ р.

Схему склав/ла та викреслив/ла

ст. групи - _____

ЗАРИС



$\beta_1 = 66^\circ 00'$	$\beta_7 = 46 30$
$\beta_2 = 66 30$	$\beta_8 = 37 00$
$\beta_3 = 44 00$	$\beta_9 = 47 00$
$\beta_4 = 24 30$	
$\beta_5 = 28 30$	
$\beta_6 = 57 30$	

Рис. П.4.2. Зарис теодолітного знімання

**П Л А Н Т Е О Д О Л І Т Н О Г О З Н І М А Н Н Я З Е М Е Л Ь Н О Ї Д І Л Я Н К И В
с.ДЕСНЯНКА**




Рис. П.4.3. План теодолітного знімання

*Перевірів
Викладач:*

*План склав та викреслив
ст. гр.- _____*

ВІДОМІСТЬ

обчислення координат теодолітного ходу від т. _____ до т. _____

Таблиця П.4.2

№№ вершин полігону	К у т и β		Дирек- ційні кути α	Румби r		Горизонт. проклад. ліній (м) d	Прирости координат				Координати, м		
	Виміряні	Ув'язані		Назва	Величина		Обчислені		Ув'язані		X	Y	
							$\pm \Delta x$	$\pm \Delta y$	$\pm \Delta x$	$\pm \Delta y$			
1	2	3	4	5	6	7	8	9	10	11	12	13	
	0 .	0 .	0 .		0 .								
1												520,00	680,00
2													
3													
4													
5													
1												520,00	680,00
$\sum \beta_{np} =$						$P =$							
$\sum \beta_{теор} =$						$f_{\Delta x}; f_{\Delta y} =$			$\Sigma =$	$\Sigma =$			
$f_{\beta_{np}} =$						$f_{відн} =$							
$f_{\beta_{теор}} =$						$f_{відн. доп.} =$							

Відомість склав/ла та обчислив/ла
студент/ка групи - _____

Обчислення перевірив: _____

“ _____ ” _____ 20____ р.

РОЗДІЛ П.5. БЕЗПІЛОТНІ ЛІТАЛЬНІ АПАРАТИ (БПЛА) В ГЕОДЕЗІЇ ТА ЗЕМЛЕВПОРЯДКУВАННІ

Стислий опис збору просторової інформації

Аерофотознімання – це фотографування земної поверхні з супутника, літака чи безпілотного літального апарата за допомогою спеціального обладнання (аерофотокамер). Основна мета використання БПЛА в геодезії та землепорядкуванні – отримання зображень території із заданими характеристиками. Загальновідомо, що аерофотознімання – економічно і технологічно виправданий спосіб збору просторової інформації, основа для створення топографічних планів і карт, створення тривимірних моделей рельєфу і місцевості, т.і.(рис. П.5.1) [7].



Рис. П.5.1. Безпілотний літальний апарат у польоті

Аерофотознімання вже протягом століття є ефективним інструментом для виконання різноманітних робіт у геодезії, геології, будівництві, сільському господарстві, військовій справі екології та інш. У наш час стрімко зростає застосування безпілотних літальних апаратів (БПЛА) у аерозніманні. Це зумовлено багатьма причинами і передусім собівартістю аерофотознімання, яка на декілька порядків менша від застосування пілотованих літаків. Крім високої економічної ефективності, БПЛА мають

додаткові переваги над традиційним аерофотозніманням і космічним зніманням, а саме : висока оперативність, універсальність, безшумність та компактність.

Сьогодні безпілотні літальні апарати з високоякісними фото і відеокамерами широко застосовуються при проведенні геодезичних досліджень в наступних випадках:

- проведення аерознімання для складання генеральних планів міст;
- планування використання земель промислового призначення, а також планування земель сільського господарства;
- обстеження районів, де відбувся викид шкідливих речовин небезпечних для життя людини;
- інспекція вирубок лісів та відстеження обсягу врожаю для фермерів;
- інвентаризація земель населених пунктів і сільськогосподарських угідь;
 - контроль за станом лісових масивів, сільськогосподарських посівів, стеження за якістю і своєчасністю проведення різних заходів на цих територіях.
 - кадастровий облік нерухомих об'єктів;
 - моніторинг на різних етапах будівельних робіт;
 - внесення коригувань в застарілі топографічні плани;
 - розробка електронних моделей поверхні досліджуваної території та інше [15].

У сучасному світі існує багато різноманітних безпілотних літальних апаратів, але для геодезичних робіт найчастіше використовують БПЛА ближнього та малого радіусу дії вагою від 5 до 50 кг. Так, китайська приватна компанія DJI Technology.Ltd – виробник квадрокоптерів, лідер ринку БПЛА, іноватор на ринку літаючих дронів, контролерів для БПЛА і обладнання для стабілізації відео знімання. DJI Phantom 3 (4) PRO – це серія квадрокоптерів, які отримали свою популярність завдяки відносно

низькій вартості і легкості, зручності управління, надійності, гарним льотним характеристикам, якісним камерам. На рис. П.5.2 представлено зображення безпілотного літального апарату БПЛА DJI Phantom 3 PRO.



Рис. П.5.2. Безпілотний літальний апарат БПЛА DJI Phantom 3 PRO
(квадрокоптер)

БПЛА DJI Phantom 4 PRO (Phantom 3 PRO) використовується для професійного знімання. Модернізована версія 4 PRO Phantom є найкращим квадрокоптером у співвідношенні якість/ціна (2000\$). 3D-камера Phantom 4 Professional має 20 мегапікселів для фотознімання, механічний затвор і великий 1-дюймовий датчик. БПЛА Phantom обладнаний системою обходу перешкод (5 датчиків напряму, інфрачервоні датчики). Технологія Lightbridge: пульт автоматично розпізнає сигнал та перемикає діапазони 2,4 ГГц і 5,8 ГГц передачі. Час перебування у польоті збільшено до 30 хвилин (в залежності від погодно-льотних умов).

Для створення ортофотоплану об'єкту, що знімається за допомогою БПЛА DJI Phantom 3 PRO, виконують наступні дії:

1. Заряджають батареї БПЛА та проводять передпольотну підготовку.
2. Налаштовують програму польоту БПЛА або використовують його в ручному режимі (рис. П.5.3).
3. Здійснюють запуск БПЛА та виконують знімання із збереженням отриманих цифрових фотографій.



Рис. П.5.3. Схематичне зображення маршруту польотів над заданою територією

4. Використовують програму опрацювання цифрових фотографій **“AGISOFT PHOTOSCAN”** для обробки отриманих знімків (завантажують фотографії у комп’ютер, вирівнюють їх, видаляють зайві та неякісні фотографії, ліквідують можливі неточності та спотворення і будують щільну хмару точок (хмара точок – це ряд фотознімків, які формують об’ємне зображення для побудови 3D моделі та в подальшому ортофотоплану).
5. Завантажують у створюваний проект каталог координат наземних опознаків та вводять широту і довготу кожного опознаку у вибраній системі координат (за замовчуванням – WGS 84).
6. За допомогою програми **“AGISOFT PHOTOSCAN”** будують тривимірну полігональну модель, використовуючи опрацьовані фотографії.
7. Будують текстуру 3D моделі, встановлюючи режими параметризації структури (режим накладення текстури визначає, яким чином текстура об’єкта буде зберігатися в текстурному атласі; вибір відповідного режиму допомагає отримати оптимальний вид зберігання текстури, що веде до поліпшення якості візуалізації підсумкової моделі).

8. Використовуючи програму **“AGISOFT PHOTOSCAN”** в разі необхідності будують тайлову модель об'єкта та карту висот. Формат ієрархічних тайлів корисний при створенні моделей великих за площею об'єктів, наприклад, міст. Даний формат дозволяє візуалізувати 3D моделі великих об'єктів з високою роздільною здатністю і деталізацією. Для перегляду моделі в такому форматі рекомендується використовувати AgisoftViewer - продукт, що поставляється в складі установчого пакета PhotoScan. Тайлова модель може бути побудована на підставі щільної хмари точок, а текстура для ієрархічних тайлів створюється з вихідних фотографій. PhotoScan дозволяє створити і відобразити карту висот (DEM). Карта висот, яка створюється після обробки фотознімків, представляє моделі поверхні у вигляді регулярної сітки значень висоти. Карта висот (DEM) може бути розрахована на підставі щільної хмари точок, розрідженої хмари точок або полігональної сітки. Найбільш точні результати можуть бути отримані на підставі щільної хмари точок. PhotoScan також дозволяє виконувати вимірювання координат точок, відстаней, площ і обсягів в межах карти висот, а також відображати профілі розрізів за заданою користувачем трасою. Нарешті, можливе створення контурних ліній і відображення їх на карті висот або ортофотопланів.

9. За допомогою програми **“AGISOFT PHOTOSCAN”** виконують побудову ортофотоплану об'єкта. Ортофотоплан будується на підставі даних вихідних знімків і реконструйованої моделі, що дозволяє створювати результуюче зображення з високою роздільною здатністю. Найбільш часто експорт ортофотоплану проводиться при обробці аерофотозйомки, крім того, побудова ортофотоплану може бути корисною при необхідності створення детального вигляду об'єкта. На рис. II.5.4 та II.5.5 наведені фрагменти виконання знімання території 22-го та 23-го навчальних корпусів Національного університету «Чернігівська політехніка» та створення 3D моделі.

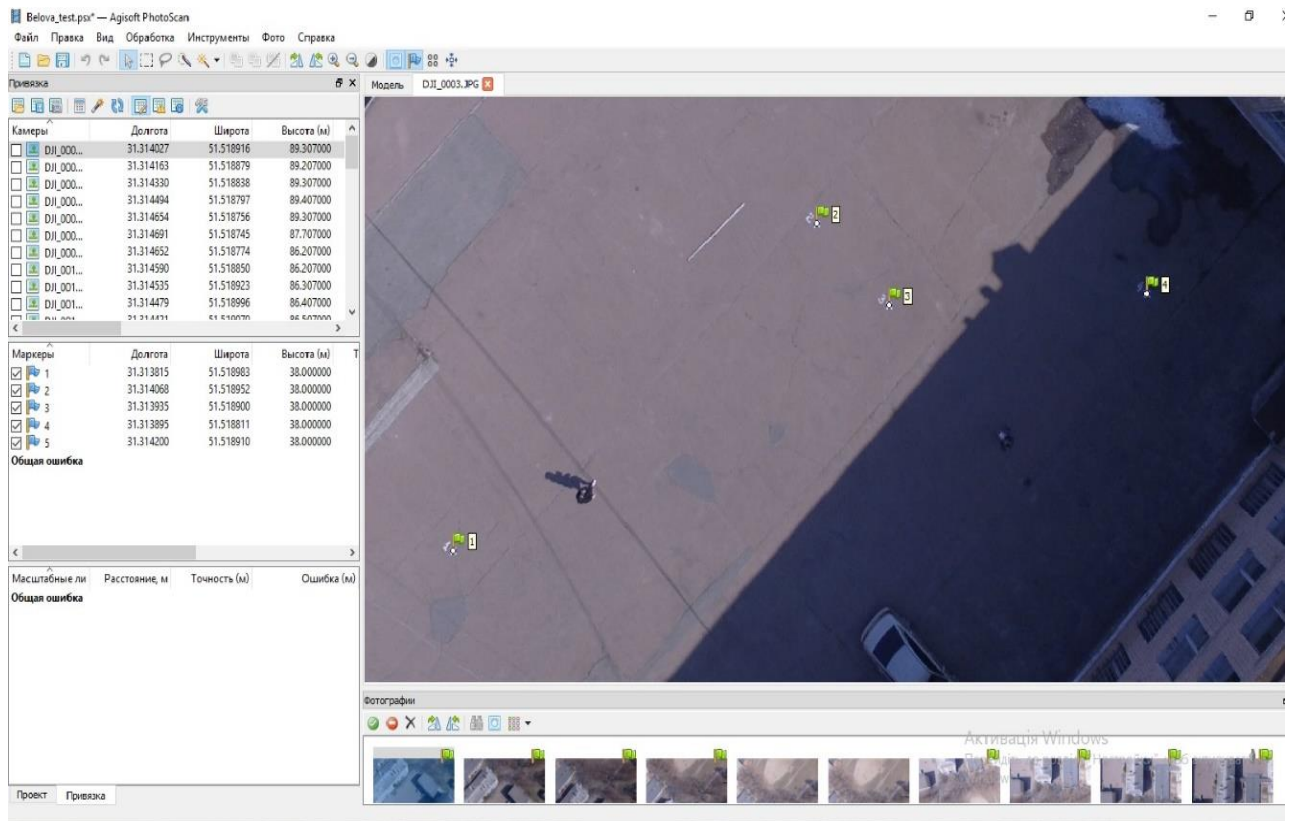


Рис. П.5.4. Фрагмент зображення подвір'я 22-го корпусу з опознаками Національного університету «Чернігівська Політехніка» (зроблено з БПЛА DJI Phantom 3 PRO)

Програма “**AGISOFT PHOTOSCAN**” – це дуже гнучкий софт. Вона має досить низький поріг входження і, в той же час, величезну кількість можливостей для підготовлено користувача.

Переваги:

- Простий інтерфейс, досить нескладно освоїти виконання основних операцій. Докладні технічні описи, які легко сприймаються користувачами.
- Відмінна математична модель обробки. Може працювати з будь-якими камерами, навіть невідомої моделі, “на льоту” уточнюючи параметри. Справляється навіть з неправильно виконаною зйомкою і знімками без координат.
- Прекрасно реалізована робота з опоточками. Є функція автоматичного розпізнавання маркерів, підтримка масштабних лінійок.
- Можна створювати маски для знімків.

- Гнучкий і нелінійний процес обробки. Безліч параметрів, що налаштовуються і можливостей для втручання користувача. Завдяки цьому можна домогтися прийнятних результатів навіть за умови дуже поганих вихідних даних.
- Автоматизація обробки. Є внутрішній планувальник завдань, що дозволяє створювати навіть складні сценарії. Крім того, підтримує зовнішні Python скрипти, що дозволяє створювати власні розширення. Можливість управління через консоль.
- Автоматична генерація ЦМР відмінної якості.
- Редагування і класифікація щільної хмари точок. Використовуються стандартні LiDAR класи.
- Можна редагувати 3D модель. Вибір інструментів невеликий, але його вистачить для більшості завдань.
- Відмінно працює з негео об'єктами. Можна створювати навіть дуже складні 3D моделі. Наприклад, для друку або графіки.
- Підтримується велика кількість файлових форматів. Проміжні результати можна експортувати, щоб виконати з ними операції в сторонньому софті, з подальшим імпортом назад у PhotoScan для продовження обробки.
- Підтримка розподіленої обробки (з певними застереженнями).
- 4D моделювання, тобто можливість реконструювати модель у динаміці.
- Склеювання 3D панорам.
- Генерація тайлових моделей. Як в PhotoMesh Layer, так і у власному форматі.
- Гарна документація та технічна підтримка.
- Активно розвивається.
- Вартість нижче середнього по ринку.
- Стабільна робота.

Недоліки:

- Немає заздалегідь прописаних сценаріїв обробки. Користувачеві доведеться створювати їх самостійно.
- Складність освоєння “просунутого” функціоналу.
- Немає автоматичного розбиття сцени на частини. Якщо сцена дуже велика, то доведеться самостійно оцінювати обсяг і ресурси, і вручну розділяти її на підзадачі. Це може призвести до того, що запустивши

побудову щільної хмари через кілька годин можна отримати помилку “Недостатньо пам’яті”.

- Використання новітніх ПК з сучасними комплектуючими, які забезпечують функціональні потреби при користуванні програми “AGISOFT PHOTOSCAN”.
- ПК з обмеженими можливостями не можуть використовувати програму “AGISOFT PHOTOSCAN”.
-

Висновок:

Може обробити навіть найгіршу зйомку і видати прийнятний результат.

Доступна тільки купівля постійної ліцензії. Передбачає один рік оплаченої техпідтримки, встановлення оновлень не лімітуються по часу. Є stand-alone, плаваюча ліцензія і ліцензія для студентів та освітніх установ. Працює під Windows, macOS і Linux.

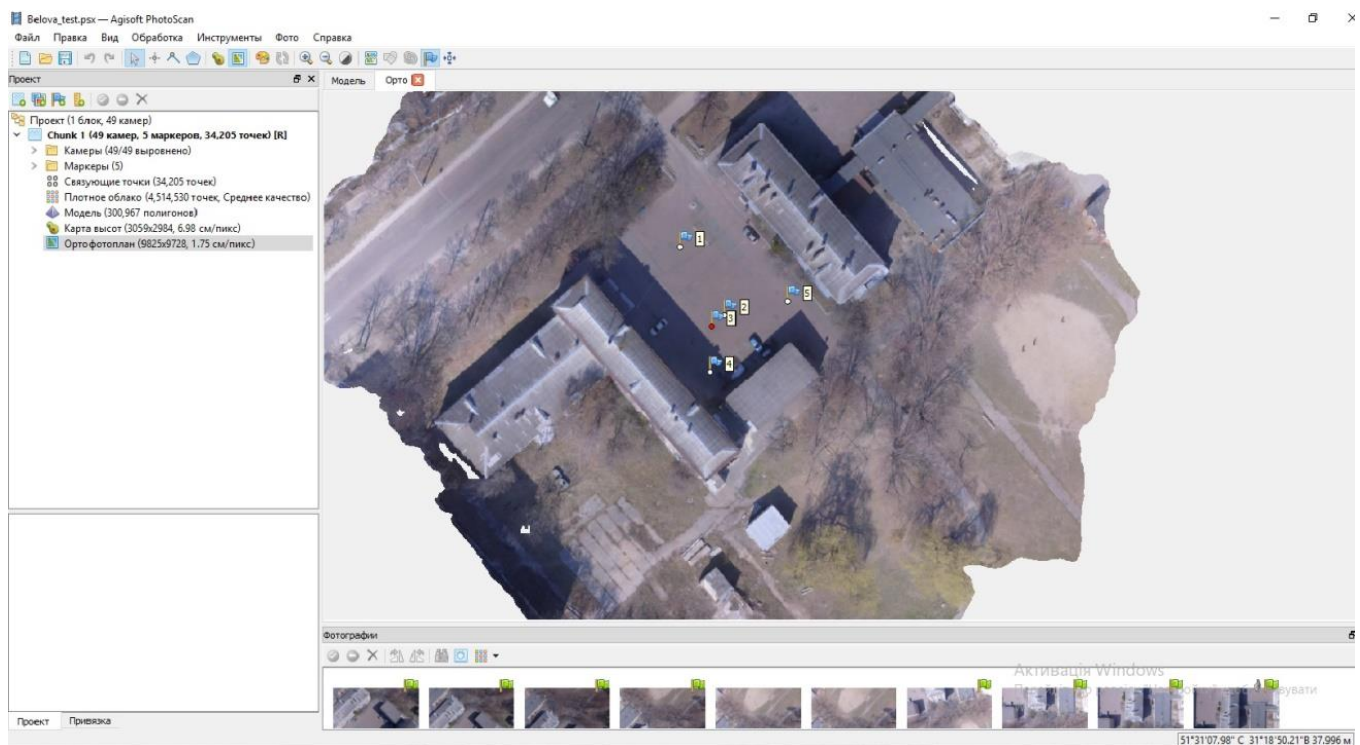


Рис. П.5.5. Побудова 3-D моделі 22-го та 23-го навчальних корпусів Національного університету «Чернігівська Політехніка» (зроблено з БПЛА DJI Phantom 3 PRO)

Завдання 1: Ознайомитися з будовою та принципом роботи БПЛА, виконати попередні зальоти і отримати цифровий фотоматеріал об'єкта.

1.1 За програмою опрацювання цифрових фотографій “**AGISOFT PHOTOSCAN**” завантажити фотографії у комп'ютер, вирівняти їх, видалити зайві та неякісні фотографії, побудувати щільну хмару точок.

1.2 Завантажити у створюваний проект каталог координат наземних опознаків та ввести широту і довготу кожного опознаку у вибраній системі координат (за замовчуванням – WGS84).

1.3 Виконати побудову фрагменту ортофотоплану об'єкта, використовуючи програму “**AGISOFT PHOTOSCAN**”, оцінити точність побудови, долучити надрукувані фотоматеріали до виконаної роботи.

^{x)} усі практичні (лабораторні) завдання виконуються під керівництвом викладача

Оцінка: _____

Виконав/ла ст. гр. - _____

Викладач: _____

“ _____ “ _____ 20 _____ р.


ГЛАВА III. ГЕОМЕТРИЧНЕ НІВЕЛЮВАННЯ

РОЗДІЛ III.1. БУДОВА ТА ПЕРЕВІРКИ НІВЕЛІРІВ. НІВЕЛІРНІ РЕЙКИ

Геодезичний прилад, який застосовують для визначення перевищень між точками поверхні землі горизонтальним візирним променем називається *нівеліром* [6, 14].

Під час нівелювання визначають перевищення між точками земної поверхні, а далі за відомою висотою початкової точки обчислюють висоти всіх інших точок над прийнятою рівневою поверхнею.

В геометричному нівелюванні для визначення перевищень та відстаней використовується шашкові, двосторонні нівелірні рейки (Рис. III.1.1).



Рейки виготовляють з дерев хвойних порід у вигляді брусків шириною до 10см, завтовшки 2-3см, висотою 3-4м. На двох сторонах рейок поділки нанесені через 1см, з однієї – чорні, з другої – червоні. Від нижньої частини рейки (п'ятки) починається відлік поділок. Поділки чорної сторони рейки оцифровані з 0, а червоної – з деякого числа, наприклад 4785. Під час нівелювання різниця відліків червоної та чорної шкали рейки має розходитися на величину п'ятки рейки. Для нашого прикладу п'ятка рейки складає 4785, отже різниця відліків червоної та чорної шкали повинна бути в межах точності нівелювання, тобто 4785 ± 5 мм.

Рис.III.1.1. Нівелірні рейки

Завдання 1: Заповнити назвами пронумеровані деталі та частини нівелірів Н-3, зовнішній вид яких подано на Рис. III.1.2 та III.1.3:

1

2

3

4

5

6

7

8

9

10

11

12




Рис. III.1.2 Нівелір Н-3 (а)




Рис. III.1.3 Нівелір Н-3 (б)

Завдання 2: Виконати перевірки нівеліра Н-3 та записати результати.

1. Перевірка сферичного рівня

- умова перевірки: *Вісь сферичного рівня повинна бути паралельна до осі обертання нівеліра*

- виконання перевірки _____

- результат (висновок) _____

- *послідовність виправлення рівня* _____

2. *Перевірка сітки ниток*

- *умова перевірки: Коли нівелір приведено в робочий стан, горизонтальний штрих сітки ниток повинен бути горизонтальним*
- *виконання перевірки* _____

- *результат (висновок)* _____

- *послідовність виправлення сітки ниток* _____

3. *Перевірка головної геометричної умови (Рис. III.1.4)*

- *умова перевірки: Вісь циліндричного рівня повинна бути паралельна до візирної осі нівеліра в проекції на прямовисну і горизонтальну площини*

- виконання перевірки _____

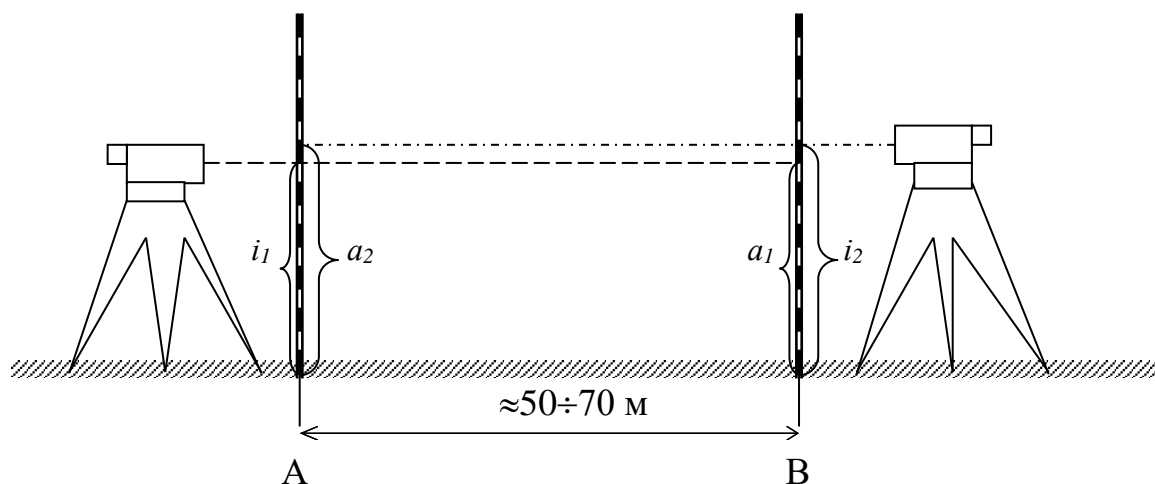


Рис. III.1.4. Перевірка головної умови нівеліра

$$x = \frac{a_1 + a_2}{2} - \frac{i_1 + i_2}{2} \leq 4 \text{ мм}$$

$$i'' = \frac{x}{D} \rho'' =$$

- результат (висновок) _____

- послідовність виправлення рівня _____

Оцінка: _____

Виконав/ла ст. гр. - _____

Викладач: _____

“ ____ ” _____ 20 ____ р.

РОЗДІЛ III.2. ВИКОНАННЯ ТЕХНІЧНОГО НІВЕЛЮВАННЯ. ОБЧИСЛЕННЯ ПЕРЕВИЩЕНЬ НА СТАНЦІЇ ТА ОПРАЦЮВАННЯ ЖУРНАЛУ НІВЕЛЮВАННЯ

В сільськогосподарських роботах нівелювання застосовується при будівництві лінійних споруд (доріг, каналів, дамб, трубопроводів), а також спорудженні різноманітних сільськогосподарських об'єктів. Розглянемо один із способів геометричного нівелювання “зі середини”.

Нехай в точках **A** і **B** прямовисно встановлені рейки **P₁** і **P₂**, а між ними посередині - нівелір, труба якого приведена в горизонтальне положення. Наводять візирну вісь труби нівеліра на рейку **P₁** і беруть по ній відлік **a**, тобто відраховують число поділок від основи рейки до горизонтальної нитки сітки ниток. Потім наводять трубу на рейку **P₂** і беруть відлік **b**.

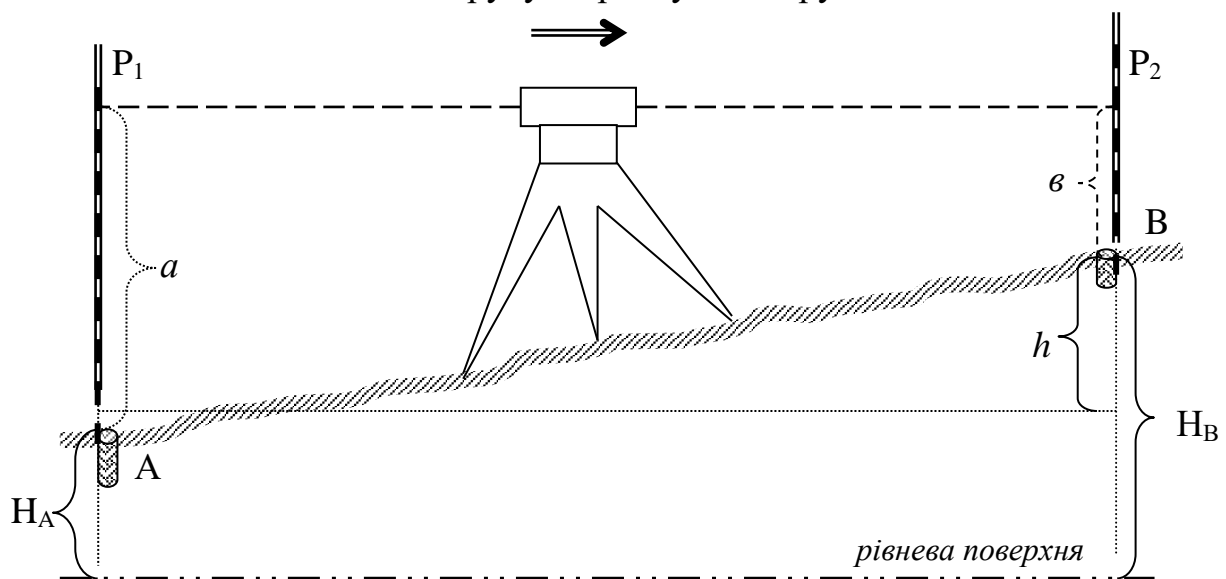


Рис. III.2.1. Геометричне нівелювання зі середини

Згідно з рис. III.2.1

$$h = a - b$$

Якщо нівелювання виконують в напрямку від **A** до **B**, то рейка **P₁** буде задньою, а **P₂** - передньою. Відповідно, перевищення **h** дорівнює різниці відліків задньої та передньої рейок. При $a > b$, перевищення **h** додатне, при $a < b$ – від'ємне [10, 12].

Послідовність роботи на станції:

- нівелір встановлюють посередині між рейками, приводять його в робоче положення;
- наводять середню нитку нівеліра на **задню** рейку, діоптрійним кільцем та фокусувальним гвинтом досягають чіткого зображення сітки ниток та рейки, приводять бульбашку циліндричного рівня в нуль-пункт (в

полі зору нівеліра видно суміщені кінці половинок рівня у вигляді параболи) і відраховують **чорну** сторону рейки (в таблиці III.2.1 відлік (1));

- переводять трубу на **передню** рейку, досягають чіткого зображення сітки ниток та рейки, приводять бульбашку циліндричного рівня в нуль-пункт і беруть відлік **чорної** сторони (2);
- не змінюючи положення нівеліра, повертають **передню** рейку **червоною** стороною до спостерігача і беруть відлік рейки (3);
- закінчують спостереження на станції відліком (4) **червоної** сторони **задньої** рейки.

Результати спостереження записують в журнал (табл. III.2.1)

- обчислюють „п’ятки” рейок (5), (6) як різниці відліків червоної і чорної сторони задньої та передньої рейок, тобто (4) - (1) та (3) - (2);
- обчислені перевищення (7), (8) отримують як різниці відліків (1) - (2) та (4) - (3);
- обчислюють середнє значення перевищення на станції $h_{сер}$. (9).

Контроль на станції:

- розбіжність у значеннях п’яток рейок повинна бути в межах 5мм;
- розбіжність у перевищеннях по чорній і червоній стороні рейок повинна бути в межах 5мм;
- обчислені перевищення мають збігатися з різницями п’яток рейок;

Завдання 1: Визначити перевищення на станції нівелювання .

ЖУРНАЛ обчислення перевищень на станції

Таблиця III.2.1

№№ станцій	№№ пікетів	Відліки рейок			Перевищення h_m						Висота H_m	
		Задня	Передня	Проміжна	Обчислене		Середнє		Ув’язане			
					+	-	+	-	+	-		
1	2	3	4	5	6	7	8	9	10	11	12	
I	A	1974(1)										
	B	<u>6754(4)</u> 4780(5)	1137(2)		0837(7)	0835(8)	0836(9)					
II												

№№ станцій	№№ пікетів	Відліки рейок			Перевищення h_m						Висота H_m
		Задня	Передня	Проміжна	Обчислене		Середнє		Ув'язане		
					+	-	+	-	+	-	
1	2	3	4	5	6	7	8	9	10	11	12
III											
IV											
V											
VI											
VII											
VIII											

Оцінка: _____

Виконав/ла ст. гр. - _____

Викладач: _____

“ _____ ” _____ 20 ____ р.

$$R = 100 + \underline{\hspace{2cm}} = \underline{\hspace{2cm}} \text{ м}$$

4. Румб початкового напрямку траси $r = \text{ПнС}: 30^\circ 10'$.

Послідовність обчислювальних та графічних робіт

- обчислення польового журналу технічного нівелювання траси;
- складання профілю траси;
- проектування на профілі;
- розрахунок елементів колової кривої та відображення її на профілі траси;
- графічне оформлення роботи.

1. Обчислення журналу нівелювання траси

Розрахунки виконують в журналі (Додаток 1) в такій послідовності:

1. На кожній станції обчислюють перевищення h_1 і h_2 як різницю відліків задніх (a) і передніх (b) рейок

$$h_1 = a_{\text{чорн.}} - b_{\text{чорн.}} \quad (\text{Ш.3.1})$$

$$h_2 = a_{\text{черв.}} - b_{\text{черв.}} \quad (\text{Ш.3.2})$$

На станції різниця між перевищеннями, обчисленими за чорною та червоною сторонами рейок не повинна перевищувати 5 мм! Обчислені перевищення h_1 і h_2 записують в графу 6 журналу з відповідними знаками.

2. На кожній станції обчислюють “п’ятки” рейок $P_{\text{задн.}}$, $P_{\text{пер.}}$ як різницю відліків червоної та чорної сторони даної рейки

$$P_{\text{задн.}} = a_{\text{черв.}} - a_{\text{чорн.}} \quad (\text{Ш.3.3})$$

$$P_{\text{пер.}} = b_{\text{черв.}} - b_{\text{чорн.}} \quad (\text{Ш.3.4})$$

Різниця між “п’ятками” рейок не повинна перевищувати 5 мм і дорівнювати різниці перевищень на станції! Обчислені “п’ятки” записують в графи 3 і 4 під відліками відповідних рейок.

3. Середні перевищення на станції отримують як середнє арифметичне за формулою

$$h_{\text{сер.}} = \frac{h_1 + h_2}{2} \quad (\text{Ш.3.5})$$

Середні значення записують в графу 7.

4. Виконують посторінковий контроль для перевірки правильності всіх обчислень.

Для цього додають відліки чорних та червоних сторін задньої Σ_s і передньої Σ_n рейок (графи 3 і 4). *До суми відліків не вносять значення “п’яток” рейок.* Аналогічно знаходять суми обчислених перевищень $\Sigma_{обч.}$ (графа 6) і суми середніх перевищень $\Sigma_{сер.}$ (графа 7). Обчислені суми повинні відповідати умові

$$\Sigma_s - \Sigma_n = \Sigma_{обч.} = 2\Sigma_{сер.} \quad (\text{Ш.3.6})$$

Суми записують знизу під відповідними графами на кожній сторінці журналу. *Розбіжність між сумами повинна дорівнювати 0!*

5. Обчислюють нев’язку нівелірного ходу за формулою

$$f_h = \Sigma_{сер.} - \Sigma_{теор.}, \quad (\text{Ш.3.7})$$

де $\Sigma_{сер.}$ – сума середніх перевищень в ході нівелювання;
 $\Sigma_{теор.}$ – теоретична сума перевищень.

Для розімкненого нівелірного ходу з відомими висотами початкової та кінцевої точок запишемо

$$\Sigma h_{теор.} = H_{кін.} - H_{поч.}, \quad (\text{Ш.3.8})$$

де $H_{кін.}$, $H_{поч.}$ – висота кінцевої та початкової точок відповідно.

В нашому випадку: $H_{кін.} = H_{ПК5}$, а $H_{поч.} = H_{ПК0}$.

6. Виконують оцінку точності нівелірного ходу. Для цього нев’язку f_h порівнюють із допустимою

$$f_{h доп.} = \pm 50 \text{ мм } \sqrt{L}, \quad (\text{Ш.3.9})$$

де L – довжина нівелірного ходу в кілометрах (0,5 км).

7. Ув’язування середніх перевищень виконують в тому випадку, коли нев’язка f_h не перевищує допустимої. Середні перевищення виправляють порівну поправками $\delta_h = -\frac{f_h}{n}$, знак яких обернений до знаку нев’язки! Бажано, щоб ув’язані перевищення не мали десятих долей міліметра! Сума поправок повинна дорівнювати нев’язці, взятій з протилежним знаком

$$\Sigma \delta_h = -f_h. \quad (\text{Ш.3.10})$$

Поправки δ_h виписують червоним кольором над середніми перевищеннями (графа 7). Ув’язані (виправлені) перевищення обчислюють за формулою

$$h_{ув.} = h_{сер.} + \delta_n. \quad (III.3.11)$$

Контролем обчислення $h_{ув.}$ є збіжність сум ув'язаних і теоретичних значень перевищень.

$$\sum h_{ув.} = \sum h_{теор.} \quad (III.3.12)$$

Значення ув'язаних перевищень зі своїм знаком записують в графу 8 нівелірного журналу.

8. Висоти зв'язуючих точок обчислюють за правилом: **висота наступної точки H_{i+1} дорівнює висоті попередньої точки H_i плюс ув'язане $h_{ув.}$ перевищення (зі своїм знаком!) між цими точками**

$$H_{i+1} = H_i + h_{ув.}, \quad (III.3.13)$$

де i – номер точки.

Під час обчислювальних робіт слід пам'ятати, що висоти точок задані в метрах, а перевищення – в міліметрах. Обчислені висоти зв'язуючих точок записують в графу 10 нівелірного журналу.

9. Обчислення висот проміжних точок виконують через горизонт нівеліра **$ГН$**

$$ГН = H_i + a, \quad (III.3.14)$$

а висоту проміжної точки

$$H_{пр.} = ГН - c, \quad (III.3.15)$$

де **$ГН$** – горизонт нівеліра (висота візирної осі над рівневою поверхнею);

H_i – висота задньої зв'язуючої точки;

a – відлік чорної сторони задньої рейки;

$H_{пр.}$ – висота проміжної точки;

c – відлік чорної сторони рейки на проміжній точці.

Значення горизонту нівеліра **$ГН$** записують в графу 9, а висоту проміжної точки – у відповідному рядку графі 10 нівелірного журналу.

10. Оформлення нівелірного журналу.

Всі графи журналу, окрім графі 10, заповнюють олівцем. Графу 10, посторінковий контроль, обчислення, пов'язані з оцінкою точності нівелірного ходу, записують чорним кольором; значення поправок δ_n в середні перевищення – червоним кольором.

11. Побудова профілю траси місцевості

Профіль траси місцевості викреслюють спочатку олівцем на міліметровому папері, починаючи з сітки профілю у вигляді наступних горизонтальних граф (табл. III.3.1):

Таблиця III.3.1

Номер графи	Назва графи	Ширина графи (см)
1	Ухили та віддалі	1,0
2	Проектні висоти	1,5
3	Висоти землі	1,5
4	Пікети та віддалі	1,0
5	Прямі та криві	3,0
6	План траси	2,0

Поздовжній профіль викреслюють у двох різних масштабах: горизонтальному - 1:2000, вертикальному - 1:200. Побудова виконується у такій послідовності:

а) викреслюють сітку профілю і починають її заповнення з графи 4, фіксуючи положення пікетів та плюсових точок вертикальними лініями (Додаток 2);

б) висоти точок вибирають із журналу нівелювання (Додаток 1), їх значення заокруглюють до 0,01 м і записують в графу 3 сітки профілю;

в) виконують побудову профілю місцевості, відкладаючи висоти пікетів та плюсових точок від умовного горизонту в масштабі 1:200.

Вибір умовного горизонту повинен забезпечувати положення лінії профілю місцевості не нижче, ніж 4-5 см над графою 1 сітки профілю.

Після виконання графічних побудов точки з'єднують ламаною лінією, котру і називають ***профілем траси (вертикальним перерізом ділянки місцевості у заданому напрямі).***

3. Проектування на профілі

При проектуванні проектної лінії дотримуються наступних умов:

- ухили на окремих ділянках траси не повинні перевищувати допустимих значень, допустимий ухил 30 ‰ (промилле) (1 ‰ = 0,001);
- переходи від додатних ухилів (підйомів) до від'ємних (спусків) і навпаки проектують через вставки (горизонтальні прямі);
- збереження балансу земляних робіт, при якому об'єми насипу та виїмки на трасі повинні бути приблизно однакові.

$$V_{\text{насипу}} \approx V_{\text{виїмки}} \quad (\text{III.3.16})$$

Проектна лінія, як правило, складається із декількох ліній з різними ухилами.

Ухили визначають за формулою

$$i = \frac{H_2 - H_1}{d} = \frac{h}{d}, \quad (\text{III.3.17})$$

де i - ухил проектної лінії (обчислюють до 0,001);

H_1 і H_2 - висоти початкової та кінцевої точок проектної лінії на ділянці з однаковим ухилом (висоти визначають з профілю графічно);

d - віддаль, на якій діє ухил i .

З метою зручності та точності подальших розрахунків, ухил i коригують так, щоб його значення відображалось цілою тисячною. Для цього переміщують один із кінців проектної лінії у вертикальному напрямі так, щоб в результаті ділення різниці висот початкової та кінцевої точок проектної лінії h на відстань d одержати ціле число промілле. Таким чином обчислюють проектні ухили на всіх ділянках траси.

В графі 1 сітки профілю умовно показують підйом або спуск похилою лінією, у випадку нульового ухилу викреслюють горизонтальну лінію. Над лінією записують ухил в тисячних (промілле ‰), а під лінією - довжину ділянки, на якій діє даний ухил.

Використовуючи обчислені ухили проектної лінії та проектні висоти кінців цієї лінії, визначають проектні висоти усіх точок профілю

$$H_{k+1} = H_k + i \cdot d_k, \quad (\text{III.3.18})$$

де H_k - відома проектна висота точки (задня точка);

H_{k+1} - висота точки, яку визначають (передня точка);

d_k - віддаль між суміжними точками;

k - кількість відрізків в d .

Контроль правильності обчислення перевищень та висот

$$h = d \cdot i = \sum_1^k d_k \cdot i. \quad (\text{III.3.19})$$

$$H_2 = H_1 + d \cdot i \quad \text{і} \quad H_2 = H_1 + \sum_1^k d_k \cdot i.$$

Проектні висоти обчислюють до 0,01 м і записують в графу 2 сітки профілю над відповідними точками траси.

Робочі висоти h_p обчислюють як різницю проектних висот H_{np} і висот точок земної поверхні H_3 за формулою

$$h_p = H_{np} - H_3. \quad (\text{III.3.20})$$

Робочі висоти записують над проектною лінією або під нею. Вони характеризують вид і об'єм земляних робіт в даній точці траси. Робочі висоти h_p записані над проектною лінією свідчать про те, що в цих точках треба виконати насип, а під проектною лінією - вказують на виїмку.

Місця перетину проектної лінії з лінією профілю називають точками нульових робіт, тобто точками, в яких земляні роботи дорівнюють нулю!

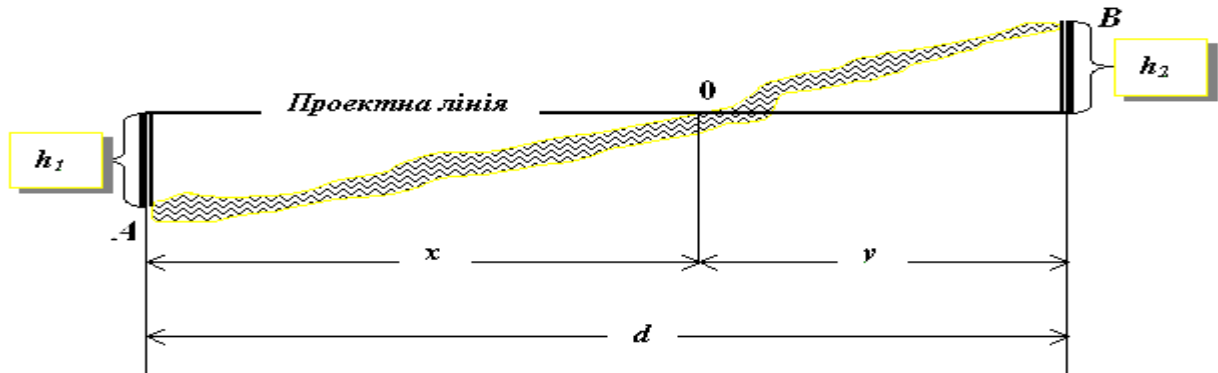


Рис. III.3.1. Точки нульових робіт на профілі

Віддаль x від задньої проектної точки A до точки нульових робіт визначають за формулою

$$x = \frac{h_1 \cdot d}{h_1 + h_2}, \quad (\text{III.3.21})$$

або y – від передньої точки B

$$y = \frac{h_2 \cdot d}{h_1 + h_2}, \quad (\text{III.3.22})$$

де d - горизонтальна віддаль між попередньою та наступною точками профілю;

h_1 і h_2 - робочі висоти у вказаних точках.

Робочі висоти h_1 і h_2 приймають за абсолютною величиною.

Значення x виписують на профіль над лінією умовного горизонту, а місце перетину профілю з проектною лінією позначають нулем. Контролем правильності обчислення віддалей до точок нульових робіт є умова: $d = x + y$.

Визначивши значення x з точністю до 0,01 м, обчислюють проектні висоти точок нульових робіт так само, як і проектні висоти всіх точок профілю за формулою

$$H_o = H_{np} \pm i x, \quad (\text{III.3.23})$$

де H_{np} – проектна висота задньої точки.

Знак залежить від того, піднімається чи опускається проектна лінія.

Значення H_0 записують в графу 2 сітки профілю (Додаток 2).

4. Розрахунок елементів колової кривої та відображення її на профілі

Елементи колової кривої: T – тангенс, K – крива, B – бісектриса, D – домір обчислюють за заданим кутом повороту траси α та радіусом кривої R на мікрокалькуляторі за формулами, які наведені в Додатку 1.

Можна також користуватися спеціальними “Таблицями для розмічування колових кривих”, в яких за аргументами α вибирають елементи кривої T, K, B, D . Таблиці складено для кривих радіусом $R = 1000$ м, тому значення елементів колової кривої необхідно привести у відповідність із заданим радіусом (див. вихідні дані).

Пікетажні положення початку та кінця кривої обчислюють за формулами

$$\begin{aligned} (ПК) &= (BK) - T; \\ (KK) &= (ПК) + K; \\ \text{Контроль: } (KK) &= (BK) + T - D, \end{aligned} \quad (III.3.24)$$

де (BK) , $(ПК)$, (KK) – пікетажні значення вершини кута, початку та кінця кривої відповідно.

Для індивідуальних обчислень можна скористатися фрагментом наведеної нижче таблиці III.3.2 для розмічування колових кривих.

Обчислені елементи кривої записують в графі 5 сітки профілю, що відтворює колову криву. Дуги викреслюють вгору відносно осі траси - якщо кути повороту праві, донизу - якщо кути повороту ліві (Додаток 2).

Початок та кінець колової кривої “прив’язують” до пікетів, як показано в Додатку 2. Цифри, що підписані на початку та кінці дуги показують:

- 15,01 – віддаль від заднього пікету ($ПК2$) до початку кривої;
- 84,99 = 100 – 15,01 – віддаль від початку кривої до переднього пікету ($ПК3$);
- 82,32 – віддаль від заднього пікету ($ПК2$) до кінця кривої;
- 17,68 = 100 – 82,32 – віддаль від кінця кривої до переднього пікету ($ПК3$).

$\alpha = 38^\circ$ $R = 1000$ $\alpha = 39^\circ$

Таблиця III.3.2

Основні елементи колових кривих				Мінути кута α	Основні елементи колових кривих			
T	K	D	B		T	K	D	B
344,33	663,23	25,43	57,62	0	354,12	680,68	27,56	60,85
49	52	46	67	1	28	97	60	90
65	81	50	73	2	45	681,26	63	96
344,82	664,10	25,53	57,78	3	354,61	681,55	27,67	61,01
98	39	57	83	4	77	84	70	07
345,14	68	60	89	5	94	682,13	74	12
345,30	664,97	25,64	57,94	6	355,10	682,42	27,78	61,18
47	665,26	68	99	7	26	71	81	23
63	55	71	58,05	8	43	683,01	85	29
345,79	665,84	25,74	58,10	9	355,59	683,30	27,89	61,34
96	666,13	78	15	10	76	59	93	40
346,12	42	81	20	11	92	88	96	45
346,28	666,72	25,85	58,26	12	356,08	684,17	28,00	61,51
44	667,01	88	31	13	25	46	04	56
61	30	92	36	14	41	75	07	62
346,77	667,59	25,95	58,42	15	356,58	685,04	28,11	61,67
93	88	99	47	16	74	33	15	73
347,10	668,17	26,02	53	17	90	62	18	78
347,26	668,46	26,06	58,58	18	357,07	685,91	28,22	61,84
42	75	09	63	19	23	686,21	26	89
58	669,04	13	69	20	40	50	30	95
347,75	669,33	26,16	58,74	21	357,56	686,79	28,33	62,00
91	62	20	79	22	72	687,08	37	06
348,07	92	23	85	23	89	37	41	11
348,24	670,21	26,27	58,90	24	358,05	687,66	28,44	62,17
40	50	30	95	25	22	95	48	22
56	79	34	59,01	26	38	688,24	52	28
348,73	671,08	26,37	59,06	27	358,54	688,53	28,56	62,33
89	37	41	11	28	71	82	59	39
349,05	66	44	17	29	87	689,11	63	45
349,22	671,95	26,48	59,22	30	359,04	68941	28,67	62,50
38	672,24	52	28	31	20	70	71	56
54	53	55	33	32	37	99	74	61
349,71	672,82	26,59	59,38	33	359,53	690,28	28,78	62,67
87	673,12	62	44	34	69	57	82	72
350,03	41	66	49	35	86	86	86	78
350,20	673,70	26,69	59,55	36	360,02	691,15	28,89	62,83
36	99	73	60	37	19	44	93	89
52	674,28	76	65	38	35	73	97	95
350,68	674,57	26,80	59,71	39	360,52	692,02	29,01	63,00
85	86	84	76	40	68	31	05	06
351,01	675,15	87	82	41	84	60	08	11
351,18	675,44	26,91	59,87	42	361,01	692,90	29,12	63,17
34	73	94	92	43	17	693,19	16	22
50	676,02	98	98	44	34	48	20	28
351,67	676,32	27,02	60,03	45	361,50	693,77	29,23	63,34
83	61	05	09	46	67	694,06	27	39
99	90	09	14	47	83	35	31	45
352,16	677,19	27,12	60,20	48	361,99	694,64	29,35	63,50
32	48	16	25	49	362,16	93	39	56
48	77	20	30	50	32	695,22	43	62
352,65	678,06	27,23	60,36	51	362,49	695,51	29,46	63,67
81	35	27	41	52	65	80	50	73
97	64	30	47	53	82	696,10	54	78
353,14	678,93	27,34	60,52	54	362,98	696,39	29,58	63,84
30	679,22	38	58	55	363,15	68	62	90
46	51	41	63	56	31	97	65	95
353,63	679,81	27,45	60,68	57	363,48	697,26	29,69	64,01
79	680,10	49	74	58	64	55	73	07
95	39	52	79	59	81	84	77	12
354,12	680,68	27,56	60,85	60	363,97	698,13	29,81	64,18

Обчислені елементи кривої записують в графі 5 сітки профілю, що відтворює колово криву. Дуги викреслюють вгору відносно осі траси - якщо кути повороту праві, донизу - якщо кути повороту ліві (Додаток 2).

Початок та кінець колової кривої “прив’язують” до пікетів, як показано в Додатку 2. Цифри, що підписані на початку та кінці дуги показують:

- 15,01 – віддаль від заднього пікету (**ПК2**) до початку кривої;
- 84,99 = 100 – 15,01 – віддаль від початку кривої до переднього пікету (**ПК3**);
- 82,32 – віддаль від заднього пікету (**ПК2**) до кінця кривої;
- 17,68 = 100 – 82,32 – віддаль від кінця кривої до переднього пікету (**ПК3**).

Для визначення загальної довжини траси обчислюють прямі вставки - віддалі P_1 між початком траси та початком кривої (215,01 м = 200 м + 15,01 м), P_2 - між кінцем кривої та кінцем траси (217,68 м = 17,68 м + 200 м), а також враховують довжину кривої $K = (67,31$ м).

Значення прямих вставок записують під віссю траси (графа 5), а над лінією - румби цих прямих вставок. Румб початкового напрямку задають ($r_1 = \text{ПнС: } 30^\circ 10'$), а наступний обчислюють: правий за ходом кут повороту додають ($68^\circ 44' = 30^\circ 10' + 38^\circ 34'$), а лівий - віднімають.

Контролем обчислення є визначення загальної довжини L траси:

$$L = \Sigma P + \Sigma K, \quad (\text{III.3.25})$$

де P - прямі вставки ; $P_1=215,01$; $P_2=217,68$

K - довжини кривих; $K = 67,31$

$$L = 215,01 \text{ м} + 217,68 \text{ м} + 67,31 \text{ м} = 500,00 \text{ м}.$$

5. Графічне оформлення профілю

Після перевірки та коригування всього обчисленого матеріалу та графічних побудов, виконаних олівцем, профіль викреслюють тушшю.

Червоною кольором викреслюють всі елементи, пов’язані з проектуванням: проектну лінію; робочі висоти; дані граф 1, 2, 5 сітки профілю; в графі 6 сітки - вісь траси та вершини кутів повороту траси (стрілкою вліво або вправо).

Синім кольором викреслюють всі елементи, що відносяться до точок нульових робіт: нулі в місцях перетину проектної лінії з лінією профілю; вертикальні лінії від точок нульових робіт до умовного горизонту; значення

віддалей від пікетів до точок нульових робіт; проектні висоти точок нульових робіт.

Всі інші лінії та написи виконують чорним кольором.

Ситуація вздовж траси для оформлення графі 6 сітки профілю подана в пікетажному журналі (таблиця III.3.3). Ситуацію наносять в умовних знаках заданого масштабу. Для даного завдання - це масштаб 1:2 000 [13].

Написи «Профіль нівелювання траси від ПК0 до ПК5», масштаби викреслюють топографічним шрифтом (висота букв та цифр 4,0мм), всі інші написи викреслюють курсивним остовним шрифтом, рядковими буквами висотою 2 - 3мм.

Оцінка: _____

Виконав/ла ст. гр. - _____

Викладач: _____

“ _____ “ _____ 20 _____ р.

Таблиця III.3.3 (додаток 1)

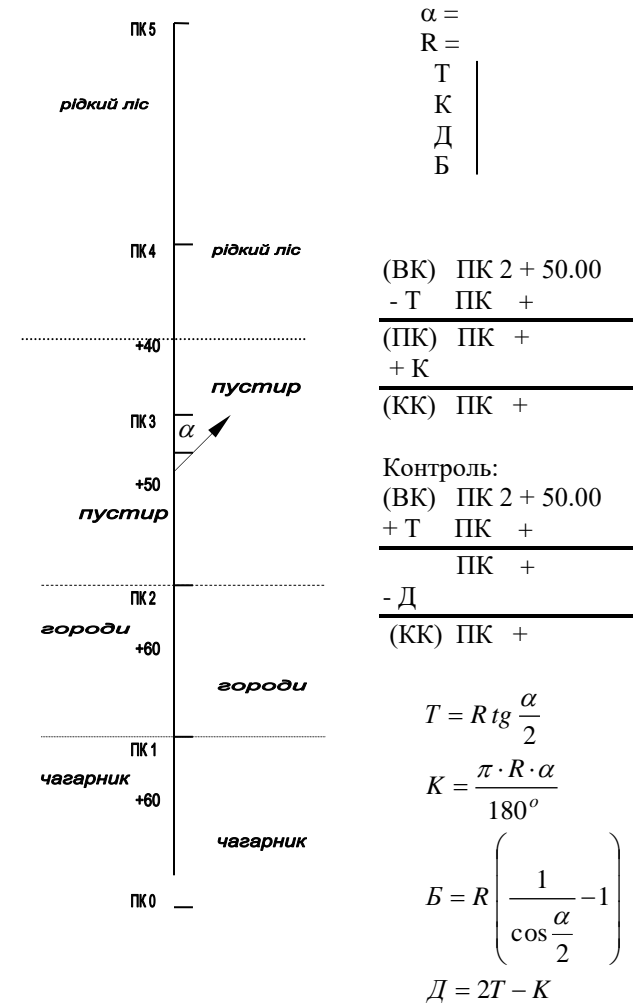
Дата _____

Вимірював _____

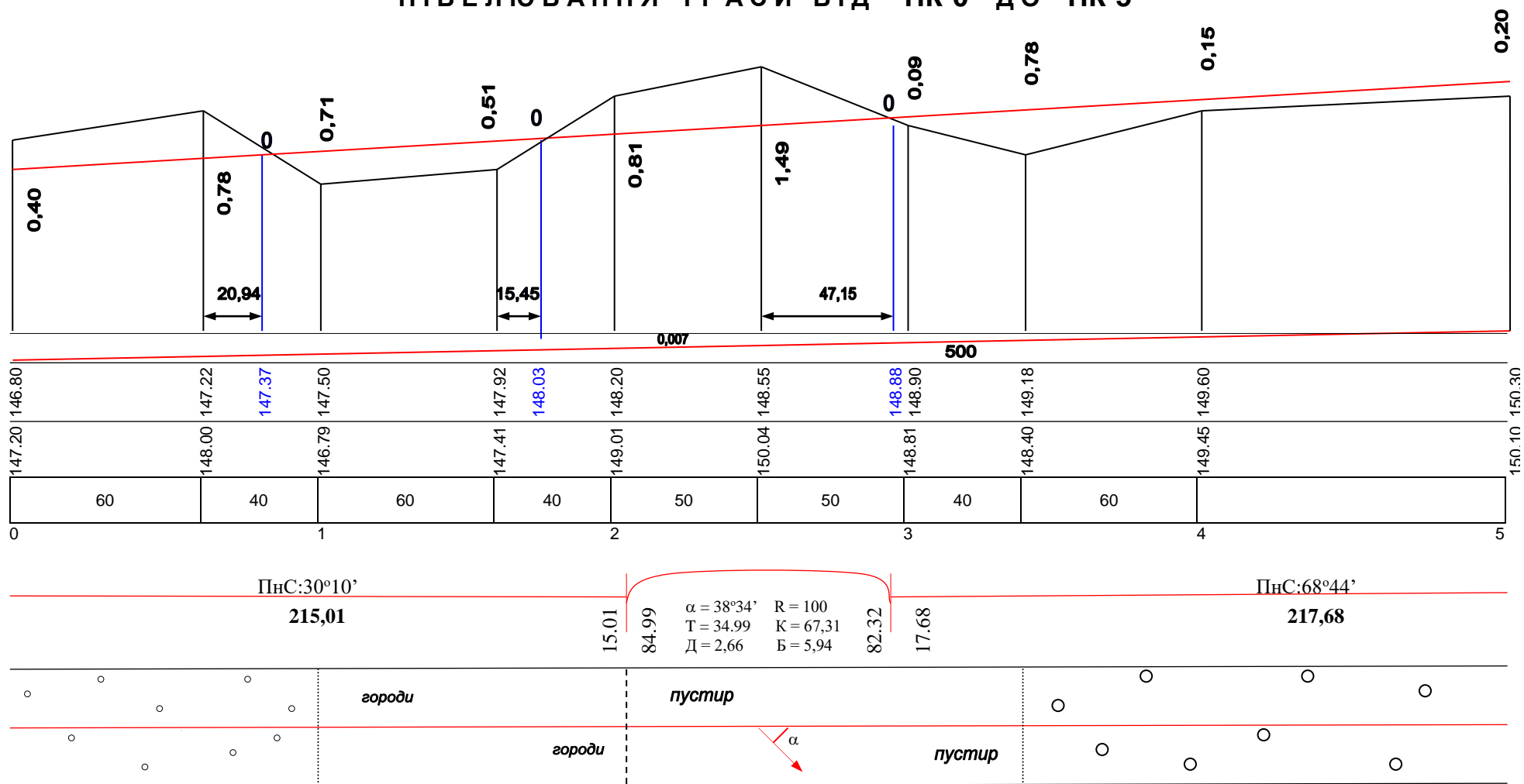
Записав _____

Номер станції	Номер точки, пікету, репера	Відліки рейки			Перевищення			Горизонт приладу	Висоти
		задньої	передньої	проміжної	обчислені	середні	ув'язані		
1	2	3	4	5	6	7	8	9	10
1	ПК 0 +60 ПК 1	1243 <u>5926</u> 4683	1654 <u>6339</u> 4685	0443					
2	ПК 1 +60 ПК 2	2634 <u>7320</u>	0414 <u>5096</u>	2010					
3	ПК 2 +50	1578 <u>6264</u>	0548 <u>5232</u>						
4	+50 ПК 3	1015 <u>5697</u>	2241 <u>6927</u>						
5	ПК 3 +40 ПК 4	1437 <u>6117</u>	0801 <u>5485</u>	1852					
6	ПК 4 ПК 5	1526 <u>6209</u>	0872 <u>5557</u>						
Контроль		Σ_3	Σ_4		$\Sigma_{обч}$	$\Sigma_{сер}$			

ПІКЕТАЖНА КНИЖКА



ПРОФІЛЬ НІВЕЛЮВАННЯ ТРАСИ ВІД ПК-0 ДО ПК-5



Оцінка: _____

Викладач: _____

“ _____ ” 20 ____ р.

Масштаби:

горизонтальний 1 : 2000
вертикальний 1 : 200

Профіль склав(ла) і викреслив(ла)
ст.гр. _____

ГЛАВА ІV. ОСНОВНІ ПОНЯТТЯ ЗЕМЛЕУСТРОЮ

РОЗДІЛ ІV.1. ПОБУДОВА ПЛАНУ ТА ВИЗНАЧЕННЯ ПЛОЩ КОНТУРІВ УГІДЬ СІЛЬСЬКОГОСПОДАРСЬКОГО ПІДПРИЄМСТВА

Земельний кодекс України (ст. 196) встановлює, що Державний земельний кадастр включає: державну реєстрацію земельних ділянок; облік кількості та якості земель; бонітування ґрунтів; зонування територій населених пунктів; економічну та грошову оцінку земель; кадастрове знімання. Усі ці складові частини Державного земельного кадастру мають різне застосування у загальній системі управління земельними ресурсами [8, 9].

Законодавчими актами України передбачено ведення двох реєстрів земельних ділянок: реєстр об'єктів та реєстр прав на них. Державну реєстрацію земельних ділянок здійснюють у складі Державного земельного кадастру. Реєстр включає:

- книгу записів реєстрації державних актів на право власності на землю та на право постійного користування землею, договори оренди із зазначенням кадастрових номерів земельних ділянок;
- поземельну книгу, яка містить відомості щодо земельної ділянки.

Облік кількості та якості земель регламентується вимогами Земельного кодексу України. Найперспективнішим для проведення обліку якості земель стає застосування спеціальних методів дистанційного зондування землі, що ґрунтуються на реєстрації і подальшій інтерпретації відбитої сонячної радіації від поверхні ґрунту, рослинності та інших об'єктів.

Бонітування ґрунтів – це порівняльна оцінка якості ґрунтів за їх основними природними властивостями, які мають сталий характер, істотно впливають на урожайність сільськогосподарських культур, вирощуваних у конкретних природно-кліматичних умовах. Згідно з вимогами ст. 184 Земельного кодексу України бонітування ґрунтів проводиться за 100-бальною шкалою. Вищим балом оцінюються ґрунти з кращими властивостями, які мають найбільшу природну продуктивність. Відповідно до ст. 37 закону України від 22.05.2003 № 858-ІV “Про землеустрій” дані бонітування ґрунтів використовуються під час здійснення землеустрою з метою розроблення комплексу заходів із землеустрою щодо використання та охорони земель, збереження і підвищення родючості ґрунтів.

Економічна та грошова оцінка земель – це визначення вартості землі як природного ресурсу і засобу виробництва у сільському і лісовому господарстві та як просторового базису у суспільному виробництві за показниками, що характеризують продуктивність земель, ефективність їхнього використання та прибутковість з одиниці площі. Економічна оцінка земель різного призначення проводиться з метою здійснення порівняльного аналізу ефективності їх використання. Одержані при цьому дані стають основою проведення грошової оцінки земельної ділянки різного цільового призначення. Відповідно до ст. 17 закону України “Про оцінку земель” економічна оцінка земель проводиться на землях сільськогосподарського призначення незалежно від форм власності не рідше як один раз на 5–7 років. Економічна оцінка земель визначається в

умовних кадастрових гектарах або у грошовому виразі за методикою, затвердженою Держземагенцією України з земельних ресурсів. Економічна оцінка земель була проведена в Україні ще у 1988 р. і сьогодні фактично втратила актуальність.

Грошову оцінку земельних ділянок здійснюють на рентній основі з урахуванням кількісних та якісних характеристик ділянки, її правового режиму, земельних поліпшень, природних і економічних умов, виду економічної діяльності та місцезнаходження земельної ділянки. За результатами проведення експертної грошової оцінки земельних ділянок складається звіт.

Кадастрове зонування – це встановлення: місця розташування обмежень щодо використання земель; меж кадастрових зон і кварталів; меж оціночних районів та зон; створення системи кадастрових номерів (кадастрова нумерація земельних ділянок).

Основою земельно-кадастрових робіт є кадастрові знімання. Облік кількості та якості земель регламентується вимогами Земельного кодексу України. Облік кількості земель відображає відомості, які характеризують кожен земельну ділянку за площею та складом угідь відповідно до прийнятої класифікації. Цей облік ведеться по власниках землі і землекористувачах зокрема, і орендарях.

Завдання 1: Побудувати план землевпорядкування сільськогосподарського підприємства (рис. IV.1.1) за координатами точок 1-3-7-8-11-14-17-21-22-24 з таблиці № IV.1.1 та № IV.1.2 (точки 7, 21, 24 вибираються за варіантом) і пронумерувати контури земельних угідь згідно до плану (рис. IV.1.2).

На побудованому плані (рис. IV.1.1) виділяємо кордони контурів, з'єднавши точки, які обмежують визначені контури, а саме:

I контур – точки 1-3-7-24-1;

II контур – точки 7-8-11-24-7;

III контур – точки 11-14-17-21-11;

IV контур – точки 11-21-24-11;

V контур – точки 21-22-24-21;

VI контур – точки 23-24-25-30-23;

VII контур – точки 25-26-27-28-29-30-25.

Каталог координат точок окружної межі землекористування
сільськогосподарського підприємства

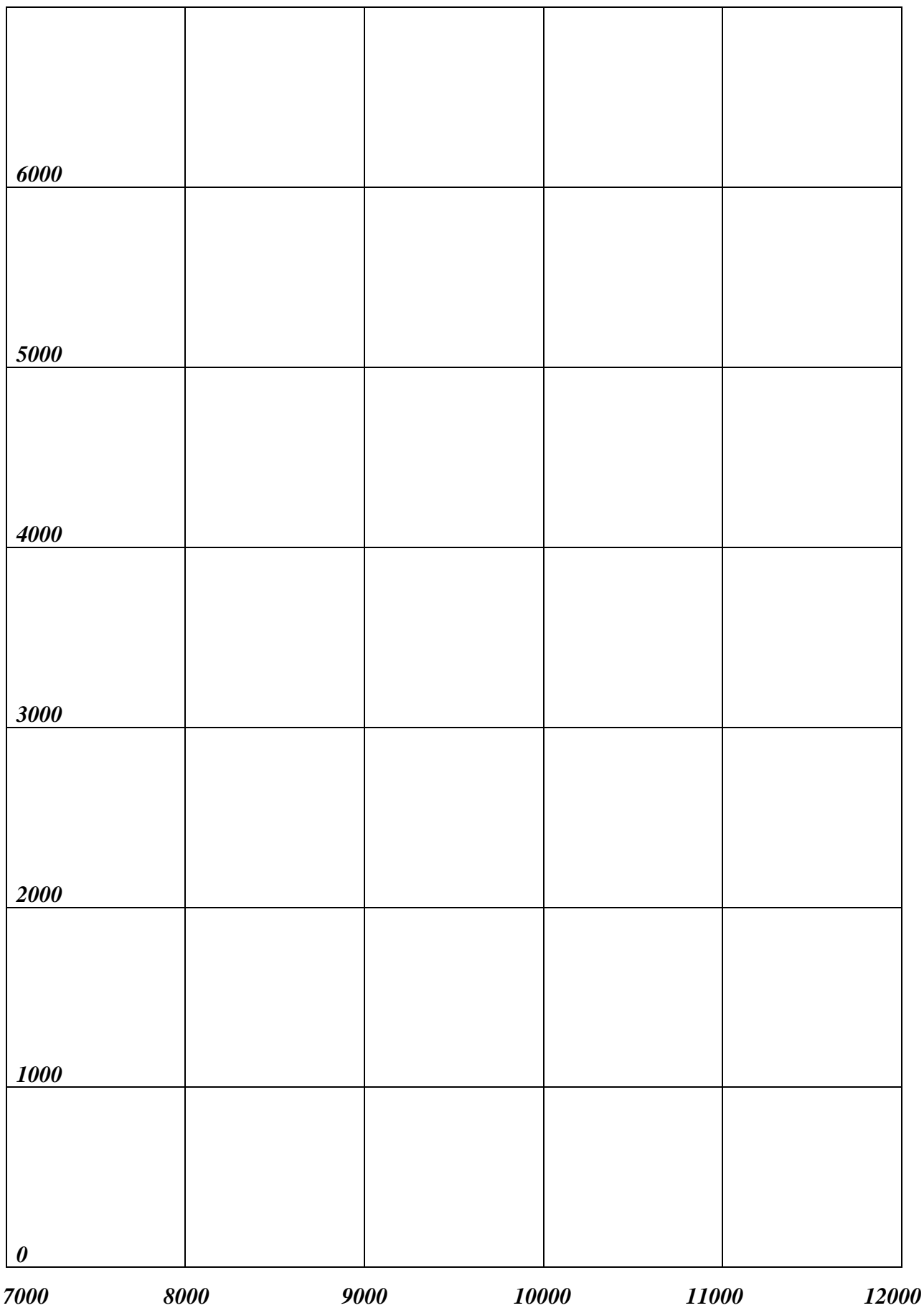
Таблиця IV.1.1

№ п/п	Координати	
	X	Y
1.	3048	11775
2.	2124	11816
3.	1478	11710
4.	1469	10805
5.	1450	10471
6.	1240	9714
7.		
8.	1206	7894
9.	1925	8169
10.	2490	8358
11.	3302	8651
12.	4006	8588
13.	4990	8493
14.	5782	8419
15.	5703	8892
16.	5731	9380
17.	5603	9760
18.	5356	9674
19.	5248	9769
20.	5335	10087
21.		
22.	4999	11408
23.	4031	11382
24.		
25.	3327	10491
26.	3120	10036
27.	3066	9621
28.	3412	9582
29.	3454	9962
30.	3637	10407

Таблиця IV.1.2

Значення координат точок 7, 21, 24 (за варіантами)

Варіанти	7		21		24	
	X	Y	X	Y	X	Y
1.	1254	8800	4990	10100	3250	11390
2.	1248	8808	4988	10107	3260	11395
3.	1232	8816	4986	10114	3270	11400
4.	1226	8824	4984	10121	3280	11405
5.	1220	8832	4982	10128	3290	11410
6.	1214	8840	4980	10135	3300	11415
7.	1208	8848	4978	10142	3310	11420
8.	1202	8856	4976	10149	3320	11425
9.	1196	8864	4974	10156	3330	11430
10.	1190	8872	4972	10163	3340	11435
11.	1184	8880	4970	10170	3350	11440
12.	1178	8888	4968	10177	3360	11445
13.	1172	8896	4966	10184	3370	11450
14.	1166	8904	4964	10191	3380	11455
15.	1160	8912	4962	10198	3390	11460
16.	1154	8920	4960	10205	3400	11465
17.	1148	8928	4958	10212	3410	11470
18.	1142	8936	4956	10219	3420	11475
19.	1136	8944	4954	10226	3430	11480
20.	1130	8952	4952	10233	3440	11485
21.	1124	8960	4950	10240	3450	11490
22.	1118	8968	4948	10247	3460	11495
23.	1112	8976	4946	10254	3470	11500
24.	1106	8984	4944	10261	3480	11505
25.	1100	8990	4942	10268	3490	11510
26.	1094	8998	4940	10275	3500	11515
27.	1088	9006	4938	10282	3510	11520
28.	1082	9014	4936	10289	3520	11525
29.	1076	9022	4934	10296	3530	11530
30.	1070	9030	4932	10303	3540	11535
31.	1064	9038	4930	10310	3550	11540
32.	1058	9046	4928	10317	3560	11545
33.	1052	9054	4926	10324	3570	11550
34.	1046	9064	4924	10331	3580	11555
35.	1040	9072	4922	10338	3590	11560
36.	1034	9080	4920	10345	3600	11565
37.	1028	9088	4918	10352	3610	11570
38.	1022	9096	4916	10359	3620	11575
39.	1016	9104	4914	10366	3630	11580
40.	1010	9112	4912	10373	3640	11585
41.	1004	9120	4910	10380	3650	11590
42.	998	9128	4908	10387	3660	11595
43.	992	9136	4906	10394	3670	11600
44.	986	9144	4904	10401	3680	11605
45.	980	9152	4902	10408	3690	11610
46.	974	9160	4900	10415	3700	11615
47.	968	9168	4898	10422	3710	11620
48.	962	9176	4896	10429	3720	11625
49.	956	9184	4894	10436	3730	11630
50.	950	9192	4892	10443	3740	11635



M 1:300000

Рис. IV.1.1 План землевпорядкування с/госп. підприємства (за варіантом)

ПРОЕКТ

внутрігосподарського землеустрою господарства
"Сновське" Щорського району Чернігівської обл.

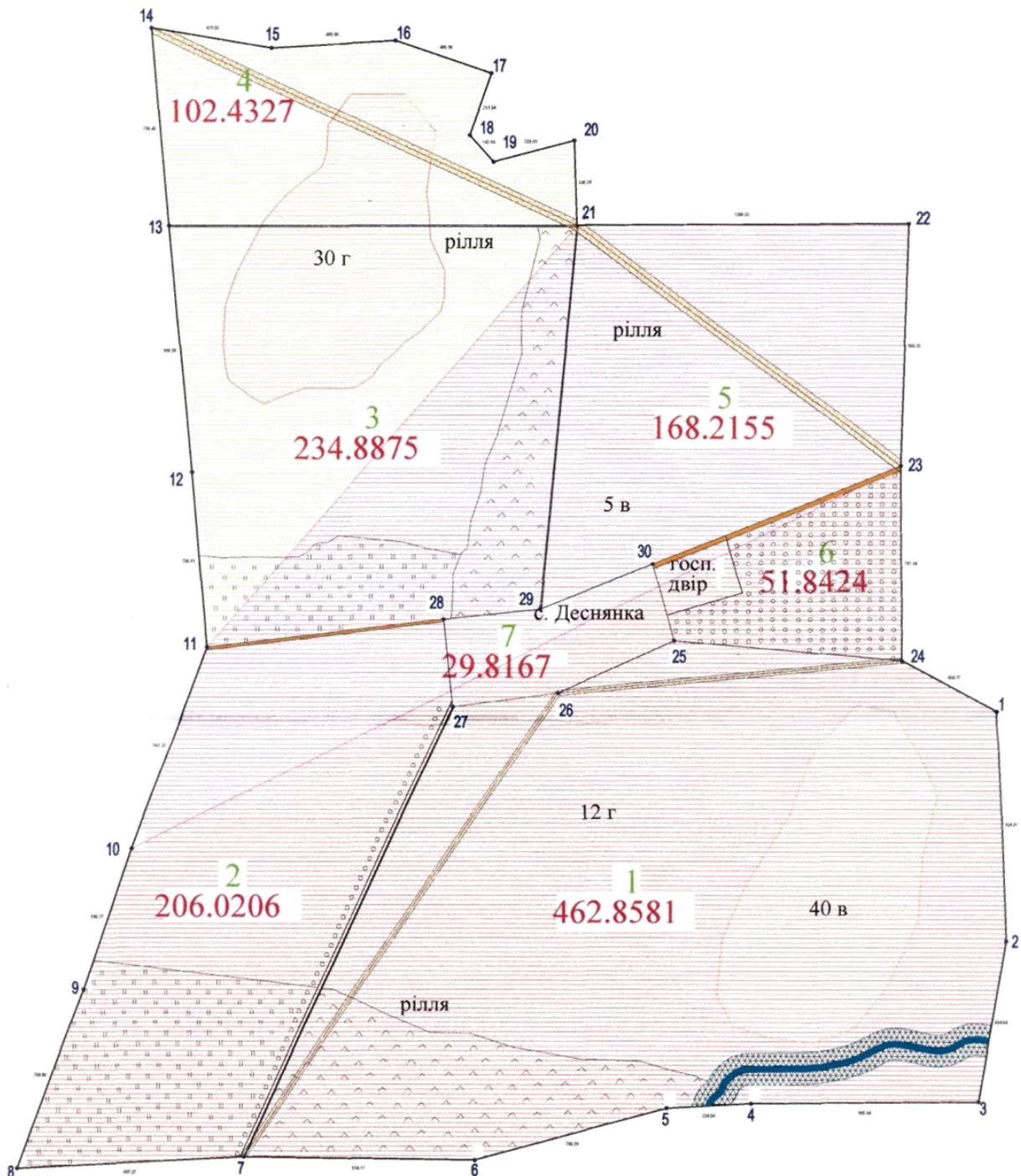


Рис. 2.1.2. План-схема землевпорядкування с/господарського підприємства (зразок)

Завдання 2: Обчислити загальну площу заданого контуру сільськогосподарського підприємства (за варіантом) аналітичним способом за координатами його вершин (таблиця IV.1.3).

Подвійна площа полігону обчислюється двічі за формулами:

$$2S = \sum_1^n X_i(Y_{i+1} - Y_{i-1}); \quad (\text{IV.1.1})$$

$$2S = \sum_1^n Y_i(X_{i-1} - X_{i+1}). \quad (\text{IV.1.2})$$

Для цього виписують у графи 1, 2 координати точок 1, 2, 3, 4, 5.... Потім обчислюють різниці ординат $Y_{i+1} - Y_{i-1}$ (наприклад, для точки 3 - $Y_4 - Y_2$) і абсцис $X_{i-1} - X_{i+1}$ для третьої точки - $X_2 - X_4$ і записують їх значення у графи 3, 4. Суми різниць по ординатах і абсцисах повинні дорівнювати нулю. Перемножуючи відповідні абсциси на різницю ординат та ординати на відповідні різниці абсцис – отримують добутки, які записують у графи 5, 6. **Суми добутків по X та Y дають подвійну площу в квадратних метрах і повинні бути однаковими.** Площу обчислюють до цілих m^2 , переводячи далі в га.

ВІДОМІСТЬ ОБЧИСЛЕННЯ ПЛОЩІ ЗА КООРДИНАТАМИ

Таблиця IV.1.3

№№ точок полігон у	Координати		Різниці		Добутки	
	X_i	Y_i	$Y_{i+1} - Y_{i-1}$	$X_{i-1} - X_{i+1}$	$X_i(Y_{i+1} - Y_{i-1})$	$Y_i(X_{i-1} - X_{i+1})$
1	2	3	4	5	6	7
			$\sum = 0$	$\sum = 0$	$\sum = 2S$	$\sum = 2S$
					$2S =$	$2S =$

Відповідь:

$$S = \frac{2S}{2} = \text{-----} = \text{-----} \text{м}^2$$

$$S = \text{-----} \text{га.}$$

Площу окремих контурів визначають механічним способом – за допомогою планіметра.

На рис. IV.1.3 та IV.1.4 зображені планіметри ПП (подвійний) і ПП-М

Завдання 3: Вивчити та записати будову планіметрів та порядок вимірювання площ.

Планіметр – це механічний прилад для вимірювання площ фігур на планах, картах, профілях або кресленнях. Найбільш розповсюджений – полярний планіметр (Рис. IV.1.3). Він складається з двох важелів – полюсного і обвідного. На обвідному важелі є лічильний механізм. Полюсний важіль з лупою (маркою) на одному кінці і тягарцем на іншому, що має голку, за допомогою якої кріпиться на карті в точці (полюсі), навколо якої обертається планіметр. Обвідний важіль має лупу з точкою, якою обводять контур фігури [6].

Для визначення площі встановлюють планіметр так, щоб полюс був закріплений поза фігурою, а марка обвідного важеля містилася у довільній точці контуру фігури. Відлічують шкалу лічильного механізму (відлік m_1 – 4 цифри) та плавно обводять маркою увесь контур фігури, повертаючись у вихідну точку. Зчитують другий відлік – m_2 . Різниця відліків ($m_2 - m_1$) є величиною площі фігури у поділках планіметра.

Площу фігури визначають за формулою:

$$S = \tau(m_2 - m_1), \text{ де } \tau - \text{ціна однієї поділки планіметра (м}^2 \text{ або га)}$$




Рис IV.1.3. Полярний планіметр ПП

Визначення ціни поділки планіметра τ виконується наступним чином. На плані (рис. IV.1.1) навести олівцем довільний квадрат сітки квадратів. Площа цього квадрату відома – $1000 \times 1000 = 100\ 0000\ \text{м}^2$ (10 га).



Рис. IV.1.4. Полярний планіметр ПП-М

- в одній з вершин квадрату взяти початковий відлік на лічильному механізмі планіметра – m_1 ;
- обвести за контуром квадрат до початкової точки (вершини) і взяти кінцевий відлік – m_2 ;
- різницю відліків ($m_2 - m_1$) вписують в графу 5.
- описані дії проводять двічі. Якщо розбіжність в різницях ($m_2 - m_1$) не перевищує однієї сотої її величини, то беруть середнє значення $(m_2 - m_1)_{cp}$;

- для визначення ціни поділки планіметра τ , поділяють відому площу S на середню різницю відліків:

$$\tau = \frac{S}{(m_2 - m_1)_{cp.}}$$

Розглянемо також цифровий планіметр PLANIX 7 (рис. IV.1.5), який також застосовується при визначеннях площ фігур.

Принцип його роботи практично не відрізняється від полярного планіметра за винятком автоматизації відлікового пристрою. Подамо деякі технічні характеристики PLANIX 7:



Рис. IV.1.5. Цифровий планіметр PLANIX 7

Джерело живлення

- змінний струм з адаптером на 100,120,220,240 В 5
- постійний струм - NiCd батареї 4N-110 5,8 В

Час безперервної роботи

- 16 годин з батареями 4N-110 (при зарядці 8 годин)

Діапазон вимірювань – 300см x 30см

Точність – не нижче $\pm 0,2\%$

Вага – 500 грамів

В таблиці IV.1.4 наведені функціональні клавіші PLANIX 7.

Функціональні клавіші PLANIX 7

Таблиця IV.1.4

Позначення клавіш	Функції
START	Готовність до початку вимірювань. На екрані дисплея з'явиться „0”
HOLD	Фіксування у пам'яті значення площі вимірюваної фігури. При повторному натисканні можна продовжити вимірювання
END	Використовується при повторному вимірюванні однієї і тієї ж площі
AVER	Кожне вимірювання записується у пам'ять натисканням клавіші END і обчислюється середнє значення натисканням клавіші AVER
ON/C	Ввімкнення живлення/Очистка пам'яті
OFF	Вимкнення живлення
0-9.	Цифрові клавіші
m→←ft	Вибір метричної або англійської систем вимірювань
UNIT	Вибір одиниць вимірювань: см ² , м ² , км ² в метричній системі або дюймів, квадратних футів і акрів – в англійській системі вимірювань
SCALE	Уведення масштабу
D-SCL	Уведення подвійного масштабу
SF ?	Запит масштабного коефіцієнта. Коли масштаб карти – 1/N, то N запам'ятовується як масштаб

Серед функцій планіметра PLANIX 7 слід відзначити деякі з них, а саме:

- вимірювання площ у зменшених або збільшених масштабах;
- вимірювання площ з різними вертикальними та горизонтальними масштабами;
- вимірювання площ із пульсуючого відліку (у випадку, коли не була встановлена одиниця вимірювання);
- вища, в середньому у 1,5 рази, порівняно з класичними планіметрами точність вимірювання площ.

До особливостей планіметра можна віднести те, що при обведенні фігури проти годинникової стрілки на дисплеї висвічується від'ємне значення площі. Цю особливість можна використовувати в разі розташування всередині вимірюваної площі інших фігур.

Завдання 4: Визначити планіметром площу заданого за варіантом контуру сільськогосподарської ділянки та внести результати у відомість (таблиця IV.1.5).

ВІДОМІСТЬ

Таблиця IV.1.5

обчислення площі полігону за допомогою планіметра

№№ п.п	Назва угідь	m_1	M_2	m_2-m_1	$(m_2-m_1)_{cp.}$	$\tau, м^2$	$S', м^2$	$\Delta S, м^2$	$S, м^2$	
1	2	3	4	5	6	7	8	9	10	
<hr/>										
	полігон									
							$\sum S'_{np.} =$			
							$=$			
							$\sum S_{теор.} =$			
							$=$			
							$f_s =$			

$$f_{відн.} = \frac{f_s}{S_T} = \frac{1}{300}; f_{відн.доп.} = \frac{1}{300}.$$

Висновки: _____

Оцінка: _____

Виконав/ла ст. гр. _____

Викладач: _____

“ ____ ” _____ 20 ____ р.

.

РОЗДІЛ IV.2. СКЛАДАННЯ КАДАСТРОВОГО ПЛАНУ ЗЕМЕЛЬНОЇ ДІЛЯНКИ

Земельний кодекс України визначає складові Державного земельного кадастру, одним з яких є кадастрове знімання. Усі складові частини Державного земельного кадастру мають різне застосування у загальній системі управління земельними ресурсами. Основою земельно-кадастрових робіт є кадастрові знімання [8, 9].

Кадастрове знімання відповідно до статті 147 Земельного кодексу України – це комплекс робіт, які виконують з метою визначення та відновлення меж земельних ділянок. Кадастрове знімання передбачає:

- геодезичне встановлення меж земельної ділянки;
- погодження меж земельної ділянки з суміжними власниками та землекористувачами;
- відновлення меж земельної ділянки на місцевості;
- встановлення меж частин земельної ділянки, які містять зауваження та
- обмеження щодо використання землі;
- виготовлення кадастрового плану.

Кадастровий план земельних ділянок – складова частина документації із землеустрою, що містить графічне зображення земельної ділянки із зазначенням її власника, площі, довжин ліній, координат поворотних точок, місцерозташування, контурів земельних угідь, контурів об'єктів нерухомого майна, розташованих на земельній ділянці, опис меж, експлікацію угідь та кадастровий номер земельної ділянки.

Кадастрові карти (плани) складаються у масштабі:

- 1:10000 - кадастрові карти Автономної Республіки Крим, областей, районів;
- від 1:5000 до 1:500 - кадастрові плани міст, селищ міського типу, сільських населених пунктів.

Кадастрові карти (плани) в електронному (цифровому) вигляді складаються шляхом зазначення на індексній кадастровій карті (плані) відомостей про межі та нумерацію адміністративно-територіальних одиниць, земельних ділянок, межі зон з особливими умовами використання земель, контурів об'єктів нерухомого майна, розташованих на земельних ділянках.

Кадастрові плани земельних ділянок складаються юридичними та фізичними особами, які отримали в установленому порядку ліцензії на виконання топографо-геодезичних, картографічних робіт, проведення робіт із землеустрою, землеоціночних робіт.

Кадастрові плани земельних ділянок складаються у масштабі, який забезпечує чітке відображення:

- меж земельної ділянки;
- координат точок меж земельної ділянки;
- лінійних промірів між точками меж земельної ділянки;

- кадастрового номера земельної ділянки;
- кадастрових номерів суміжних земельних ділянок (за їх наявності);
- меж земельних угідь, обмежень (обтяжень) земельної ділянки (за їх наявності);
- контурів об'єктів нерухомого майна, розташованих на земельній ділянці (за їх наявності);
- меж вкраплених земельних ділянок сторонніх землевласників і землекористувачів (за їх наявності).

Таблиці із зазначенням координат усіх точок меж земельної ділянки, переліку земельних угідь, їх площ, відомостей про цільове призначення земельної ділянки та розробника документації із землеустрою на земельну ділянку є невід'ємною частиною кадастрового плану земельної ділянки.

Камеральні роботи передбачають оброблення результатів польових робіт та складання кадастрового плану, який є складовою частиною технічної документації. Виготовлення кадастрових планів в Україні також пов'язане зі значними труднощами, які зумовлені суперечливістю чинної нормативно-правової бази. Фактично в Україні неможливо виготовити кадастровий план земельної ділянки, який би повністю відповідав вимогам нормативно-правових актів.

З одного боку, створення та оновлення кадастрових карт (планів) відповідно до ст. 11 закону України від 23.12.1998 р. № 353-XIV “Про топографо-геодезичну і картографічну діяльність”, належить до загальнодержавних топографо-геодезичних і картографічних робіт. Отже, під час виготовлення кадастрових планів, відповідно до пункту 1.1.6 Інструкції з топографічного знімання у масштабах 1:5000, 1:2000, 1:1000 та 1:500 (ГКНТА-2.04-02-98) [4], мають застосовуватися чинні “Умовні знаки для топографічних планів масштабів 1:5000, 1:2000, 1:1000 та 1:500”, затверджені наказом Міністерства екології та природних ресурсів від 03.08.2001 р. № 295 [13].

З іншого боку, вимоги до змісту кадастрових планів описані у п. 2.6 Інструкції про порядок складання, видачі, реєстрації і зберігання державних актів на право власності на земельну ділянку і право постійного користування земельною ділянкою та договорів оренди землі, що затверджена наказом Держкомзему від 04.05.1999 р. № 43 (zareєстровані в Мін'юсті України 04.06.1999 р. № 354/3647). Цей нормативно-правовий акт вказує, що кадастровий план земельної ділянки складається в масштабі, який забезпечує чітке зображення усіх елементів і написів, а на сам план мають бути нанесені: межі земельної ділянки з описом суміжних землевласників і землекористувачів; поворотні точки меж земельної ділянки; лінійні проміри між точками по межах земельної ділянки; річки, озера, канали, шляхи, лісосмуги, інші елементи ситуації; межі будинків і споруд, розташованих на земельній ділянці; межі вкраплених земельних ділянок сторонніх землевласників і землекористувачів (додається їхній список); межі угідь та

зон обмежень щодо використання земельної ділянки. Відобразити усі ці елементи плану за допомогою “Умовних знаків для топографічних планів масштабів 1:5000, 1:2000, 1:1000 та 1:500” принципово неможливо, оскільки ці нормативні документи не узгоджені між собою, а умовні позначення для багатьох видів меж, елементів ситуації, угідь та обмежень взагалі відсутні.

Кадастровий план земельної ділянки є складовою частиною документації із землеустрою, який обов’язково повинен мати кадастровий номер.

Кадастровий номер земельної ділянки:

- присвоюється земельній ділянці, відомості про яку внесені до Державного земельного кадастру;
- є ідентифікатором земельної ділянки у Державному земельному кадастрі;
- система кадастрової нумерації земельних ділянок є єдиною на всій території України;
- структура кадастрових номерів земельної ділянки визначається Кабінетом Міністрів України;
- кадастровий номер скасовується лише у разі скасування державної реєстрації земельної ділянки. Зміна власника чи користувача земельної ділянки, зміна відомостей про неї, не є підставою для скасування кадастрового номера;
- скасований кадастровий номер земельної ділянки не може бути присвоєний іншій земельній ділянці;
- інформація про скасовані кадастрові номери земельних ділянок зберігається у Державному земельному кадастрі постійно.

Кадастровий номер земельної ділянки, має наступну структуру:

| КОАТУУ |:| НКЗ |:| НКК |:| НЗД |,

- де |КОАТУУ| – код одиниці адміністративно-територіального устрою України (для м.Чернігів КОАТУУ=7410100000);
- | НКЗ | – номер кадастрової зони;
- | НКК | – номер кадастрового кварталу у межах кадастрової зони;
- | НЗД | – номер земельної ділянки у межах кадастрового кварталу.

З метою ефективного використання реляційних СУБД та застосування стандартного програмного забезпечення, а також з метою уніфікації структури кадастрового номера та уніфікації відповідного прикладного програмного забезпечення використовується фіксована позиційна структура кадастрового номера. Позиційна структура кадастрового номера земельної ділянки має такий вигляд:

<XXXXXXXXXX> : <XX> : <XXX > : <XXXX> ,

де < x...x > – складова частина кадастрового номера;

x – одна позиція у структурі номера.

Завдання 1: Визначити елементи земельної ділянки за варіантом, на аркуші ватману формату А4 скласти та оформити кадастровий план земельної ділянки в масштабі 1:500.

Хід роботи:

1. Визначити загальну площу земельної ділянки у формі чотирикутника:

$$S_{\text{заг}} \text{ м}^2 = 600 \text{ м}^2 + NN \text{ м}^2;$$

де NN – номер варіанту, відповідно до порядкового номеру в списку академічної групи;

2. Визначити площу житлової будівлі:

$$S_{\text{КЖ}} \text{ м}^2 = 60 \text{ м}^2 + NN \text{ м}^2;$$

де NN – номер варіанту, відповідно до порядкового номеру в списку академічної групи;

3. Визначити площу ріллі:

$$S_{\text{ріллі}} \text{ м}^2 = \frac{1}{2} S_{\text{заг}} \text{ м}^2;$$

4. Визначити площу двору:

$$S_{\text{двору}} \text{ м}^2 = S_{\text{заг}} \text{ м}^2 - S_{\text{КЖ}} \text{ м}^2 - S_{\text{ріллі}} \text{ м}^2;$$

5. Виконати проектування елементів кадастрового плану;
6. Скласти експлікації кадастрового плану;
7. Оформити кадастровий план.

План зовнішніх меж землекористування складають на аркуші ватману формату А-4. Зовнішню рамку розміщують на відстані 10 мм від краю аркуша. Внутрішню рамку, що обмежує робоче поле аркуша, розміщують з лівого боку аркуша на відстані 20 мм, з інших боків – на відстані 5 мм від загальної рамки.

Складання проектного плану розпочинають з нанесення вершин кутів межі користування. Положення точок на плані контролюють за довжинами ліній між ними. Розходження допускається не більше 0,2 мм в масштабі плану.

По зовнішній межі землекористування виписують довжини ліній між точками на віддалі 5–6 мм від межі землекористування.

Зовнішню рамку викреслюють суцільною лінією завтовшки 0,2–0,4 мм, а внутрішню – 0,5–1,0 мм. Проектний план оформлюють основними

написами, які розміщують у штампі. Нижня і права рамки штампа збігаються з внутрішньою рамкою аркуша. Товщина рамки штампа повинна відповідати товщині лінії внутрішньої рамки плану. Внутрішні лінії штампа викреслюють товщиною 0,3–0,4 мм.

Приклад оформлення кадастрового плану показано на рис. IV.2.1.

Кадастрове знімання це складова частина Державного земельного кадастру. Згідно зі ст. 198 Земельного кодексу України, кадастрові знімання складаються з комплексу робіт, що виконуються для визначення та відновлення меж земельних ділянок. Кадастрове знімання включає: геодезичне встановлення меж земельної ділянки; погодження меж земельної ділянки з суміжними власниками та землекористувачами; відновлення меж земельної ділянки на місцевості; встановлення меж частин земельної ділянки, які містять обтяження та обмеження щодо використання землі; виготовлення кадастрового плану. Ст. 1 закону України від 23.12.1998 р. № 353-XIV “Про топографо-геодезичну і картографічну діяльність” також дає визначення поняття “кадастрове знімання” як комплексу робіт, спрямованих на вивчення необхідних топографічних елементів місцевості щодо пунктів геодезичної мережі (зокрема меж земельних ділянок з їх назвами, кількісними та якісними показниками) і нанесення їх на планшет для створення планів (карт), що слугують основою для кадастрів. Основним нормативним документом щодо кадастрових знімань в Україні є наказ Укргеодезкартографії від 09.04.1998 р. № 56 “Про затвердження Інструкції з топографічного знімання у масштабах 1:5000, 1:2000, 1:1000 та 1:500 (ГКНТА-2.04-02-97)”.

Кадастрові знімання виконуються особами, які мають ліцензію на про ведення робіт з кадастрових знімань, видану органом Держгеокадастру в установленому законодавством порядку. Порядок проведення кадастрового знімання, склад і форми документів, які подаються за результатами її виконання, вимоги до точності робіт визначаються нормативними актами Держкомзему України. Одним із таких нормативних документів є Положення про кадастрове знімання, де визначаються методи проведення кадастрового знімання, а також ті норми, дотримання яких необхідно забезпечити.

Визначаються необхідні рівні кваліфікації виконавця цих робіт. Роботи з кадастрового знімання проводяться у два етапи: перший – підготовчий; другий – виробничий. Підготовчий етап полягає у:

- розробленні технічного завдання на виконання робіт;
- підготовці робочого кадастрового плану (схеми) виконання робіт;
- збиранні, вивченні забезпечення правовими земельно-кадастровими та планово-картографічними матеріалами.

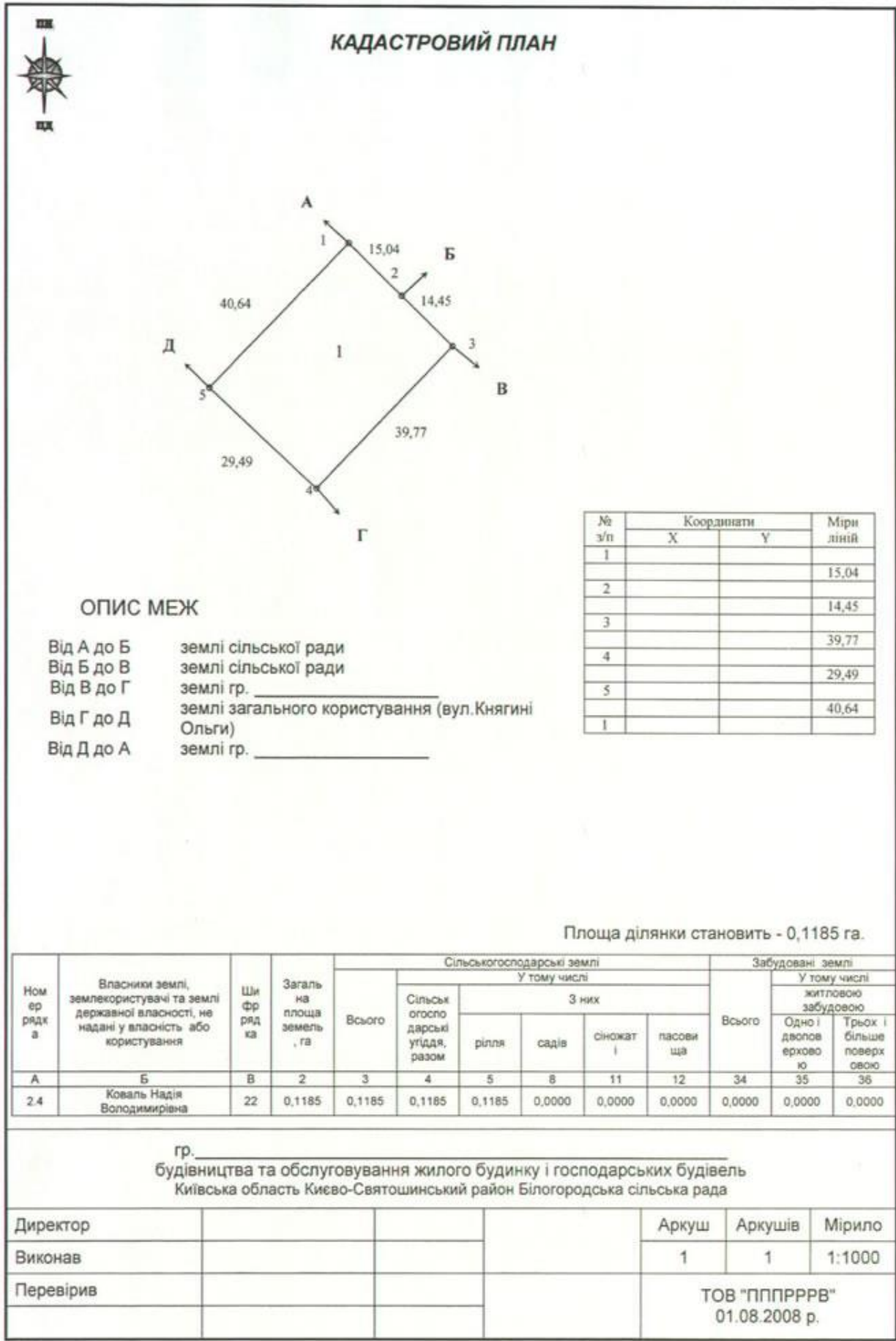


Рис. IV.2.1. Приклад оформлення кадастрового плану земельної ділянки

Виробничий етап виконується підрядниками і передбачає: – складання списку власників земельних ділянок та землекористувачів; – польове обстеження земельних ділянок з уточненням їхніх меж; – геодезичне встановлення (відновлення) меж земельних ділянок; – погодження меж земельних ділянок із суміжними власниками та землекористувачами; – встановлення меж зон обмежень і обтяжень щодо використання земельних ділянок.

Таким чином, ознайомившись з теоретичними основами кадастрового знімання, студент розраховує розміри та площу земельної ділянки за визначеним варіантом, складає кадастровий план, визначає її кадастровий номер та на аркуші ватману формату А4 виконує креслення кадастрового плану, дотримуючись нормативних вимог.

Оцінка: _____

Виконав/ла ст. гр. _____

Викладач: _____

“ _____ “ _____ 20____ р.

Рекомендації викладача: _____

РОЗДІЛ IV.3. ЕКСПЛІКАЦІЯ ЗЕМЕЛЬ ТА СТРУКТУРА ЗЕМЛЕКОРИСТУВАЧІВ І ЗЕМЕЛЬНИХ УГІДЬ

Складання експлікації земель та структури землекористувачів є складовою частиною закону України про “Державний земельний кадастр”, який встановлює порядок обліку кількості та якості земель (ст.33), а “Порядок ведення Державного земельного кадастру” передбачає створення кадастрового плану земельної ділянки та експлікацію земельних угідь, в якій вказують види угідь та їх площі в гектарах, а також площі земель в зонах дії обмежень. Облік земель у Державному земельному кадастрі ведеться щодо власників і користувачів земельних ділянок та відображає дані, що характеризують земельні ділянки за площею, складом земельних угідь відповідно до затвердженої класифікації, розподілом земель за власниками (користувачами). Також облік якості земельних угідь відображає дані, що характеризують землі за природними і набутими властивостями, впливають на їх продуктивність та економічну цінність, а також за ступенем техногенного забруднення ґрунтів.

Завдання 1:

1. Визначити загальну площу земель, які входять до адміністративно-територіального утворення за варіантом (табл. IV.3.1)
 $S_{\text{заг}} = 120139,76 \text{ га} + 0,NN \text{ га}$
NN – дві останні цифри за списком групи
2. Визначити площі земель за категоріями (%):
всього сільськогосподарських земель – 67,5% від загальної площі земель;
ліси – 24,72%;
забудовані землі – 3,77%;
землі під водою – 1,56%;
заболочені – 1,22%;
інші землі – 1,23%.
3. Сільськогосподарські угіддя визначають у відсотковому складі від сільськогосподарських земель:
ріллі – 45,4 %;
природних кормових угідь – 47,2%;
багаторічних насаджень – 7,4%.
4. Визначення розподілу площ за землевласниками та землекористувачами розраховують за відсотковим складом заданим у табл. IV.3.1.
5. За експлікацією земель складають діаграми розподілу земельного фонду за категоріями та землевласниками і землекористувачами.
6. У висновках стисло описати зміст та призначення кількісного обліку земель, проаналізувати отримані результати.

Таблиця IV.3.1

Експлікація земель адміністративного району

№ п/п	Назва власників землі і землекористувачів	Кількість власників землі та землекористувачів	Загальна площа		Всього с/г земель		Всього с/г угідь		З них						Ліси		Забудовані землі		Під водою		Заболочені землі		Інші землі	
									Рілля		Природні кормові угіддя		Багаторічні насадження											
			га	%	га	%	га	%	га	%	га	%	га	%	га	%	га	%	га	%	га	%	га	%
1	2	3	4	5	6	7	8	9	10	11	12	13	14	15	16	17	18	19	20	21	22	23	24	25
1	Сільськогосподарські підприємства – всього	61		43,81		44,15		44,15		43,95		46,85		9,68		25,51		7,85		35,99		7,35		31,51
2	Громадяни, яким надані землі у власність і користування	46368		50,02		51,14		51,14		52,48		44,11		85,46		0,03		5,72		9,96		3,68		0,37
3	Заклади, установи, організації	360		0,10		0,10		0,10		0,09		0,02		2,30		-		3,23		-		-		-
4	Промислові та інші підприємства	24		0,01		0,01		0,01		-		-		0,66		-		5,16		-		-		-
5	Підприємства та організації транспорту, зв'язку	27		0,25		0,26		0,26		0,13		0,72		0,62		1,6		21,85		0,11		0,98		1,26
6	Частини, підприємства, організації, установи, навчальні заклади оборони	3		0,12		0,13		0,13		0,06		0,37		-		0,17		20,95		-		-		0,27
7	Організації, підприємства і установи природоохоронного, оздоровчого, рекреаційного та історико-культурного призначення	1		-		-		-				-		-		-		0,1		-		-		-
8	Лісгосподарські підприємства	3		0,23		0,24		0,24		0,11		0,74		0,52		71,74		1,64		2,28		9,53		9,32
9	Водогосподарські підприємства	4		0,01		0,01		0,01		0,02		-		-		-		2,66		-		0,20		0,14
10	Спільні підприємства	-		-		-		-		-		-		-		-		-		-		-		-
11	Землі запасу та землі, ненадані у власність та постійне користування в межах населеного пункту	X		5,45		3,96		3,96		3,16		7,19		0,76		0,95		30,84		51,66		78,26		57,13
12	Всього земель, які входять до адміністративно-територіальних одиниць	46851		100,00		100,00		100,00		100,00		100,00		100,00		100,00		100,00		100,00		100,00		100,00

Завдання 2:

Розрахувати площі земельних угідь громадян, яким надано земельну ділянку у власність

1. За даними таблиці IV.3.1. «Експлікація земель адміністративного району» визначити площі графі 1 табл. IV.3.2 – Громадяни, яким надано землю у власність і користування.

2. За відсотковим складом заданим у табл. IV.3.2 визначити площі земель громадян та їх розподіл за землевласниками і землекористувачами.

3. Скласти діаграму, що відображатиме вміст земельних угідь по кожному землевласнику і землекористувачу в загальних площах земельних угідь землевласників і землекористувачів (гістограма).

4. У висновках стисло описати зміст приватної власності на землю та характер використання земельного фонду, проаналізувати отримані результати.

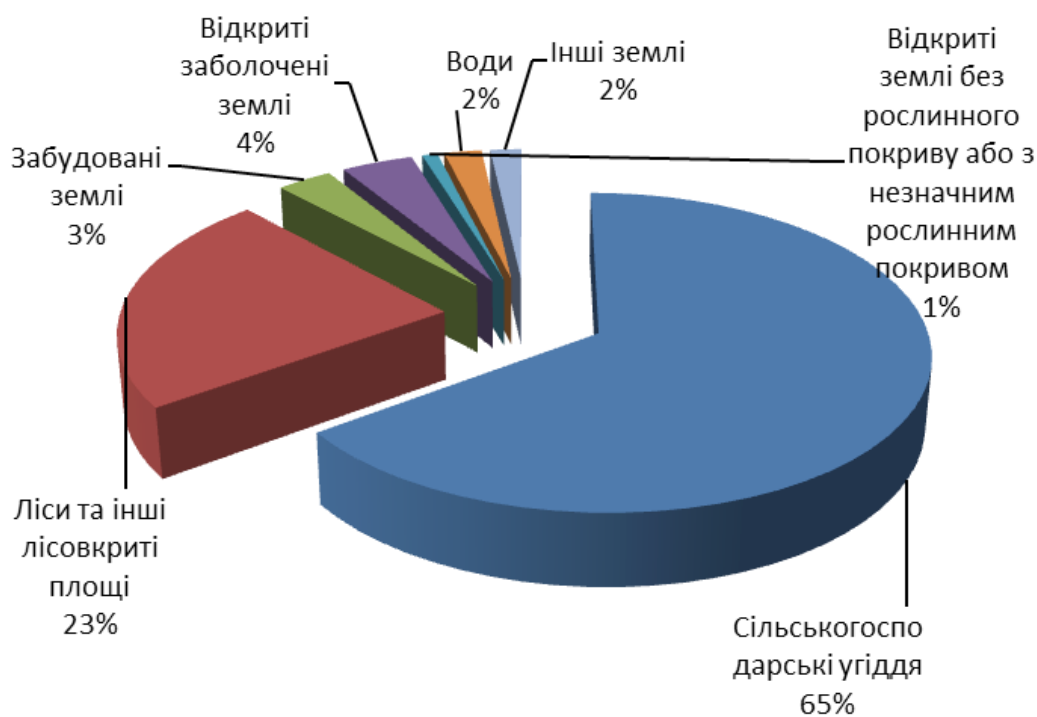


Рис. IV.3.1. Діаграма розподілу земельних ресурсів (зразок)

Оцінка: _____

Виконав/ла ст. гр. _____

Викладач: _____

“ _____ ” _____ 20____ р.

Рекомендації викладача: _____

Таблиця IV.3.2

Структура землекористувачів і земельних угідь громадян адміністративного району

№ п/п	Назва власників землі і землекористувачів	Кількість власників землі та землекористувачів	Загальна площа		Всього с/г земель		Всього с/г угідь		З них						Ліси		Забудовані землі		Під водою		Заболочені землі		Інші землі	
									Рілля		Природні кормові угіддя		Багаторічні насадження											
			га	%	га	%	га	%	га	%	Га	%	га	%	га	%	га	%	га	%	га	%	га	%
1	2	3	4	5	6	7	8	9	10	11	12	13	14	15	16	17	18	19	20	21	22	23	24	25
1	Громадяни, яким надано землю у власність і користування	46368		100,00		100,00		100,00		100,00		100,00		100,00		100,00		100,00		100,00		100,00		100,00
1.1	Селянські (фермерські) господарства	85		14,50		14,43		14,42		13,85		18,23		3,60		100,00		5,74		24,60		61,71		17,86
1.2	Ділянки для ведення товарного сільськогосподарського виробництва	4134		35,02		35,46		35,46		38,75		23,68		6,86										
1.3	Особисті підсобні господарства	19131		28,41		28,77		28,77		35,66		0,58												
1.4	Ділянки для будівництва та обслуговування жилого будинку і господарських будівель (присадибні ділянки)	17566		8,49		8,04		8,04		7,85		0,09		88,03				87,43						
1.5	Ділянки для садівництва	126		0,03		0,03		0,03						1,51				0,80						
1.6	Ділянки для дачного будівництва																							
1.7	Ділянки для гаражного будівництва																							
1.8	Ділянки для городництва	5286		1,33		1,35		1,35		1,63		0,22												
1.9	Ділянки для здійснення несільськогосподарської підприємницької діяльності	25		0,42		0,01		0,01				0,03					6,04		75,40		24,91			
1.10	Ділянки для сінокошіння та випасання худоби	15		11,80		11,91		11,92		2,26		57,17									13,38		82,14	

РОЗДІЛ IV.4. ВИКОРИСТАННЯ ГРАФІЧНОГО РЕДАКТОРА AUTOCAD В ГЕОДЕЗИЧНИХ ТА ЗЕМЛЕВПОРЯДНИХ РОБОТАХ

AUTOCAD – це система автоматичного проектування (САПР). Назва програми– AUTOCAD – утворюється від англійського Automated Computer Aided Drafting and Design, що в перекладі означає «Автоматизоване креслення та проектування за допомогою ЕОМ». Це потужний і, в той же час, простий в керуванні інструмент, який дозволяє реалізувати різні інженерні проекти.

Програма має зручний інтерфейс, дозволяє масштабувати зображення, підтримує декілька форматів файлів:

- DWG – закритий формат, який розробляється безпосередньо утілітой;
- DXF – відкритий формат, який використовується для обміну даними з користувачами інших САПР;
- DWF – для публікацій 3D-моделей и креслень.

Знайомство з програмою почнемо з інтерфейсу. На рис. IV.4.1. відображається класичне вікно AUTOCAD. Саме так виглядає програма після завантаження.

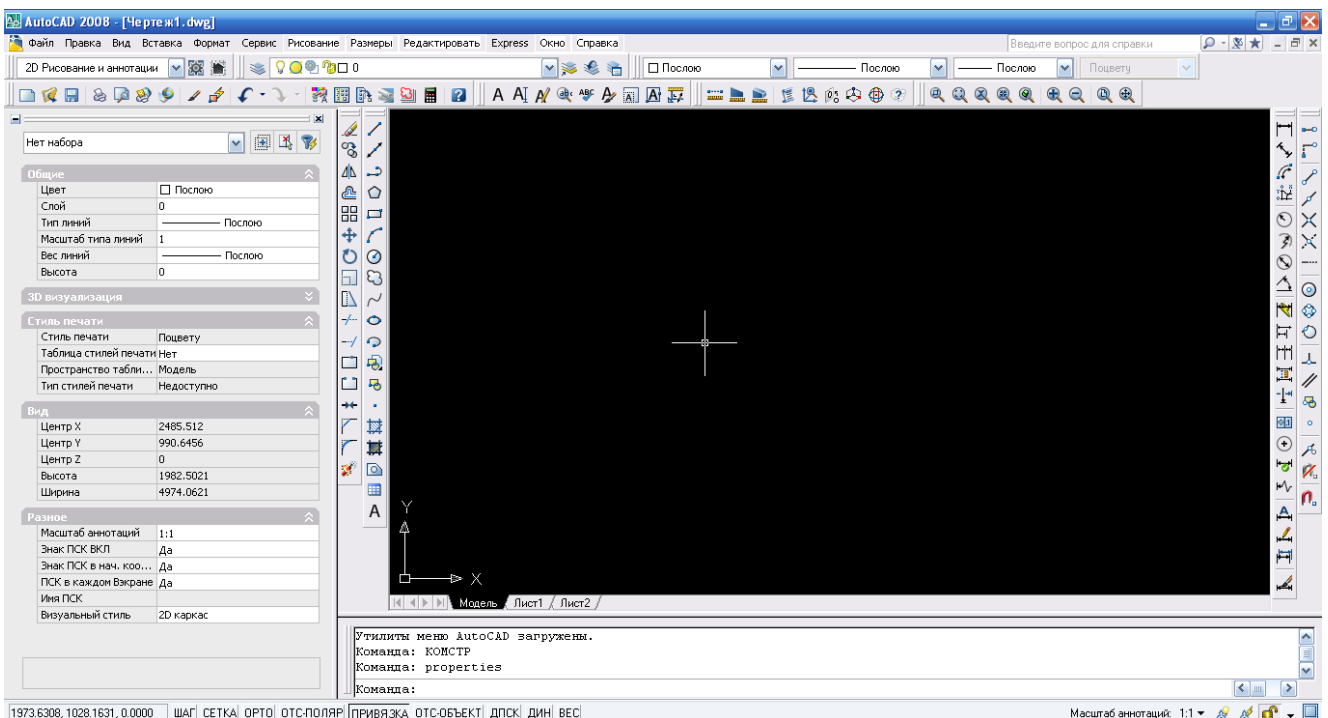


Рис. IV.4.1. Интерфейс AUTOCAD

До елементів інтерфейсу відносяться:

1. **Строка меню AUTOCAD**, яка знаходиться у верхній частині екрана. До неї входять 12 підменю: **файл, правка, вид, вставка, формат, сервис, рисование, размеры, редактировать, окно, справка, express**. Користуючись цією строкою можна запускати різні команди і процеси.

Також на рис. IV.4.1. відображається курсор у вигляді «перехрестя», за допомогою якого можна візуально задавати координати у полі креслення,

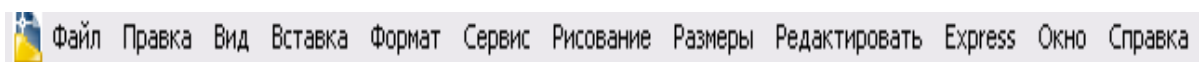
вибирати різні об'єкти для редагування.

2. Панели инструментов AUTOCAD – це горизонтальні і вертикальні панельки, на яких розміщені кнопки, кожна з яких виконує відповідну функцію. Також на панелях можуть бути розміщені списки, з яких обирають відповідні пункти. Панельки можна перетягувати мишкою на зручні для користувача місця. Для роботи нам обов'язково потрібні наступні панелі: **стандартная, рабочие пространства, слои, свойства, сведения, рисование, редактирование, размер, объектная привязка**. Для того, щоб дістати якусь скриту панель, необхідно правою кнопкою миші клікнути по будь-якій кнопці панелі інструментів і в розгорнутому списку поставити галочку поруч з назвою необхідної панелі.

3. Командная строка AUTOCAD, яка розміщена у нижній частині екрана. Вікно команд складається з двох частин: нижньої і верхньої. Нижня частина необхідна для вводу команд з клавіатури. У верхній частині видається важлива для роботи інформація, тобто автокад показує, які дії він очікує від користувача. Командну строку завжди необхідно читати для того, щоб знати, яка саме команда виконується в даний час і що необхідно робити. Із командної строки можна запускати будь-які команди, вводити координати, параметри об'єктів.

4. Строка состояния розташована під командною строкою. Вона складається з 2 частин: лівої і правої. У лівій частині показують координати курсора у трохмірній просторовій декартовій системі координат, тобто координати по осям x , y , z . У правій частині знаходяться кнопки, які включають і виключають відповідний режим креслення. Цих кнопок 10: : **шаг (snap), сетка (grid), орто (ortho), отс-поляр (polar), привязка (osnap), отс-объект (otrack), дпск (ducs), дин (dyn), вес (lwt), модель (model)**. Для нашої роботи необхідно, щоб була активна кнопка «**привязка**». Правою кнопкою миші на цій кнопці можна визвати «**настройку**» цього режиму. У діалоговому вікні «**Режимы рисования**» на закладці «**Объектная привязка**» необхідно включити прив'язку до **конточка, центр, ближайшая**.

5. Пространство модели – це область екрана, за замовчуванням окрашена чорним кольором. В **пространстве модели** створюються і редагуються усі об'єкти. Воно є нескінченим і може вміщувати безліч об'єктів будь-якої довжини.



Меню AUTOCAD «**Файл**» («**File**») містить наступні команди для роботи з файлами:

- «**Создать**» - обравши цей пункт створюємо новий документ креслення, при цьому попередній можна не закривати. AUTOCAD може працювати з декількома документами;

- **«Открыть»** за допомогою цієї команди відкриваються збережені документи у форматі *.dwg;
- **«Закрыть»** – закриває поточне креслення;
- **«Сохранить»** - зберігає зміни у поточному кресленні;
- **«Сохранить как...»** – зберігає креслення з можливістю задання нового ім'я;
- **«Диспетчер параметров листов»** – використовується для компоновки креслення у просторі аркуша та настройки параметрів вивода на друк;
- **«Диспетчер плоттеров»** – дозволяє обирати, встановлювати та налаштовувати плоттери для друку креслень із AUTOCAD;
- **«Предварительный просмотр»** – дає уяву про те, як буде виглядати креслення на папері після друку;
- **«Печать»** – ця команда виконує друк креслень, а також виконується налаштування параметрів друку.

Меню AUTOCAD **"Правка"** ("Edit") містить інструменти для редагування частин графічного поля робочого столу, роботи з буфером обміну, а саме:

- **«Отменить»** - відмінює останні дії;
- **«Повторить»** - повертає назад дію, яку відмінили;
- **«Копировать»** - виконує копіювання обраних об'єктів у буфер обміну для наступної вставки в інший документ креслення AUTOCAD;
- **«Копировать с базовой точки»** - дозволяє копіювати обрані об'єкти для вставки в інше креслення з точним позначенням точки копіювання і вставки;
- **«Вставить»** - дозволяє вставляти об'єкти з буфера обміну у креслення;
- **«Стереть»** - видаляє об'єкти з креслення;
- **«Выбрать все»** - виконує виділення усіх об'єктів на кресленні;
- **«Найти»** - виконує пошук заданого елемента. Дуже зручний при пошуку станцій тахеометричного ходу. У діалоговому вікні «Поиск и замена» у рядку для пошуку набираємо номер станції і натискаємо спочатку кнопку «Найти», а потім «Зумировать».

Меню AUTOCAD **«Вид»** («View») містить інструменти для керування зображенням. Найбільше ви будете користуватися наступними командами:

- **«Регенерировать всё»** («Regen all») – відновлює вірне відображення об'єктів на кресленні. Цю команду AUTOCAD доводиться часто використовувати, оскільки при надмірному зумуванні деякі об'єкти відображаються невірно: наприклад, коло відображається як багатокутник. Це відбувається для економії ресурсів пам'яті комп'ютера.
- **«Зуммирование»** - при обранні цього пункту відкривається список інструментів зумування AUTOCAD, за допомогою яких можливе наближення і віддалення об'єктів. Але на практиці, у більшості випадків,

набагато зручніше зумовати , повертаючи колесо миші вперед - для приближення, або назад - для віддалення.

- **«Панорамирование»** - якщо обрати цей пункт, то розкриється список інструментів панорамування, за допомогою яких можна виконувати переміщення по кресленню. Але на практиці панорамування також зручніше робити за допомогою миші при натиснутому скролі.

Меню AUTOCAD **«Вставка»** («Insert») використовують для вставки блоків, зовнішніх об'єктів, об'єктів інших додатків. Найчастіше використовують наступні команди:

- **«Блок»** - використовується для вставки елементів креслення, перетворених і збережених у вигляді спеціального об'єкту – блоку.

- **«Вхождение растрового изображения»** за допомогою цього пункту виконується вставка растрового зображення на креслення.

- **«Лист »** - через цей пункт можна додавати нові листи до документу креслення AUTOCAD.

Меню AUTOCAD **«Формат»** («Format») містить команди роботи зі слоями; кольором, типами ліній; **текстовими і розмірними стилями**; мультілініями, таблицями, границями креслення AUTOCAD і одиницями вимірів.

- **«Слой»** («Layer») – ця команда відкриває вікно «Диспетчер свойств слоев», через яке можна створювати і видаляти шари , включати, заморожувати, блокувати їх встановлювати колір, вагу і тип ліній для кожного шару, заборонювати вивід на друк об'єктів будь-якого шару.

- **«Текстовый стиль»** («Text Style») – відкриває вікно «Текстовые стили» програми AUTOCAD. У цьому вікні можна обирати тип шрифту, задавати висоту символів у міліметрах, ступінь їх розтягнення та кут нахилу. Краще використовувати шрифт «simplex.shx» зі ступенем розтягнення 0,7 та нахилом літер (цифр) 15 градусів. Шрифт з такими налаштуваннями дуже схожий на гостівський.

- **«Размерные стили»** («Dimension Style») – відкриває діалогове вікно «Диспетчер размерных стилей». У цьому вікні знаходиться декілька вкладок з безліччю налаштувань для розстановки розмірів на кресленні.

- **«Стили таблиц»** («Table Style») – ця команда відкриває діалогове вікно «Стили таблиць», які часто доводиться додавати на креслення, наприклад, для створення в AUTOCAD експлікацій приміщень на будівельних кресленнях або експлікацій земель на кадастрових планах або планах відведення.

- **«Отображение точек»** дозволяє обирати вигляд точок на кресленні. Для відображення пікетів тахеометричного ходу краще обирати коло з крапкою всередині розміром 0,6 % в абсолютних одиницях.

Меню AUTOCAD «Сервис» («Tools») містить засоби управління робочими пространствами, палітрами; установки порядку прорисовки об'єктів і отримання відомостей про них; роботу з блоками та їх атрибутами; роботу з мовою AutoLISP; роботу с користувачькою системою координат; налаштування стандартів оформлення; керування різного роду мастерами; установки параметрів креслення та об'єктних прив'язок за допомогою діалогових вікон.

- **«Рабочие пространства»** («Workspaces») – за допомогою цієї команди можна обрати збережені раніше налаштування інтерфейсу програми AUTOCAD. За замовчуванням встановлено робочий простір «Классический AUTOCAD». Але існує можливість створити власний робочий простір: включити, наприклад, додаткові панелі інструментів і зберегти його під іншим ім'ям.

- **«Палитры»** («Palettes») – тут можна вивести на робочий стіл необхідні для роботи палітри інструменти.

- **«Командная строка»** («Command Line») – вмикає та вимикає командну строку. Якщо ви випадково закриєте командну строку, то завжди зможете повернути її на місце через цей пункт.

- **«Орфография»** - відкриває діалогове вікно перевірки орфографії. Цю функцію AUTOCAD необхідно використовувати, якщо на кресленні багато тексту (специфікація, експлікація тощо).

- **«Быстрый выбор»** - ця команда прискорює пошук великої кількості заданих об'єктів, будь-то лінія, полілінія, текст, коло тощо. Для цього у діалоговому вікні «Быстрый выбор» необхідно вказати тип об'єкту та побудувати запит за допомогою властивостей об'єкту, оператора і значення.

- **«Порядок прорисовки»** - ця команда корисна при роботі з растровими зображеннями. Їх можна розміщати на задньому плані, а креслення на передньому.

- **«Сведения»** ("Inquiry") – використовуються для отримання інформації про геометричні параметри об'єкта, такі як відстань, площа. Ця інформація відображається у командній строчці при виборі відповідних підпунктів і позначені необхідних точок на кресленні.

- **«Макросы»** - це команда для досвідчених користувачів. Через неї можна створювати макроси – послідовності команд для автоматизації рутинних процесів роботи в AUTOCAD.

- **«Новая ПСК»** («New UCS») –містить команди для роботи з системою координат користувача. Можна зміщувати початок координат і змінювати положення координатних вісей (x, y, z) у просторі.

- **«Autolisp»** - загрузає необхідні **приложения**. Для цього необхідно у відповідному діалоговому вікні вказати його місце збереження на комп'ютері, обрати і натиснути кнопку «Загрузить». Цю ж операцію можна завантажити через командну строку, написавши – `upload`.

- **«Режимы рисования»** («Drafting Settings») – відкриває вікно режимів креслення, те ж саме вікно, яке з'являється при натисканні правою кнопкою миші на будь-яку кнопку на **строке состояния** і виборі із списку пункту «Настройка».

- **«Настройка»** відкриває діалогове вікно з 10 вкладками для налаштування параметрів роботи AUTOCAD.

Меню AUTOCAD **«Рисование»** («Draw»).

Тут розміщені команди для створення двомірних і трьомірних об'єктів. У цій лабораторній роботі ви будете працювати з такими командами двомірного моделювання, як:

- **«Отрезок»** («Line») – створює прямий відрізок заданої довжини
- **«Полилиния»** («Polyline») – створює єдиний об'єкт, який може складатися з будь-якого числа послідовно з'єднаних відрізків
- **«Окружность»** («Circle») – створює окружність, котра будується з фіксованим центром і заданим радіусом
- **«Сплайн»** створює плавну криву лінію
- **«Текст»** ("Text") – дозволяє створювати на кресленні текст (багато строковий та одностроковий).

Меню AUTOCAD **«Размеры»** («Dimension»).

Тут розміщені команди росташування розмірів і керування параметрами стилів. Найчастіше у лабораторній роботі ви будете використовувати команду **"Угловой"**, для того, щоб перевірити, чи вірно ви накреслили будинок (всі внутрішні кути повинні бути 90).

Меню AUTOCAD **"Редактировать"** ("Modify").

У цьому меню знаходяться команди, за допомогою яких можна редагувати об'єкти на кресленні. Для вашої роботи вам знадобляться такі команди:

- **«Свойства»** («Properties») відкриває панель свойств для редагування параметрів обраного об'єкта.
- **«Стереть»** («Erase») – видаляє об'єкти з креслення AUTOCAD.
- **«Копировать»** («Copy») – запускає команду копіювання. Необхідно вказати базову точку (звідки беремо) і точку вставки (куди ставимо копію).
- **«Зеркало»** («Mirror») – виконує запуск команди дзеркального копіювання. Необхідно виділити об'єкт, вказати 2 точки осі відображення, натиснути «enter» і об'єкт відзеркалиться.
- **«Подобие»** («Offset») – запуск команди побудови концентричних кіл, паралельних відрізків і кривих. Необхідно задати відстань копіювання і сторону, на якій буде розташована така копія по відношенню до оригіналу.
- **«Массив»** («Array») дозволяє створювати безліч копій об'єктів. Копії можна розташовувати вздовж прямої, в декілька рядів, по колу.

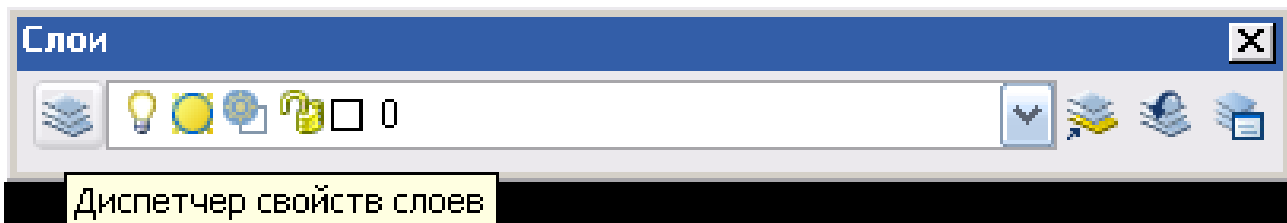
- **«Перенести»** («Move») – визиває команду переміщення об’єкта з одного місця креслення на інше. Необхідно виділити об’єкт, вказати базову точку (звідки беремо) і другу точку (куди ставимо).
- **«Повернуть»** («Rotate») – визиває команду повороту об’єкта. Необхідно виділити об’єкт, вказати точку центру повороту і задати кут у градусах, на який об’єкт необхідно повернути.
- **«Масштаб»** («Scale») запуск команди AUTOCAD, яка збільшує або зменшує об’єкт у задану кількість раз.
- **«Обрезать»** («Trim») виконує запуск команди обрізання об’єкта до заданих границь.
- **«Удлинить»** («Extend») визиває команду подовження об’єкта до заданих границь.
- **«Разорвать»** («Break») відриває від об’єкта частину лінії між двома вказаними точками, які знаходяться на вихідному об’єкті.
- **«Соединить»** - перетворює два окремих лінійних об’єкта, які сходяться у спільній вершині, в єдиний об’єкт – полілінію.
- **«Фаска»** («Chamfer») знімає фаску з кута, коли є два відрізки зі спільною вершиною
- **«Сопряжение»** («Fillet») знімає сполучення з кута, коли є два відрізки зі спільною вершиною.
- **«Расчленить»** («Explode») розбиває єдині складні об’єкти на складові частини, котрі стають повністю незалежними.

Меню AUTOCAD **«Окно»** («Window») використовують для закриття поточного креслення AUTOCAD, закриття вікон усіх відкритих у програмі креслень, також робить можливим перехід з креслення на креслення або розміщення їх каскадом, зверху вниз, зліва направо.

Меню AUTOCAD **«Справка»** («Help») дозволяє користуватися сервісом справки для успішного рішення виявленої проблеми при використанні програми AUTOCAD.

Панель слои

Просте нагромадження ліній і тексту на кресленні складного плану або схеми може заплутати навіть підготовленого інженера. Тому програмісти AUTOCAD впровадили об’єднання ліній, тексту та інших складових в групу, яку називають **слоем**. **Слоям** можна змінювати колір, установлювати тип і вагу ліній, вимикати, заморожувати. Наявність **слоев** значно полегшує роботу з кресленням. Команди для роботи зі **слоями** знаходяться на панелі **Слои** та **Свойства**. Натиснувши на кнопку **Диспетчер свойств слоев**, визиваємо відповідне діалогове вікно, де можна створити новий **слой**, назвати його, встановити для нього відповідний колір, тип і вагу лінії.



Наступні піктограми на панелі інструментів **Слои** виконують такі команди:

- Вмикають/вимикають видимість слоїв;
- Заморозка слоїв. Також приховує слой, але на відміну від попереднього режиму у результаті регенерації слой не перемальовується.
- Блокування слоя. Слой залишається видимим, але команди редагування стають недоступними.
- Колір обирається за бажанням для наочності.



При створенні нового креслення за замовчуванням *доступний* тільки один слой 0. Це системний слой, і його не можна видалити.

Усі нові об'єкти створюються у поточному **слое**. Для того, щоб перенести об'єкти з одного слоя до іншого, треба їх виділити мишкою, а потім у випадаючому списку обрати потрібний слой. Також слой можна змінити у **панелі Свойств**, клацнувши по об'єкту 2 рази або через контекстне меню обрати **Свойства**. (Рис. IV.4.2. Інтерфейс панелі “СВОЙСТВА”)

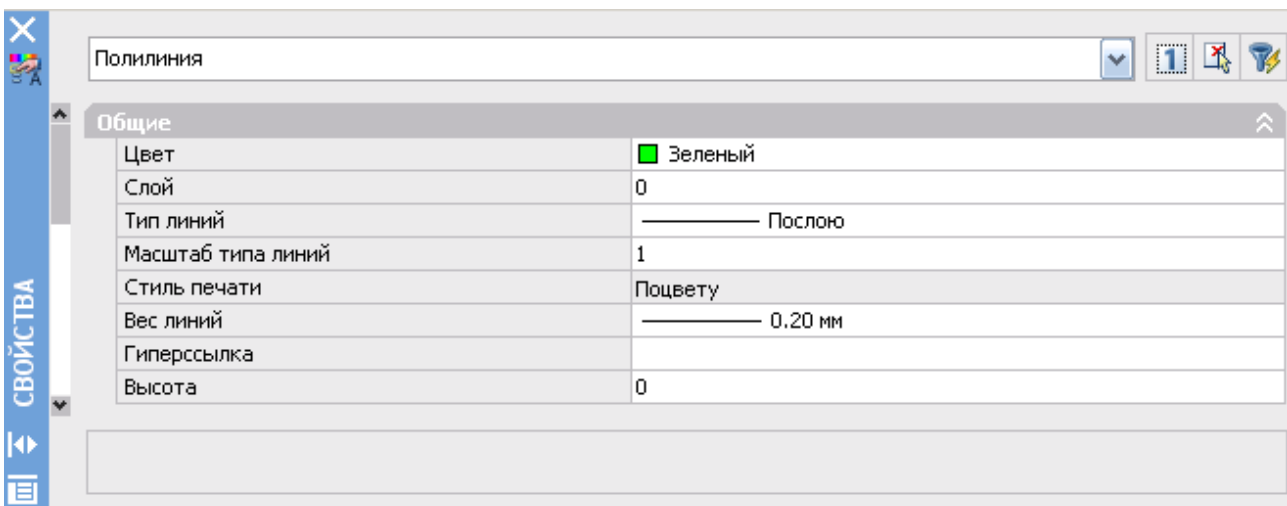


Рис. IV.4.2. Інтерфейс панелі “СВОЙСТВА”

Введення координат є одним з головних питань при роботі з системою. Можна виділити 3 типи координатного вводу. При цьому використовується як декартова система координат, так і полярна.

Візуальні координати

Цей спосіб вводу координат є найпростішим: координати точок вводяться користувачем безпосередньо кліком миші на області моделі. Наприклад, визиваємо команду line (лінія) і малюємо лінії, клікаючи лівою кнопкою миші на кресленні. Завершити команду можна, натиснувши клавішу «enter». Цей спосіб зручний при ескізному проектуванні, де непотрібно точних побудов. Можна збільшити точність вводу, включивши режим об'єктної прив'язки.

Абсолютні координати

У якості абсолютних координат можуть виступати як декартові (O,X,Y), так і полярні координати. Особливістю абсолютної системи координат є те, що вона має фіксований початок відліку (точку 0,0), відносно якої і виконуються всі побудови. Точка у декартовій системі задається двома координатами на площині, наприклад: 5,15.

Тут перша координата – це x, друга – y. Якщо необхідно задати точку у тривимірному просторі, то додаємо z (за замовчуванням z=0): 3,-5,25,9.

Координати можуть бути як цілими числами, так і дійсними. У полярних координатах ми вказуємо кут повороту і відстань до точки. При цьому у програмі AUTOCAD використовується наступний тип запису: відстань<кут. Наприклад: 7.15<50. Це означає, що точка відліку знаходиться на прямій, проведеної під кутом 50 градусів на відстані 7.15 від початку відліку. Якщо необхідна координата z (z=5), то вона вказується через кому наступним чином: 5.25<50,10.

Відносні координати

Точкою відліку для відносних координат є остання введена точка. Для їх позначення застосовують символ @. Запис відносних декартових координат наступний: @x, y, z. Якщо побудова виконується на площині (X,Y), то z можна не вказувати. Запис відносних полярних координат наступний: @відстань<кут.

Виклик команд.

Більшість команд у AUTOCAD можна викликати 3 способами:

- Клікнути лівою кнопкою миші на панелі інструментів;
- Ввести ім'я команди в командну строку;
- Обрати команду у строці меню AUTOCAD.

Виділення об'єктів

Існує 2 види виділення об'єктів, які відрізняються напрямом вибору.

- Якщо поставити точку зліва від об'єкта, натиснути ліву кнопку миші, потім перемістити мишу вправо, то утвориться синій прямокутник, при цьому виділяться тільки ті фігури, які повністю опиняться у його області.
- Якщо поставити точку праворуч від об'єкта і рухати мишу вліво, то утвориться прямокутник зеленого кольору, при цьому виділяться об'єкти, які хоча б трохи попали у цю область.
- Якщо необхідно обрати тільки один об'єкт, а інформації на кресленні дуже багато і двома попередніми способами користуватися

незручно, тоді підводимо курсор миші до потрібного об'єкту і клацанням лівою кнопкою на ньому обираємо його.

Виділення об'єктів дає доступ до редагування об'єктів.

Функції миші

При подвійному натисканні лівої кнопки миші на об'єкті відкривається **панель свойств**, у якій вказується характеристики об'єкта: колір, слой, тип лінії, геометричні характеристики (довжина, радіус тощо.)

Права кнопка миші служить для виводу контекстного меню.

За допомогою колеса миші також виконують дії, пов'язані з навігацією:

- Затиснута середня кнопка миші – переміщення по області моделі.
- Подвійне клацання по колесу миші – оптимізує масштаб області моделі.
- Оберти колесика від себе – виконують наближення креслення.
- Оберти колесика на себе – виконують віддалення креслення в області моделі.

Панель рисование

За допомогою інструментів **панели рисования** побудуємо відрізок, полілінію, коло, сплайн, текст.

- **«Отрезок»** - викликаємо цю команду, обравши відповідну іконку на панелі. Будуємо відрізок за допомогою так званих візуальних координат – наводимо курсор на чорний екран і клацаємо лівою кнопкою миші. Так ми вказали першу точку. Далі відводимо курсор в сторону і вказуємо другу точку відрізка. Ми побудували один відрізок. Але команда ще працює і система чекає вводу ще однієї точки. Тому або продовжуємо ввід точок тим самим способом, або завершуємо команду, натиснувши «Enter», «Esc», пробіл чи користуючись контекстним меню. До речі, якщо один раз натиснути пробіл, то команда завершиться, а якщо другий, то це призведе до повтору тієї ж самої операції, а це дуже економить час при однотипній роботі.

- **«Полилиния»** - ця команда виконується так само, як і попередня.

- **«Окружность»** - після відрізка коло сама поширена фігура. Запускаємо цю команду. Також, як і при побудові відрізка, нам необхідно вказати 2 точки. Перша точка – це центр кола, друга відстань від центра до дуги кола, тобто радіус. Точку і радіус можна вказати як на екрані, так і координатним способом.

- **«Сплайн»** - різноманіття форм ліній, які зустрічаються в природі та які не завжди можна описати прямими лініями або дугами. В AUTOCAD складні лінії будуються за допомогою команди **«сплайн»**. Сплайн – це крива, яка розділена на кінцеву кількість відрізків, кожен з яких описується поліномом відповідної степені.

Існує 2 методи побудови сплайнов:

1. Вказуються точки кривої. Чим їх більше, тим точніше крива.
2. Побудова виконується через дотичні до сплайна. Цей спосіб також інколи знаходить своє застосування, але ми будемо користуватися першим.

Алгоритм побудови такий самий, як і при побудові відрізка або полілінії. Зміна форми побудованої кривої виконується наступним чином. Обравши сплайн, отримуємо доступ до всіх вказаних при побудові вершин і змінюємо їх розміщення або кількість.

- **«Текст»** - текст є невід'ємною частиною будь-якого креслення. Для редагування зовнішнього вигляду тексту існують так звані текстові стилі, котрі включають в себе шрифт, висоту креслення символів. Для створення написів в програмі AUTOCAD існують однострокові і багаторічкові тексти. Відмінність між ними в інструментах редагування. Визиваємо команду, вказуємо початкову точку, потім кінцеву, сформувавши таким чином область тексту, висоту й ширину якої в подальшому можна змінювати за допомогою спеціальних повзунків. Тим часом на панелі «Формат тексту» відображаються властивості тексту і засоби редагування. Це майже той самий Microsoft Word. Такі меню повинні бути інтуїтивно зрозумілі. Для редагування створеного багато рядкового тексту необхідно клікнути 2 рази по області тексту.

Панель редакування містить наступні команди:

- **«Удаление»** («Erase») – для того, щоб видалити накреслені об'єкти необхідно натиснути відповідну кнопку, за допомогою лівої кнопки миші обрати їх і натиснути «Enter» або пробіл. Також є інший спосіб – спочатку обираємо об'єкт, а потім видаляємо.
- **«Копировать»** («Copy») – існує декілька способів копіювання об'єктів:

1. Виділяємо об'єкт (звідки беремо), обираємо команду копіювання і робимо копію у необхідне місце на кресленні. Дуже зручно при нанесенні дерев або підписів, оскільки можна зробити безліч копій, не викликаючи повторно команду.

2. Другий спосіб використовується, коли необхідно копіювати об'єкт на відому відстань. Для цього обираємо команду, вибираємо об'єкт, натискаємо пробіл, фіксуємо базову точку (звідки беремо), відводимо курсор за напрямом копіювання, в командну строку вводимо відстань і натискаємо «Enter». Зверніть увагу, команда не завершена і система чекає повторного копіювання, тому за необхідністю вводимо нову відстань і знову натискаємо «Enter». Відстань відкладається від базової точки, тому якщо об'єкти розташовані один від одного на відстані 5 м, то вводимо 5, 10, 15...

«Зеркальное отражение» («Mirror») – у природі і техніці ми стикаємося з великою кількістю симетричних тіл і фігур. За допомогою цієї команди можна дзеркально відобразити об'єкти відносно лінії симетрії. Намалюємо прямокутний трикутник з координатами вершин (0,0); (20,20); (0,20). Потім виберемо команду «Зеркальное отражение» і зробимо наступні дії у відповідь на запити командної строки:

1. Обираємо катети прямокутного трикутника, які будуть віддзеркалюватися, і натискаємо «Enter».
2. Обираємо першу точку осі відображення (0,0) і другу точку (20,20). Якщо вихідний трикутник видаляти не треба, натискаємо «Enter».
3. У протилежному випадку у командній строчці пишемо «да» і натискаємо «Enter».

«Подобие» («Offset») – команда, яку будемо використовувати для побудови будинків.

1. Обираємо «Отрезок» і маюємо лінію довжиною 6 м (для наочності при увімкненому режимі «Орто»).
2. Вимикаємо режим «Орто» і далі працюємо в режимі «Привязка».
3. Обираємо намальований відрізок, запускаємо команду «Подобие», у командній строчці задаємо довжину будинку 8 метрів, натискаємо «Enter», клацаємо на області екрану над відрізком і знову натискаємо «Enter» для завершення команди.
4. Обираємо «Отрезок» і з'єднуємо відповідні вершини 2 відрізків для отримання прямокутного будинку розміром 6 на 8 метрів.
5. Перевірку довжин ліній можна виконати за допомогою команди «Расстояние» меню Сведения, а перевірку внутрішніх кутів – за допомогою команди «Угловою» меню Размер.

«Переместить» («Move») – за допомогою цієї команди можна переміщати об'єкт або групи об'єктів.

1. Обираємо наш будинок будь-яким з наведених вище способів.
2. Запускаємо команду «Переместить».
3. Обираємо базову точку на будинку, або в середині нього.
4. Задаємо напрям і відстань фіксовану або довільну і натискаємо «Enter».

Альтернативним і найбільш зручним способом переносу тексту, кола, дерев тощо є наступний виклик цієї команди:

1. Обираємо об'єкт, який будемо переміщати.
2. Обираємо точку на об'єкті.
3. Натискаємо пробіл.

4. Вказуємо на екрані нове положення або вводимо нові координати точки.

«Поворот» («Rotate») – за допомогою цієї команди можна обертати об'єкти на фіксований або довільний кут. Послідовність виконання команди наступна:

1. Оберемо намальований нами раніше прямокутник.
2. Запускаємо команду «Поворот», обравши відповідно кнопку або натиснувши «Enter».
3. Клікнемо на точку, відносно якої буде виконуватися оберт.
4. Введемо кут повороту в командній строчці і натиснемо «Enter» або укажемо його лівою кнопкою мишки приблизно.

Також поворот можна реалізувати іншим способом:

1. Обираємо прямокутник.
2. Виділяємо точку відносно, якої буде виконуватись поворот.
3. Натискаємо пробіл 2 рази.
4. Вказуємо на екрані нове положення або вводимо кут повороту.

«Масштаб» («Scale») - ця команда збільшує або зменшує розмір об'єкта відносно базової точки.

1. Оберемо наш прямокутник і натиснемо «Enter».
2. Клікнемо на точку, відносно якої буде виконуватися масштабування.
3. Вводимо коефіцієнт масштабування (2 – збільшить у 2 рази, 0.5 – зменшить у 2 рази) і натискаємо «Enter».

Масштабування також можна виконати швидшим способом, як і переміщення, і поворот. Але у 3 пункті натискаємо пробіл тричі.

«Обрезувати» («Trim») – це дуже поширена команда. Вона здатна відсікати частину однієї лінії, яка виходить за межі іншої. При цьому об'єктами, відносно яких будуть відсікати зайве, можуть бути відрізки, полілінії, дуги, кола і навіть еліпси.

Послідовність роботи команди наступна:

1. Намалюємо 5 горизонтальних відрізків і 1 вертикальний, який проходить посередині.
2. Викликаємо команду «Обрезувати».
3. Вказуємо вертикальну лінію, відносно якої будуть відсікатися горизонтальні.
4. Послідовно клікаємо лівою кнопкою миші на тих ділянках горизонтальних ліній, які знаходяться, наприклад, праворуч від вертикальної. Кожен клік буде супроводжуватися видаленням відповідної ділянки відрізка.
5. Для завершення роботи команди натискаємо «Enter».

Для тренування також можна намалювати коло і відрізок, який його перетинає. Потім за допомогою команди «Обрезать» відсічемо частину відрізка, яка знаходиться всередині кола. Нагадаю, що спочатку ми вказуємо ту лінію, яка залишається незмінною і відносно якої будуть видалятися інші лінії – в цьому випадку це коло.

«Удлинить» («Extend») – ця команда подовжує одну лінію до перетину з іншою.

1. Намалюємо декілька горизонтальних відрізків і 1 вертикальний праворуч від них.
2. Запускаємо команду «Удлинить».
3. Обираємо вертикальну лінію і натискаємо «Enter».
4. Обираємо горизонтальні відрізки, які хочемо подовжити, і натискаємо «Enter».

Завдання 1: Накреслити план земельної ділянки згідно зарису, координат та висот точок з розділу П.4, побудувати горизонталі з використанням програми **AUTOCAD** та надрукувати створений топографічний план.

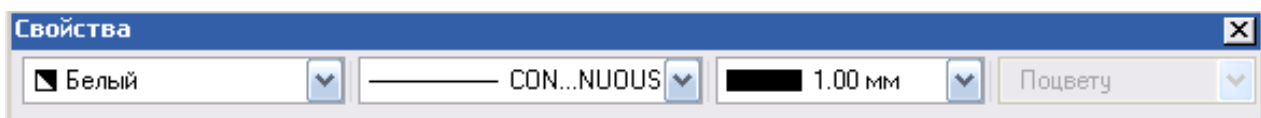
Порядок складання плану та інтерполяції висот у програмі **AUTOCAD**

Для зручності **AUTOCAD** при запуску працює в масштабі 1:1000, тому топографічний план будуємо саме в 1:1000 масштабі, а роздрукуємо для наочності в масштабі 1:500. Переріз рельєфу робимо через 1 м. Працюємо в такій послідовності:

- Запускаємо програму через **Пуск > Программы > AUTOCAD** або з робочого столу.
- Будуємо рамку аркуша за допомогою меню **Рисование > Прямоугольник**




В командній строчці задаємо розміри рамки **Shift @ 89,5,137,5 > Enter**. Курсором виділяємо побудовану рамку, після чого в меню **Свойства** з випадаючого списку **Веса линий** товщину рамки вибираємо 1 мм.

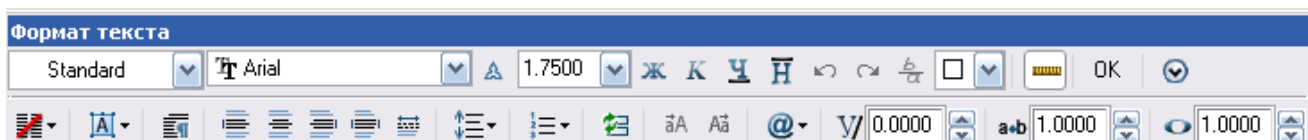


- Будуємо координатну сітку. Для цього внизу вікна вибираємо **режим «Орто»** та з меню **Рисование** вибираємо **Отрезок** та малюємо хрестик 3×3м. З меню **Редагувати** вибираємо **Копировать** на 50 м вправо.

Отримані 2 хрестики виділяємо та знову копіюємо на 50 м вниз. Будуємо кілометрову сітку на відстані 6,4 м від внутрішньої рамки аркуша. З меню *Рисование* вибираємо *Подобие*, в командній строчці пишемо 6,4 *Enter*. Курсором вибираємо рамку, а потім клацаємо на пустому місці в середині рамки. Виділяємо нову рамку, меню *Редактировать* > *Обрезать*, вибираємо верхню та ліву границі *Enter*. Товщину отриманої кілометрової сітки робимо 0,18 мм.



- Оцифруємо лінії сітки за допомогою *Многострочного текста* з меню *Рисование*. В меню *Формат текста* вибираємо висоту 1,75. Координати ліній сітки необхідно підібрати так, щоб середина ділянки знімання збігалась із серединою рамки аркуша.

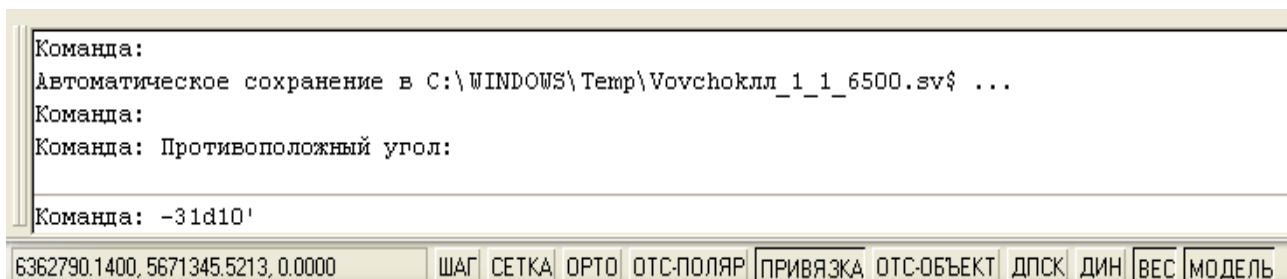


- Робимо позарамкове оформлення за допомогою меню *Рисование* > *Многострочный текст*.
- Наносимо на координатну сітку станції тахеометричного ходу за координатами, обчисленими у відомості обчислення координат (Розділ П.4). Для цього з меню *Рисование* вибираємо *Полилиния* і в командній строчці задаємо координати першої станції 0,0 через кому *Enter*. Потім задаємо координати другої і третьої станцій, пам'ятаючи, що спершу вказуємо координату Y, а потім X. Точки тахеометричного ходу з їх висотами підписують відповідно до умовних знаків для топографічних планів М 1:500. Контролем правильності нанесення точок є вимірювання довжин ліній на плані за допомогою меню *Сведения* > *Список*. Лівую кнопкою миші вибираємо лінію, довжину якої хочемо перевірити, а правою кнопкою визиваємо *Текстовое окно AUTOCAD*, в якому надається інформація за вибраним об'єктом.

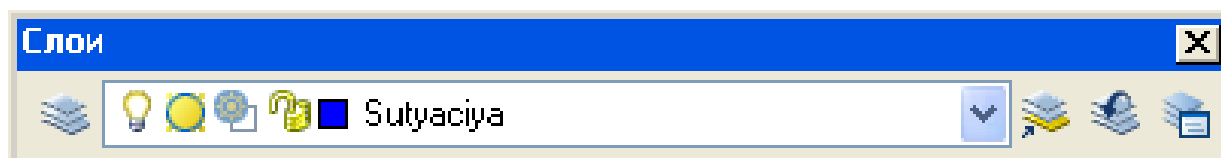


- Наносять пікети на план за даними польового журналу та зарису (Розділ П.4). За вихідний (нульовий) напрям приймають лінію ходу, за якою орієнтували тахеометр перед зніманням на станцію. Вибираємо меню

Рисование > **Отрезок**, курсор фіксуємо на першій станції і орієнтуємо відрізок за нульовим напрямом. В командній строчці вказуємо горизонтальну проекцію віддалі *Enter*. Потім меню **Редактировать** > **Повернуть** і лівою кнопкою миші вибираємо намальовану лінію *Enter*. Підводимо курсор до першої станції доки не висвітиться прив'язка Контчка і клацаємо лівою кнопкою миші. В командній строчці пишемо відлік горизонтального круга (лівий зі знаком «-», правий зі знаком «+»). Наприклад, -31d10'. Таким чином, отримуємо перший пікет на першій станції, який підписуємо згідно з умовними знаками. Решту пікетів наносимо, користуючись описаними командами.



- Ситуацію і рельєфні точки наносимо на план відповідно до зарису тими ж методами, які застосовувались під час знімання.
- Перерізом рельєфу через 1м інтерполюють висоти і викреслюють горизонталі. Інтерполяцію виконують графічно, за допомогою палетки і команд **Редактировать** > **Переместить**, **Редактировать** > **Повернуть**. Для того, щоб було зручніше користуватися палеткою, в меню **Слои** блокуємо створені слої.



Після проведення інтерполяції сліди горизонталей з однаковими висотами з'єднують за допомогою меню **Рисование** > **Слайн** у відповідності з геоморфологічними законами будови рельєфу. Завершивши побудову топографічного плану земельної ділянки та інтерполяцію горизонталей роздруковуємо отримані результати на аркуші формату А4.

Оцінка: _____

Виконав/ла ст. гр. _____

Викладач: _____

“ _____ ” 20 _____ р.

ПРОГРАМА НАВЧАЛЬНОЇ ПРАКТИКИ З ДИСЦИПЛІНИ «ГЕОДЕЗІЯ ТА ЗЕМЛЕВПОРЯДКУВАННЯ»

для здобувачів вищої освіти

галузі знань – 20 «Аграрні науки та продовольство»

Спеціальність 201 – «Агрономія»

Вступ

Геодезична практика студентів є невід’ємною складовою частиною навчального процесу *здобувачів вищої освіти* спеціальності «Агрономія» і проводиться на оснащених відповідним чином полігонах.

Під час практичних занять студенти знайомляться з приладами, виконують лабораторні роботи, перевірки, вимірювання, обчислювальні роботи результатів геодезичних вимірювань.

Завершальним етапом у вивченні геодезії та землепорядкування є польова навчально-геодезична практика, яка проводиться на спеціальних навчальних геодезичних полігонах. За період навчальної практики студенти розширюють і закріплюють теоретичні знання, навчаються самостійно виконувати топографічні і геодезичні роботи, доповнюють знання, які важко вивчити в стінах інституту, привчаються до розпорядку робочого дня в польових умовах, до трудової дисципліни.

У даній програмі розглядаються загальні питання організації, проведення і підведення підсумків навчальної геодезичної практики для студентів II – го курсу, які навчаються на спеціальності 201 – «Агрономія». Тривалість практики згідно з навчальним планом становить 40 годин або 1 тиждень.

Практика проводиться на навчальному геодезичному полігоні Національного університету «Чернігівська політехніка». Направлення на геодезичну практику дає ректор університету своїм наказом.

Загальну організацію геодезичної практики та контроль за її проведенням здійснює директор Навчально-наукового інституту архітектури, дизайну та геодезії і завідувач кафедри «Геодезії, картографії та землеустрою».

До керівництва практикою ЗВО в академічних групах залучаються досвідчені викладачі кафедри «Геодезії, картографії та землеустрою», які брали безпосередню участь в навчальному процесі.

Керівник практики забезпечує проведення всіх організаційних заходів перед від’їздом ЗВО на практику: контролює наявність медичної довідки, надання практикантам необхідних документів (скерування, програму, календарний план, індивідуальне завдання, методичні рекомендації, тощо), перелік яких встановлює кафедра.

Керівник практики зобов’язаний до початку практики провести інструктаж з техніки безпеки та охорони праці під час проведення топографо – геодезичних робіт в період навчальної практики та контролює їх дотримання.

Керівник практики проводить формування польових бригад. Для проведення практики академічна група поділяється на бригади (до 6 студентів), в яких призначається бригадир і його заступник.

Керівник практики проводить навчально – методичну, наукову та виховну роботи із ЗВО, відповідає за виконання програми практики та рівень засвоєння студентами практичних і теоретичних знань.

Після закінчення практики комісія (керівник практики і викладачі) приймає заліки з практики і подає завідувачу кафедри письмовий звіт з проведення практики із зауваженнями і пропозиціями щодо поліпшення умов та програми практики.

Звіти з практики аналізуються спеціальною комісією, яка призначається завідувачем кафедри, і затверджується на засіданні кафедри “Геодезії, картографії та землеустрою” Національного університету «Чернігівська політехніка».

Обов’язки бригадира ЗВО(здобувачів вищої освіти):

- керувати бригадою під час виконання нею програми практики;
- бути прикладом в роботі, дисципліні та навчанні для всіх членів бригади;
- своєчасно отримувати від керівника практики завдання і розподіляти роботу між членами бригади для його виконання, забезпечуючи участь кожного члена бригади в однаковій мірі у всіх видах робіт;
- здійснювати контроль за дисципліною студентів;
- слідкувати за дотриманням правил техніки безпеки, охорони праці та пожежною безпекою членами бригади;
- доповідати начальнику практики (керівнику групи) про студентів, що захворіли та про нещасні випадки з членами своєї бригади;
- виконувати доручення з організаційних, побутових та господарських питань, приймати участь в культмасових та спортивно – масових заходах;
- отримувати всі необхідні для роботи бригади геодезичні прилади, навчальні посібники (таблиці, інструкції, умовні знаки тощо) та матеріали;
- проводити своєчасну (у відповідності з графіком) здачу геодезичних інструментів, приладів та всіх навчальних посібників;
- вести контроль і щоденний облік виходу на роботу кожного студента – члена своєї бригади та вказувати причину неявки або запізнення.

Бригадир щоденно веде щоденник практики, куди записує дату, графік виходу на роботу членів бригади, всі види польових та камеральних робіт, які бригада виконувала протягом робочого дня, короткий опис цих робіт, вихідні дані, одержані від керівника практики для бригади (координати та висоти точок, дирекційні кути та ухили ліній, радіуси заокруглень і т.п.).

Щоденник кожного дня підписує бригадир та керівник практики.

Основні обов'язки ЗВО на геодезичній практиці

ЗВО на навчальній геодезичній практиці зобов'язані:

- дотримуватись Статуту Національного Університету «Чернігівська Політехніка», «Правил внутрішнього розпорядку університету», «Правил техніки безпеки та охорони праці на топографо – геодезичних роботах»;
- до початку практики одержати від керівника практики консультації щодо оформлення всіх необхідних документів;
- отримати медичний висновок про можливість перебування в польових умовах у відповідному районі проведення геодезичної практики;
- пройти ввідний інструктаж та інструктаж на робочому місці з правил техніки безпеки та охорони праці;
- своєчасно прибути на базу практики;
- виконувати всі розпорядження начальника практики, керівника практики та вказівки бригадира;
- дотримуватись всіх правил з техніки безпеки та пожежної безпеки під час виконання геодезичних робіт;
- дотримуватись на всіх робочих місцях, в житлових приміщеннях та на території бази вимог санітарії та особистої гігієни;
- на робочих місцях, на території та околицях бази практики мати охайний вигляд, не ходити в купальних та їм подібних костюмах, форма одягу має бути зручна для польових робіт;
- дотримуватись встановленого на практиці розпорядку робочого дня та правил внутрішнього розпорядку;
- приймати активну участь у всіх заходах, що проводяться адміністрацією на навчальній геодезичній практиці;
- не відлучатись з практики без дозволу керівника групи та свого бригадира;
- приступаючи до кожного завдання, попередньо ознайомитись з методичними вказівками та змістом даної роботи в цілому, а потім, в разі необхідності, прочитати та поновити в пам'яті відповідний розділ з підручника «Геодезія»;
- у повному обсязі виконувати всі завдання, передбачені програмою практики;
- нести особисту відповідальність за виконання робіт, а також за роботу всієї бригади в цілому;
- бережливо відноситись до державної та інших видів власності;
- бережливо відноситися до геодезичних приладів та навчальних посібників, про помічену несправність слід негайно повідомити бригадиру або керівнику групи;
- своєчасно скласти залік з практики.

*Здобувачі вищої освіти які постійно проявляють невідповідність до навчальної практики або порушують навчальну, трудову дисципліну, чи не дотримуються правил з техніки безпеки та пожежної безпеки до подальшого проходження практики **НЕ ДОПУСКАЮТЬСЯ** начальником практики, про що негайно повідомляється директору навчально-наукового інституту архітектури, дизайну та геодезії.*

Мета і завдання практики

Метою практики є оволодіння студентами сучасними геодезичними приладами та методами робіт, формування у них професійних умінь і навичок для прийняття самостійних рішень під час конкретної роботи в виробничих умовах, вироблення потреби систематично поновлювати свої знання та творчо їх застосовувати в практичній діяльності.

Навчальна геодезична практика сприяє закріпленню та поглибленню знань, які отримані студентами за час теоретичного навчання.

Особлива увага звертається на засвоєння кожним студентом практичних навиків при виконанні польових топографо – геодезичних робіт.

У результаті проходження практики студенти повинні оволодіти основними видами топографічних знімів (горизонтальне, тахеометричне, мензульне), вміти проводити трасування, технічне та площове нівелювання, опанувати методику польових геодезичних вимірювань та їх опрацювання і оформлення.

Зміст практики

До початку практики кожна бригада має придбати: два флакони чорної туші і по одному червоної, зеленої та синьої; олівці ТМ – 4-5 шт., Т, 2Т, 3Т – 1шт.; аркуші ватману формату А1 -4 шт. та формату А4 - 20 – 30 шт.; зошити учнівські – по 2 на студента; папір письмовий стандартний – по 10 аркушів на студента; папір міліметровий – 5м.; кальку для туші – 5м.; гумку, готувальню, калькулятор (для кожного студента); лінійки – 2 шт.; ручка учнівська (для кожного студента); пера креслярські (№41); леза; папки для паперів – 5 шт.; папка для нот - 1 шт.

Для виконання інженерно – геодезичних робіт кожна бригада отримує: теодоліт, нівелір, кіпрегель, мензулу та штативи до них; екер; екліметр; мірну стрічку зі шпильками; рулетку; дві нівелірні рейки; три вішки; сокиру і лопату. Окрім цього, на кожен вид робіт бригада отримує, визначену керівником практики, кількість кілків. Журнали і відомості для кожного виду робіт видає керівник практики.

Розподіл робочого часу за видами робіт

Види робіт	Тривалість робіт, год.			Дні
	Польові роботи	Камераль- ні роботи	Всього	
Інструктаж з техніки безпеки; одержання приладів	2		2	1
Теодолітне знімання	10	5	15	2
Нівелювання	4	1	5	1
Науково-дослідна робота	2		2	1
Складання та оформлення звіту		6	6	1
РАЗОМ	18	12	30	6

Години самостійної роботи використовуються студентами для підготовки до виконання робіт в польових і камеральних умовах, часткового оформлення робіт та здачі диференційованого заліку.

Індивідуальні завдання. Наукова робота

Під час проходження навчальної геодезичної практики студенти виконують елементи наукової роботи (дослідження приладів, відпрацювання методик спостережень, тощо). Індивідуальні завдання опрацьовуються кожним керівником особисто.

Заняття під час практики

Основні правила безпеки на топографо – геодезичних роботах:

(Детально: “Правила з техніки безпеки на топографо – геодезичних роботах” ПТБ – 88).

1. Дотримуватись правил дорожнього руху під час роботи на дорогах і користуванні транспортом.
2. Виконувати польові роботи у відповідному одязі, взутті та головних уборах.
3. Під час грози будь – які роботи необхідно припинити, забороняється знаходитись під сигналами та високими деревами.
4. Правильно користуватись мірними стрічками, заступами, сокирами (колючими і ріжучими предметами), а також правильно їх транспортувати, переносити і передавати з рук в руки.
5. Забороняється самостійно купатись у невідомих водоймах.
6. Забороняється вживати неякісну їжу та воду.

7. Забороняється піднімати вантажі більші як 15 кг – для жінок і 50 кг – для чоловіків.

8. За наявності небезпеки попередити інших учасників практики, прийняти відповідні міри щодо запобігання небезпеки і її попередження.

9. Забороняється знаходитись на практиці у нетверезому стані.

Основні вимоги до охорони довкілля

Студентам забороняється:

1. Рубати та ламати зелені насадження.

2. Точки планово – висотної основи закріплювати на посівах.

3. Встановлювати геодезичні прилади та виконувати вимірювання стрічкою чи дротом на посівах, городах або квітниках.

4. Класти на посіви скриньки геодезичних приладів, тички, сокири та інше знаряддя.

5. Розводити вогнища, палити в необладнаних і недозволених місцях.

6. Збирати ягоди, плоди в громадських та приватних садах і городах, ловити рибу в заборонених водоймах.

Основні правила поводження

з геодезичними інструментами та приладами

1. На навчальній практиці геодезичні прилади, інструменти, навчальні посібники та матеріали видаються на бригаду під розписку бригадира.

2. Одержані прилади мають бути оглянуті для встановлення наявності всіх вказаних в описі до нього приладь.

3. Під час огляду теодоліта встановлюють наявність механічних пошкоджень на кожусі, рівні та оптичних деталях; рівномірність освітлення та чистоту поля зору труби і відлікового мікроскопа; комплектність.

4. Під час огляду приладів перевіряють: плавність обертання всіх рухомих частин геодезичного приладу лімба, аліади горизонтального круга, зорової труби, кремальєри; справність циліндричних рівнів (повільним обертанням відповідного підйимального гвинта) та справність сітки ниток і компенсатора, за його наявності у приладі; працездатність закріплювальних, навідних, підйимальних та станового гвинтів; надійність закривання футляра та закріплення головки та ніжок штатива.

5. Мірна стрічка та рулетка мають бути оглянуті по довжині і перевірені шпильки. На рейках перевіряється правильність нанесення та оцифрування поділок.

6. В одержаних таблицях, інструкціях, умовних знаках тощо, мають бути звірені їх інвентарні номери із записаними в розписці бригадира та перевірено кількість сторінок в них.

7. Не дозволяється геодезичні прилади брати на роботу без футлярів та користуватись останніми для зберігання в них чого – небудь, окрім відповідного приладу.

8. Студентам не дозволяється розбирати геодезичні прилади та виправляти їх, крім юстувань, що відносяться до перевірки цих приладів.

9. Не дозволяється залишати геодезичні прилади без нагляду або не закріплені на головці штатива становим гвинтом. Ніжки штатива, із закріпленням на ньому приладом, мають бути завжди втиснутими в землю.

10. Під час перевірок геодезичних приладів в приміщеннях або на майданчиках з дерев'яним, бетонним або асфальтовим покриттям ніжки штатива мають впиралися у вершини, підкладених під них дерев'яних трикутників.

11. Під час роботи, геодезичні прилади (крім тих, що мають компенсатори) з однієї точки на іншу можна переносити міцно закріпленими на головках штативів так, щоб ніжки штативів були тільки у вертикальному положенні, складеними разом і закріпленими, при цьому закріплювальні гвинти приладів мають бути затягнуті. Прилади з компенсаторами на короткі віддалі слід переносити на руках, знятими із штатива. У всіх інших випадках всі геодезичні прилади мають переноситися тільки вкладеними і належно закріпленими у своїх футлярах. За наявності у футлярах відповідних пасків такі футляри з приладами рекомендується переносити на плечах, користуючись цими пасками. Студенту, який несе геодезичний прилад на штативі, категорично забороняється одночасно нести щось інше. Не дозволяється перескакувати або перелізати з приладом через перепони, що зустрічаються.

12. Не дозволяється для перенесення геодезичних приладів у футлярах користуватися вішками, рейками або іншими предметами.

13. Вкладають геодезичний прилад у футляр та виймають його з футляра без зусиль. Після вкладання приладу у футляр слід затягнути всі закріплювальні гвинти приладу.

14. Зберігання геодезичних приладів на штативах не дозволяється.

15. Теодоліти і нівеліри слід брати тільки за підставку, а кіпрегелі за ручку або колонку.

16. Під час роботи не слід дуже сильно затягувати закріплювальні і становий гвинти, а також гвинти ніжок штатива. Підймальні гвинти мають вільно обертатися, що досягається відповідним їх регулюванням; під час роботи слід користуватись їх середніми частинами.

17. Перед обертанням будь – якої частини геодезичного приладу необхідно попередньо послабити відповідний закріплювальний гвинт, а навідними гвинтами слід користуватись тільки при закручених відповідних закріплювальних гвинтах.

18. Під час роботи з геодезичними приладами не дозволяється застосовувати великих зусиль та різких рухів для обертання їх частин.

19. Під час роботи кожний геодезичний прилад необхідно захищати від вологи, пилу та сонячних променів. Для цього слід користуватись спеціальними чохлами або парасолями, а під час вітру особливо слідкувати за міцним кріпленням парасоль.

20. Не дозволяється залишати на планшеті кіпрегель в робочому положенні під час вітру.

21. Після відліків бусолі стрілка її обов'язково має бути зафіксована.

22. Під час візування зоровою трубою теодоліта, нівеліра або кіпрегеля проти Сонця на зорову трубу необхідно встановити бленду або фільтр.

23. Сталеву стрічку (рулетку) дозволяється переносити в розгорнутому вигляді тільки під час вимірювання нею віддалей. Стрічка не має потрапляти під колеса транспорту; її не можна залишати на проїжджій частині дороги. Переносити стрічку до місця роботи і по її закінченні тільки закріпленою на кільці.

24. Розмотувати сталю стрічку перед роботою дозволяється тільки двом студентам, слідкуючи при цьому за тим, щоб не утворювалось петель; за цим треба слідкувати і під час роботи із стрічкою.

25. Під час здачі стрічки в геокамеру вона має бути протерта ганчіркою, яка змочена в мастилі.

26. Рейку під час роботи забороняється укладати на поверхню землі поділками. Зберігати рейки слід в сухих приміщеннях, поклавши їх поділками догори, а двобічні – на ребро. Перед зберіганням кожна рейка має бути протерта сухою ганчіркою.

27. Вішки, нівелірні та віддалемірні рейки забороняється використовувати не за призначенням.

28. На час перерви в роботі теодоліти та нівеліри необхідно знімати із штативів, а кіпрегель з мензального планшета і вкладати їх у відповідні футляри; стрічку намотувати на кільце і закріпляти гвинтом; ніжки штативів складати, закріпляти гвинти та защіпати паски; складувані рейки скласти та закріпити гвинтами.

29. Користуватися таблицями, інструментами, умовними знаками та іншими посібниками необхідно акуратно; не дозволяється робити в них будь – яких записів, позначок тощо.

30. Кожний інструмент (прилад), що здається в геокамеру, має бути очищений від бруду; частини приладу, що труться мають бути змазані мастилом, а дерев'яні частини – протерті ганчіркою. Наліт пилу на лінзах геодезичних приладів можна видаляти тільки чистим м'яким пензликом. Помічені дефекти і некомплектність приладу мають бути вказані в картці, яка вкладається у футляр.

31. Обміняти прилад в період практики може бригадир з дозволу керівника практики і через геокамеру.

ПРИМІТКА: Матеріальну відповідальність за загублені або пошкоджені геодезичні прилади та навчальні посібники, якщо не виявлено винуватця, несуть всі члени бригади.

Про кожний випадок втрати або пошкодження геодезичного інструменту, приладу, або приладдя бригадир має доповісти керівнику групи і скласти акт, в якому вказати винуватих осіб щодо втрати, або пошкодження відповідного майна. Акт з візою керівника групи передається начальнику практики для прийняття відповідного рішення.

Теодолітне знімання в масштабах 1:2000 – 1:500

До початку вимірювань у полі виконують огляд, перевірку і юстування теодоліта, екера та стрічки. Крім цього стрічку компарують на компараторі.

Результати перевірки та юстування теодоліта, бусолі, екера, екліметрата компарування стрічки заносяться в зошит перевірок приладів.

Проводяться попередньо – навчальні заняття: вимірювання горизонтальних кутів методом прийомів з одночасним вимірюванням за допомогою бусолі магнітних азимутів; тичкування ліній та вимірювання їх мірною стрічкою; ведення журналу та зарису під час знімання ситуації, вздовж однієї – двох ліній.

Знімання частково забудованої ділянки виконують в такій послідовності:

1. Рекогностування та закріплення точок теодолітного ходу. Загальна кількість вершин теодолітних ходів береться з розрахунку 1 – 2 вершини на одного студента бригади, враховуючи, що довжини сторін мають бути в межах від 20 до 350 м. Всі точки ходу окопують.

2. Центрують теодоліт і марки за допомогою труби теодоліта з точністю до 3 мм, або виска – 5 – 10 мм.

3. Прив'язка до пунктів геодезичної основи.

4. Горизонтальні кути вимірюють способом прийомів з обов'язковим переставленням лімба (на $1-2^\circ$) між півприйомами. Допустиме розходження значень кутів між півприйомами – $1'$, для теодолітів типу 2Т – 30.

5. Вертикальні кути вимірюють в прямому і зворотному напрямках при двох положеннях вертикального круга, (висоту приладу та візирних цілей вимірюють з точністю 1 см).

6. Лінії вимірюють стрічкою в прямому та зворотному напрямках. Якщо вимірювана лінія має декілька точок перегину, то вимірюють кути нахилу кожного відрізка.

7. Ситуацію з чіткими контурами знімають інструментально за допомогою теодоліта, екера, стрічки та рулетки відомими способами.

8. Прокладають діагональний теодолітний хід для знімання ситуації усередині полігона.

9. Результати вимірювань записують в польовий журнал. Зарис викреслюють олівцем відповідно до умовних знаків. Виправлення в журналі та перемальовування зарису забороняється.

10. Камеральні роботи. Обчислення прямокутних координат вершин теодолітних ходів. Складання та викреслювання карти контурного знімання в масштабі 1:500 - 1:2000 (вказується викладачем).

11. Польовий контроль.

Вимоги до горизонтального знімання

№ пп	Показники і характеристики	Допустимі величини для масштабів		
		1:2000	1:1000	1:500
1	Допустимі довжини ходів ($m_s = 0,2\text{мм}$) $f_{S;\text{відн.}} = 1:2000$	2,0 км	1,2 км	0,6 км
2	Допустимі довжини сторін (стрічкою) максимальна мінімальна	0,35км 0,04км	0,35км 0,04км	0,35км 0,04км
3	Допустима кутова нев'язка	$f_\beta = 1'\sqrt{n}$		
4	Допустимі довжини висячих теодолітних ходів на: забудованих територіях кількість ліній в ході на незабудованих	0,2км 3 0,3км	0,15км 2 0,3км	0,1км 2 0,15км
5	Мінімальна кількість точок знімальної основи на 1 км^2	8	16	32
6	Віддалі між створними точками не більше (стрічкою)	80м	60м	40м
7	Довжини перпендикулярів окомірно екером	8м 60м	6м 40м	4м 20м
8	Максимальні віддалі до контурів під час знімання полярним методом (стрічкою) чітких нечітких (нитковим віддалеміром) чітких нечітких	250м 300м 100м 150м	180м 200м 60м 100м	120м 150м 40м 80м
9	Максимальні віддалі до контурів під час знімання способом прямих кутових засічок (кути вимірюють півприйомом до $1'$, які мають знаходитись в межах $30 - 150^\circ$) чітких нечітких	400м 1200м	200м 600м	100м 300м
10	Максимальні віддалі до контурів під час знімання методом лінійних засічок	Не має перевищувати довжини мірного приладу 20 - 50м		

*Знімання з використанням електронного тахеометра нормується окремо.

Нівелювання поверхні за квадратами

Ділянку розміром 100×100 м потрібно розмітити на квадрати із сторонами 20 м. 100 м квадрат розмічають за допомогою теодоліта та стрічки. Відхилення останньої сторони при послідовному розмічуванні вершин не має перевищувати 20 см. Двадцятиметрові квадрати розмічають промірами стрічкою. Всі вершини закріплюють кілками.

По ділянці, яку знімають, прокладають нівелірний хід та виконують нівелювання решти вершин квадратів як проміжних точок. Результати нівелювання записують у нівелірний журнал. Крім цього, результати нівелювання вершин квадратів та результати знімання ситуації записують у журнал – схему нівелювання вершин квадратів.

Обчислюють висоти точок нівелірного ходу (висота початкової станції задається керівником практики) та висоти всіх вершин квадратів.

Допустиму нев'язку нівелірного ходу розраховують за формулою

$$f_h = 10\text{мм}\sqrt{n},$$

де n – кількість станцій в ході.

Викреслюють план нівелювання вершин квадратів в масштабі 1:500 з висотою перерізу рельєфу через 0,25; 0,5м, залежно від рельєфу. План викреслюють в туші.

Форми та методи контролю

Контролюють навчальну геодезичну практику в групі: керівник практики, завідувач кафедри “Геодезії, картографії та землеустрою”, директор навчально-наукового інституту архітектури, дизайну та геодезії.

Керівник практики проводить польовий та камеральний контроль виконаних топографо – геодезичних робіт, про що складає акт перевірки, коректурний лист, де відображає якість виконаних робіт та їх недоліки і робить висновки щодо зарахування певного виду робіт. З актом чи коректурним листом керівник ознайомлює бригаду, про що бригадир розписується під актом і приймає завдання щодо виправлення недоліків. Акти контролю прикладаються до звіту з практики.

Вимоги до звіту

Звіт має містити відомості про виконання студентом усіх розділів програми практики та індивідуального завдання, мати розділи з питань охорони праці, висновки і пропозиції, список використаної літератури тощо. Оформляється звіт з вимогами, які встановлені інструкцією [2], умовними знаками для топографічних планів масштабів 1:5000 – 1:500 та вимог, які прийняті на кафедрі “Геодезії, картографії та землеустрою” до оформлення звітів з навчальної геодезичної практики.

Зміст звіту

Бригада здає такі матеріали:

1. Щоденник роботи кожного студента;
2. Зошит перевірок приладів;
3. Технічний звіт;
4. Коректурний лист.

Теодолітне знімання

1. Журнал теодолітного ходу та контурного знімання;
2. Схема теодолітних ходів;
3. Відомості розв'язування обернених геодезичних задач;
4. Відомості обчислення координат точок теодолітних ходів;
5. Каталог координат знімальної основи;
6. Відомість обчислення площ планіметром та аналітичним методом;
7. План;
8. Акт контролю та приймання робіт.

Нівелювання поверхні за квадратами

1. Журнал нівелювання;
2. Журнал – схема нівелювання вершин квадратів;
3. Топографічний план нівелювання за квадратами;
4. Акт контролю та приймання робіт.

Науково - дослідна робота

Матеріали наукових досліджень.

Підсумки практики

Після закінчення терміну практики студенти звітують про виконання програми та індивідуального завдання.

Звіт з практики захищається **здобувачами вищої освіти** (з диференційованою оцінкою) перед комісією, призначеною завідувачем кафедри або директором навчально-наукового інституту архітектури, дизайну та геодезії.

До складу комісії входить керівник практики та викладачі кафедри “Геодезії, картографії та землеустрою”. Комісія приймає залік у студентів на базах практики або в інституті після її завершення. Залік з оцінкою за практику вноситься в заліково – екзаменаційну відомість і залікову книжку студента за підписами членів комісії. Оцінка студента за практику враховується

стипендіальною комісією при визначенні розміру стипендії разом з його оцінками за результатом підсумкового контролю.

ЗВО, який не виконав програму практики без поважних причин може бути надано право проходження практики повторно за виконання умов, які визначає кафедра “Геодезії, картографії та землеустрою”. ЗВО, який отримав незадовільну оцінку з практики на комісії (0-59 балів, FX) подається до відрахування з університету.

Підсумки кожної практики обговорюються на засіданнях кафедри “Геодезії, картографії та землеустрою” та враховуються в майбутньому.

Складання заліку

До захисту допускаються роботи, які попередньо перевірені керівником практики. Оцінку за виконані роботи та складений звіт виставляє викладач, що проводив геодезичну практику, враховуючи особисту участь кожного студента у виконанні всіх робіт, та члени комісії, перед якими звітується бригада **ЗВО** і захищає звіт.






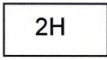

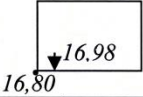



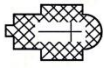
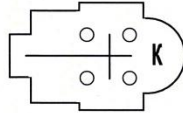
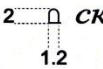
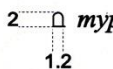
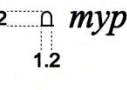



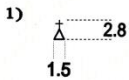
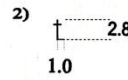
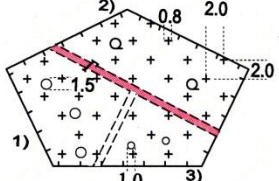
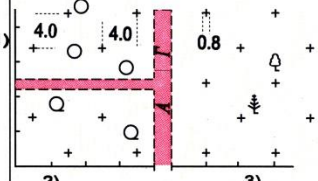

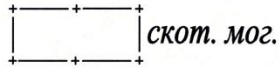
Максимальна модульна оцінка робіт

Види робіт	Бали
Дотримання інструктажу з т/б та правил поведінки	10
Теодолітне знімання	35
Нівелювання поверхні	25
Науково – дослідна робота	10
Складання і оформлення звіту	20
Максимальна сума балів	100

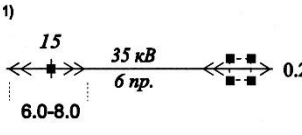
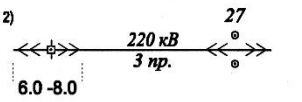
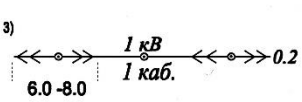
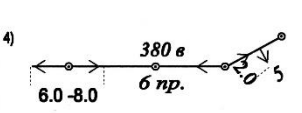
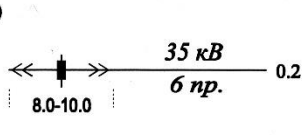
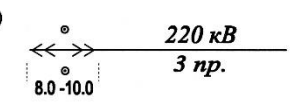
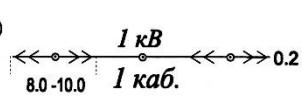
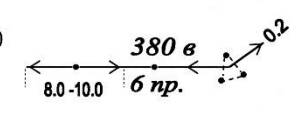
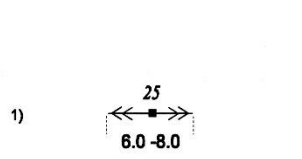
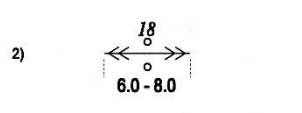


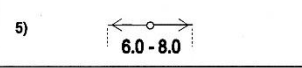
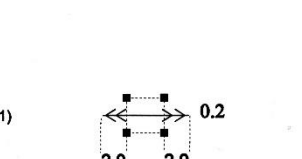
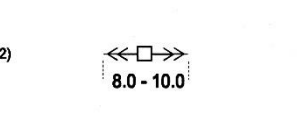
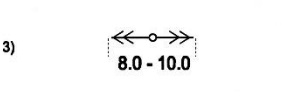

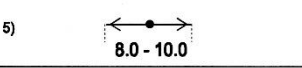
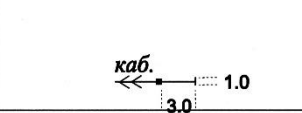

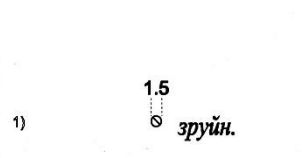
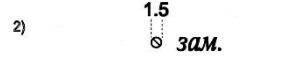
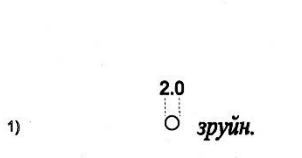
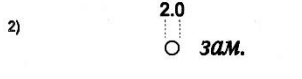
УМОВНІ ЗНАКИ

















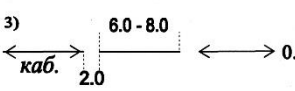

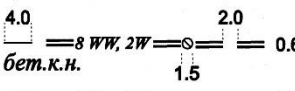

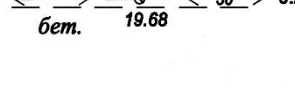
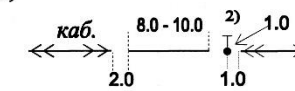


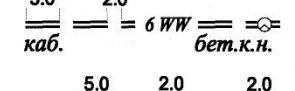
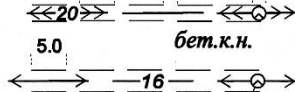

Додаток

№ знака таблиць	Назва й характеристика топографічних об'єктів	Умовні знаки топографічних об'єктів для планів масштабів	
		1:5000, 1:2000	1:1000, 1:500
ГЕОДЕЗИЧНІ ПУНКТИ			
1	Пункти державної геодезичної мережі (в чисельнику - висота центра, у знаменнику - висота землі, зліва - назва пункту)		
3	Пункти геодезичних мереж згущення та їхні номери		
5	Точки планових знімальних мереж: 1) довготривалого закріплення на місцевості 2) тимчасового закріплення на місцевості		
11	Знаки нівелірні: 1) репери фундаментальні (у чисельнику - висота головки марки, у знаменнику - висота землі; зліва - номер знака) 2) репери ґрунтові 3) репери ґрунтові координовані 4) репери ґрунтові будівельні довготривалого закріплення б) репери й марки стінні		
12	Перетин координатних ліній (колір ліній-зелений)		
БУДИНКИ, БУДІВЛІ ТА ЇХ ЧАСТИНИ			
		1:5000	1:2000, 1:1000, 1:500
13	Будівлі житлові вогнетривкі (цегляні, кам'яні, бетонні, жужелеві та ін.)		

14	Будівлі нежитлові вогнетривкі		
15	Будівлі житлові невогнетривкі		
16	Будівлі нежитлові невогнетривкі		
25	Висоти: підлоги першого поверху (всередині контуру будівлі); відстань, землі або тротуару на розі будинку		
		1:5000	1:2000
			1:1000, 1:500
26	Споруди вежового типу капітальні	 вод. баш.	 вод. баш.
			 вод. баш.
28	Церкви, костьоли кам'яні		
		1:5000, 1:2000	1:1000, 1:500
66	Скульптури, тури, кам'яні стовпи висотою 1 м і вище	 СК.  тур	 тур  СК.
67	Пам'ятники, монументи		
68	1) Могили окремі 2) Знаки з релігійними зображеннями, які мають значення орієнтирів		
71	Кладовища і доріжки на них: 1) з густою рослинністю 2) з рідколіссям 3) з окремими деревами (зафарбування доріжок – рожеве)		
73	Скотомогильники	 скот. мог.	 скот. мог.

ОБ'ЄКТИ ПРОМИСЛОВІ, КОМУНАЛЬНІ ТА СІЛЬСЬКОГОСПОДАРСЬКОГО ПРИЗНАЧЕННЯ			
84	Укоси закріплені (написи - способи закріплення; цифри - висоти, м)		
87	Розробки твердих корисних копалин відкриті, матеріал (цифри - глибини, м)		
88	Торфовища та спосіб добування		
96	Бензocolонки, колонки дизельного палива		
106	Опори дерев'яні: 1) стовпи й ферми дерев'яні 2) стовпи дерев'яні з підкосами або відтяжками		
107	Опори металеві: 1) стовпи і ферми металеві 2) стовпи фермові		
108	Опори (стовпи й ферми) залізобетонні		
112	1) Будки трансформаторні, їхні номери 2) Підстанції електричні, їхні номери		
113	Трансформатори на стовпах і постаментах		

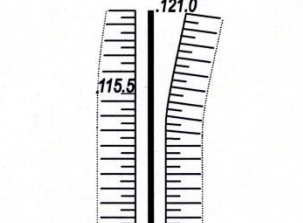
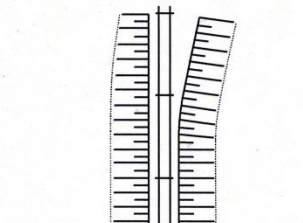
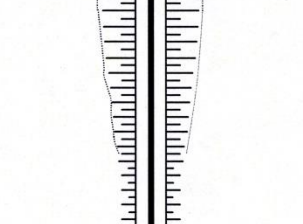
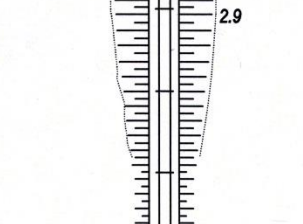
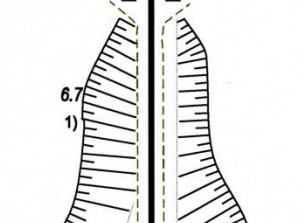
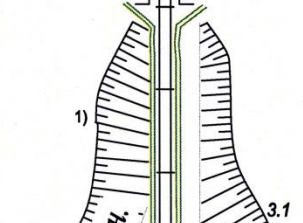
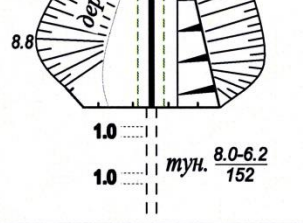
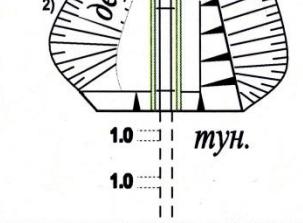
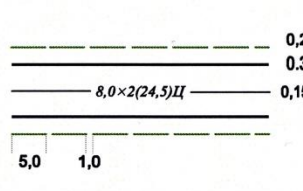
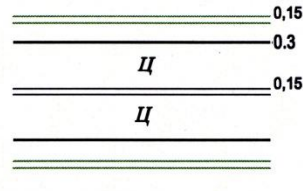
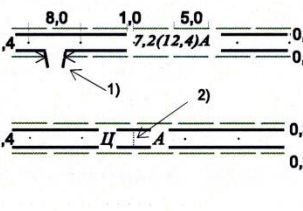
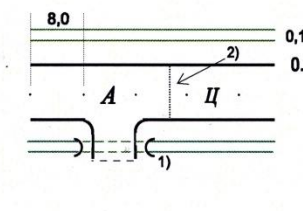
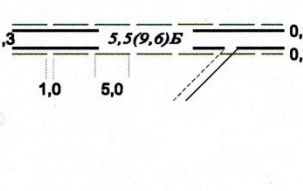
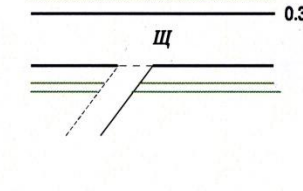
114	<p>Лінії електропередачі (ЛЕП) на незабудованій території:</p> <p>1) ЛЕП високої напруги на металевих фермах (цифри - висоти ферм в м., напруга ЛЕП в кВ та кількість проводів)</p> <p>2) ЛЕП високої напруги на залізобетонних фермах (цифри - висоти ферм в м., напруга ЛЕП в кВ та кількість проводів)</p> <p>3) кабельна повітряна ЛЕП високої напруги на залізобетонних і дерев'яних стовпах (цифри - напруга ЛЕП в кВ та кількість кабелів)</p> <p>4) ЛЕП низької напруги на дерев'яних та металевих стовпах (цифри - напруга ЛЕП в вольтах, кількість проводів та їх провис,, м)</p>	<p>1) </p> <p>2) </p> <p>3) </p> <p>4) </p>	<p>1) </p> <p>2) </p> <p>3) </p> <p>4) </p>
115	<p>Лінії електропередачі (ЛЕП) на забудованій території:</p> <p>1) ЛЕП високої напруги на металевих фермах (цифри - висоти ферм, м)</p> <p>2) ЛЕП високої напруги на дерев'яних фермах (цифри - висоти ферм, м)</p> <p>3) ЛЕП високої напруги на стовпах</p> <p>4) кабельна повітряна ЛЕП високої напруги на стовпах</p> <p>5) ЛЕП низької напруги на стовпах</p>	<p>1) </p> <p>2) </p> <p>3) </p> <p>4) </p> <p>5) </p>	<p>1) </p> <p>2) </p> <p>3) </p> <p>4) </p> <p>5) </p>
116	<p>Перехід від повітряних ЛЕП до кабельних підземних ЛЕП</p>	<p></p>	<p></p>
118	<p>Колодязі оглядові (люки) підземних комунікацій:</p> <p>1) зруйновані</p> <p>2) замощені або заасфальтовані</p>	<p>1) </p> <p>2) </p>	<p>1) </p> <p>2) </p>

117	<p>Колодязі оглядові (люки) підземних комунікацій:</p> <p>1) без розподілу за призначенням</p> <p>2) з розподілом за призначенням:</p> <p>на водоводах</p> <p>на каналізаційних мережах (побутових, виробничо-дошових, умовно чистих вод, хімічних забруднених стоків тощо)</p> <p>на каналізаційних мережах дощових</p> <p>на дренажних трубоводах</p> <p>на газоводах</p> <p>на нафтоводах</p> <p>на тепломережах</p> <p>на електрокабелях</p> <p>на кабелях зв'язку та технічних засобів керування</p> <p>на повітроводах</p> <p>на мазутоводах</p> <p>на бензоводах</p> <p>на золоводах</p>	<p>1.5</p>  <p>1.5</p> 	<p>2.0</p>  <p>2.0</p>  <p>2.0</p>  <p>2.0</p>  <p>2.0</p>  <p>2.0</p>  <p>2.0</p>  <p>2.0</p>  <p>2.0</p>  <p>2.0</p>  <p>2.0</p>  <p>2.0</p>  <p>2.0</p> 
119	<p>Електрокабелі підземні</p> <p>1) високої напруги (закладені в траншею)</p> <p>2) кабельні стовпчики-сторожки</p> <p>3) низької напруги (закладені в траншею)</p> <p>4) висоти землі та закладення труби кабелю</p> <p>5) високої та низької напруги в блоках (цифри - кількість прокладок у блоці)</p> <p>6) високої та низької напруги в каналах; матеріал каналів, колодязі оглядові, їхні номери та висоти (цифри в розриві знака - кількість прокладок, індекси WW - висока напруга, W - низька)</p>	<p>1) </p> <p>3) </p> <p>5) </p> <p>6) </p> <p></p> <p></p>	<p>1) </p> <p>3) </p> <p>5) </p> <p>6) </p> <p></p> <p></p>

120	<p>Електрокабелі підводні:</p> <p>1) високої напруги на поверхні дна</p> <p>2) низької напруги на поверхні дна</p> <p>3) високої та низької напруги, прокладені під дном або перекриті наносами (цифри біля стрілки - глибини від поверхні дна, м)</p> <p>(колір водоймища – голубий)</p>	<p>1) </p> <p>2) </p> <p>3) </p>	<p>1) </p> <p>2) </p> <p>3) </p>
121	<p>Трубоводи наземні</p> <p>1) на ґрунті (букви - індекси призначення трубопроводів)</p> <p>2) на опорах (цифри - висоти опор, м)</p> <p>3) у коробах (напис - матеріал короба)</p> <p>4) матеріал труб та їхній внутрішній діаметр у мм, категорія тиску для газоводів</p> <p>5) вигини трубопроводів компенсаційні</p> <p>6). переходи трубопроводів аркові (через перепони)</p>	<p>1) </p> <p>2) </p> <p>3) </p> <p>4) </p> <p>5) </p> <p>6) </p>	<p>1) </p> <p>2) </p> <p>3) </p> <p>4) </p> <p>5) </p> <p>6) </p>
122	<p>Трубоводи підземні:</p> <p>1) трубоводи з колодязями оглядовими (букви - індекси призначення трубопроводів, цифри - номери і висоти колодязів)</p> <p>2) трубоводи, прокладені поруч в одній траншеї (цифри - кількість прокладок)</p> <p>3) напрям течії рідин в самопливних прокладках</p> <p>4) в стадії будівництва</p> <p>5) недіючі</p> <p>6) глибини закладення труб, м (до їх верху)</p> <p>7) ковери</p> <p>8) бункери і будки оглядові</p> <p>9) пункти контрольно-розподільвальні</p>	<p>1) </p> <p>2) </p> <p>3) </p> <p>4) </p> <p>5) </p> <p>6) </p> <p>7) </p> <p>8) </p>	<p>1) </p> <p>2) </p> <p>3) </p> <p>4) </p> <p>5) </p> <p>6) </p> <p>7) </p> <p>8) </p> <p>9) </p>

123	Камери на трубоходах: 1) наземні, їхні номери та колодязі оглядові 2). підземні, їхні номери та колодязі оглядові		
128	Ґратки стічні		
129	Каналізація дощова відкрита		
130	Трубоводи надводні на опорах (цифри в дужках - висоти над водою, м) (колір водоймища – голубий)		
131	Трубоводи підводні 1) на поверхні дна 2) прокладені під дном або перекриті наносами (цифри біля стрілки - глибини від поверхні дна в м) (колір водоймища – голубий)		
132	Лінії зв'язку та технічних засобів керування підводні кабельні 1) на поверхні дна 2) прокладені під дном або перекриті наносами (цифри біля стрілки - глибини від поверхні дна в м) (колір водоймища – голубий)		
133	Лінії зв'язку та технічних засобів керування підземні кабельні; колодязі оглядові, їх номери та висоти (цифри в розриві знака - кількість прокладок)		
134	Лінії зв'язку та технічних засобів керування повітряні кабельні на незабудованій території		
135	Лінії зв'язку та технічних засобів керування повітряні кабельні на забудованій території		
136	Лінії зв'язку та технічних засобів керування повітряні дротяні на незабудованій території (цифри - кількість дротів)		
137	Лінії зв'язку та технічних засобів керування повітряні провідні на забудованій території		

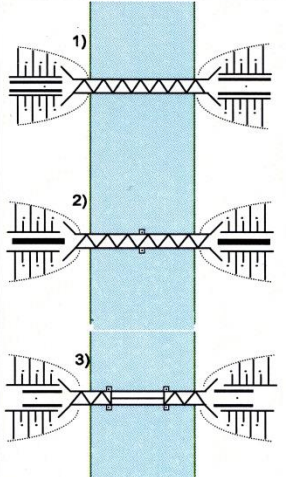
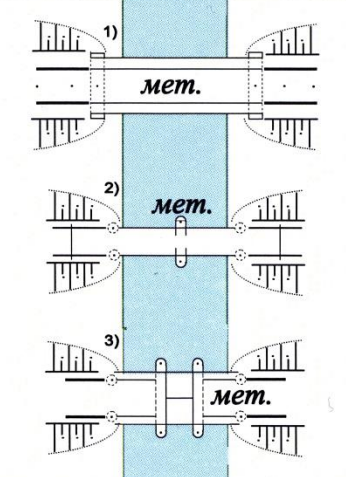
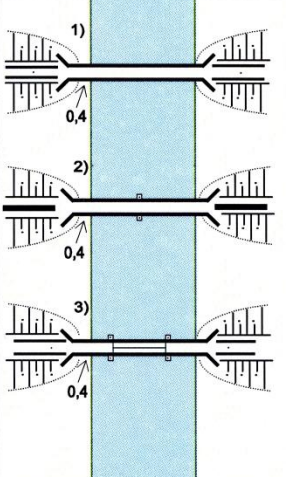
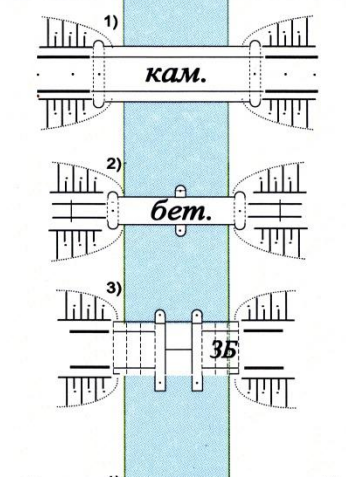
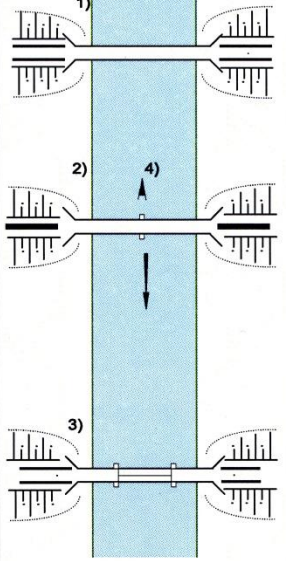
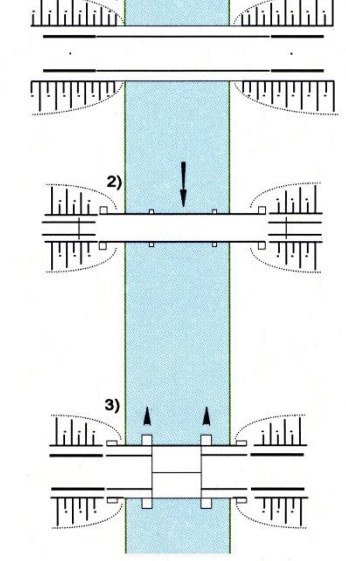
149	Млини вітряні: 1) кам'яні 2) дерев'яні	1) 2) 	1) 2)
150	1) Млини водяні 2) Лісопильні водяні	1) а) б) 2) а) б) мук. лісп.	1) мук. 2) лісп.
151	Пасіки	а) пас. б) пас.	пас. кооп. "Світ"
152	Загони для худоби	а) загін б) загін	загін
ЗАЛІЗНИЦІ ТА СПОРУДИ ПРИ НИХ			
155	Залізниця	0.7	12.0
156	Залізниця електрифікована, опори контактної мережі	0.7 1.0 1.0	12.0 1.0 6.0
157	Залізниця монорельсова	<i>моноколійна</i> 0.5	<i>моноколійна</i> 0.5
158	1) Залізниця вузькоколійна 2) Трамвайні лінії 3) Опори контактної мережі 4) Призначення лінії та ширина колії	1) <i>вк-750мм</i> 0.3 2) <i>трам.-1520 мм</i> 0.3 3) 4)	1) <i>вк-1000мм</i> 3) <i>трам.-1520 мм</i> 4)
159	Залізниця з нормальною колією в стадії будівництва	0.7 16.0 2.0	16.0 2.0 12.0 2.0 6.0
160	Залізниця вузькоколійна та трамвайні лінії в стадії будівництва	0.3 16.0 2.0	16.0 2.0 12.0 2.0 6.0
161	Полотно розібраних залізниць	0.7 3.0	5.0
165	Дороги підвісні, їх опорні стовпи та ферми	0.1 1.0	0.1

166	Залізниці на насипах (цифри - висоти насипів)		
167	<p>1) Залізниці у виїмках із незакріпленими укосами.</p> <p>2) Залізниці у виїмках із закріпленими укосами (написи - способи закріплення та глибини виїмок, м.</p>		
168	Залізниці у виїмках із підпірковими стінками (кам'яними, бетонними та залізо-бетонними).		
169	<p>Входи до тунелів та галерей.</p> <p>Залізниці в тунелях та їх характеристики (у чисельнику - висота й ширина, у знаменнику - довжина, м.</p> <p>(колір ліній водостічних каналів – зелений)</p>		
АВТОМОБІЛЬНІ І ГРУНТОВІ ДОРОГИ			
186	<p>Автомагістралі (автостради) та їх характеристики: ширина проїжджої частини (м) та кількість смуг, загальна ширина дороги (м), матеріал покриття</p> <p>(колір ліній водостічних каналів – зелений)</p>		
187	<p>Автомобільні дороги з удосконаленим покриттям (удосконалені шосе) та їх характеристики: ширина проїжджої частини в м, загальна ширина дороги в м, матеріал покриття</p> <p>1) Обладнані з'їзди</p> <p>3) Межі зміни покриття</p> <p>(колір ліній водостічних каналів – зелений)</p>		
188	<p>Автомобільні дороги з покриттям (шосе) та їх характеристики: ширина проїжджої частини в м, загальна ширина дороги в м, матеріал покриття</p> <p>Примикання доріг нижчих класів без обладнаних з'їздів</p> <p>(колір ліній водостічних каналів – зелений)</p>		

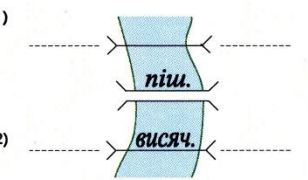
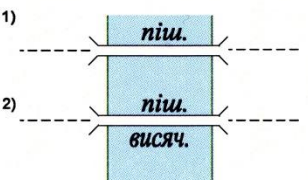
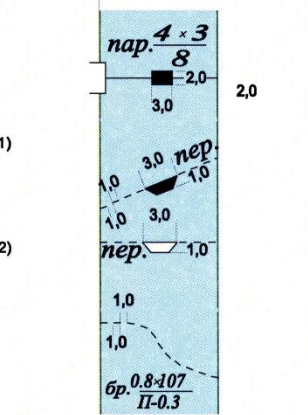
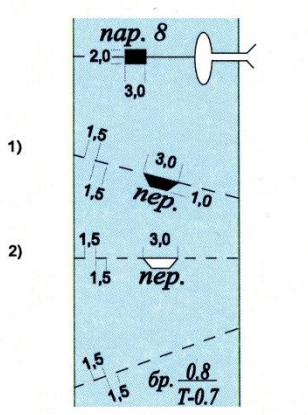
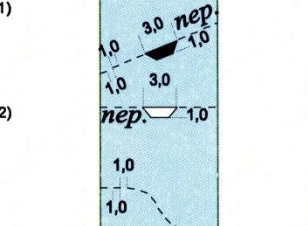
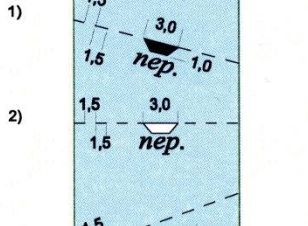
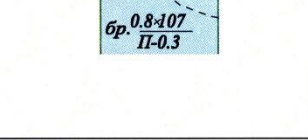
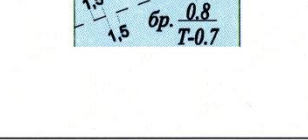
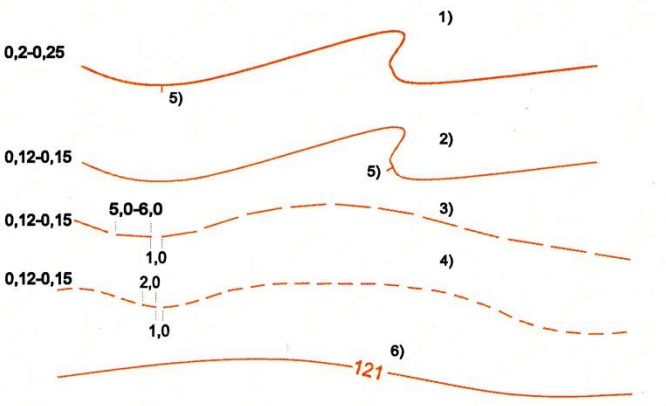

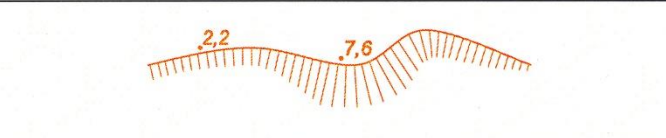
189	<p>Проїжджі частини вулиць та тротуари:</p> <p>1) проїжджі частини вулиць з бортовим каменем</p> <p>2) проїжджі частини вулиць без бортового каменя</p> <p>3) тротуари на вулицях та пішохідні доріжки з твердим покриттям (в парках, на кладовищах та ін.)</p> <p>4) тротуари на вулицях та пішохідні доріжки без покриття</p> <p>Буквені індекси - матеріал покриття, цифри - висоти: у чисельнику - на бортовому камені, у знаменнику - поряд із бортовим каменем.</p> <p>(колір покриття вулиць - рожевий)</p>		
191	<p>Автомобільні дороги без покриття (покращенні ґрунтові дороги) та їх характеристики: ширина проїжджої частини в м, матеріал добавок</p> <p>(колір ліній водостічних каналів – зелений)</p>		
193	<p>Грантові дороги:</p> <p>1) півніці</p> <p>2) польові та лісні</p>		
195	<p>Стежки пішохідні</p>		
200	<p>Дороги на насипах і дамбах (цифри - висоти насипів в м)</p>		
201	<p>Дороги у виїмках (цифри - глибина виїмки в м)</p> <p>(колір ліній водостічних каналів – зелений)</p>		
206	<p>Дорожні знаки і арки:</p> <p>1) знаки кілометрові - стовпи та камені (цифри - написи кількості кілометрів)</p> <p>2) покажчик дороги</p> <p>3) знаки дорожні інші</p> <p>4) арки постійні на автомобільних дорогах</p> <p>(колір ліній водостічних каналів – зелений)</p>		
208	<p>Індекси та номери автомобільних доріг</p>		

210	<p>Насадження вздовж доріг, рік, каналів та каналів:</p> <p>1) вузькі смуги дерев висотою 4 м і більше (з вказанням породи та висоти, м) 2) вузькі смуги дерев висотою менше 4 м (з вказанням породи та висоти, м) 3) вузькі смуги чагарників 4) ряди окремих дерев 5) окремі дерева 6) окремі чагарники</p> <p>(колір ліній водостічних каналів – зелений)</p>		
ГІДРОГРАФІЯ			
213	<p>Висоти урізів води:</p> <p>1) фактичні дані з датою вимірювань 2) приведені до середнього меженого рівня 4) комбіновані (колір водоймищ – голубий)</p>		
238	<p>Характеристики водотоків:</p> <p>1) напрям та швидкість течії, м/с 2) ширина, м 3) глибина (м) та ґрунт дна (поєднання характеристик - ширина в чисельнику, глибина та ґрунт дна в знаменнику)</p> <p>(колір водоймищ – голубий) (колір берегових ліній водоймищ – зелений)</p>		
ОБ'ЄКТИ ГІДРОТЕХНІЧНІ, ВОДНОГО ТРАНСПОРТУ ТА ВОДОПОСТАЧАННЯ			
295	<p>Колодязі та їх характеристики (висота землі біля колодязя, глибина до рівня води і до дна в м, наповнюваність, місяці, в які колодязь має воду)</p>		
298	<p>Колодязі з журавлем (колір гідротехнічних об'єктів – зелений)</p>		
299	<p>Колодязі і свердловини з вітряним двигуном (колір гідротехнічних об'єктів – зелений)</p>		
300	<p>Колодязі і свердловини з механічним піднянням води (колір гідротехнічних об'єктів – зелений)</p>		
301	<p>Колодязі і свердловини артезіанські (колір гідротехнічних об'єктів – зелений)</p>		


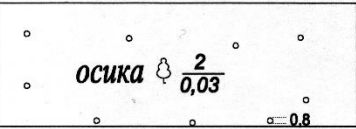
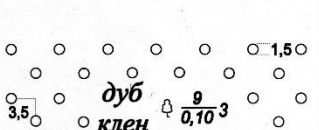
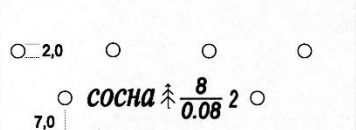



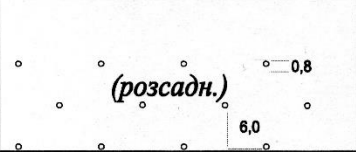
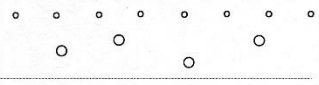


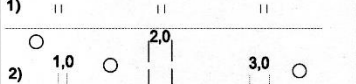
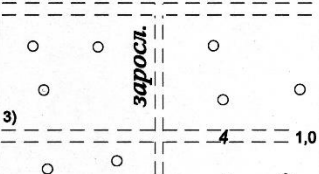
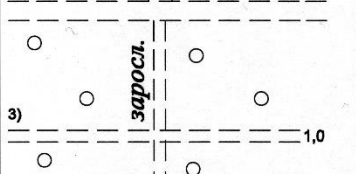
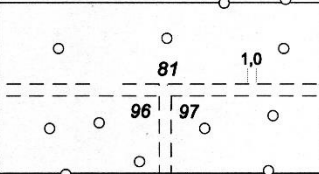
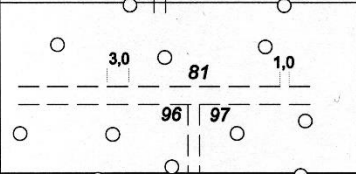
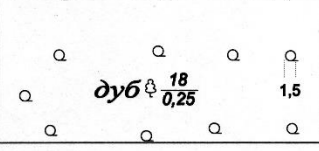
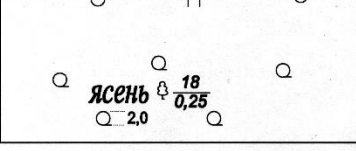


МОСТИ

<p>313</p>	<p>Мости металеві:</p> <p>1) однопрогонні</p> <p>2) багатопрогонні</p> <p>3) підймальні та розвідні (колір водоймищ– голубий) (колір берегових ліній водоймищ – зелений)</p>		
<p>314</p>	<p>Мости кам'яні, бетонні, залізобетонні:</p> <p>1) однопрогонні,</p> <p>2) багатопрогонні</p> <p>3) підймальні та розвідні (колір водоймищ– голубий) (колір берегових ліній водоймищ – зелений)</p>		
<p>315</p>	<p>Мости дерев'яні:</p> <p>1) однопрогонні</p> <p>2) багатопрогонні</p> <p>3) розвідні</p> <p>4) льодоріз</p> <p>(колір водоймищ– голубий) (колір берегових ліній водоймищ – зелений)</p>		




















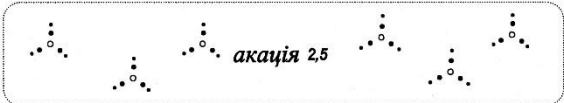
321	<p>Мости малі: 1) дерев'яні; 2) камяні, бетонні, залізобетонні, металеві.</p>		
322	<p>Характеристики малих мостів на автодорогах: 1) у лівій колонці буквенні індекси - матеріал прогонної будівлі; в чисельнику - довжина моста і ширина його проїжджої частини, м; в знаменнику - автомобільне навантаження (вантажопідйомність), т; 2) у правій колонці - вантажопідйомність, т.</p>	$3B \frac{3-6}{13}$	14
323	<p>1) Мости довжиною до 1 м на автомобільних дорогах 2) Лотки на залізницях 3) Труби під дорогами</p>		
324	<p>Характеристики труб під дорогами: 1) на планах універсального призначення: в чисельнику - висота полотна дороги над трубою, в знаменнику - кількість труб та їх внутрішній діаметр (м), праворуч - матеріал труб; 2) на планах меліоративного призначення: ліворуч - внутрішній діаметр труб (м), в чисельнику - висота входу в трубу та висота виходу в трубу, в знаменнику - висота полотна дороги над трубою, праворуч - матеріал труби та її довжина (м).</p>	$1) \frac{127,8}{2-0,8} \text{ мет.}$ $2) 2,0 \frac{125,72 - 125,48}{127,83} \text{ бет. (9,8)}$	

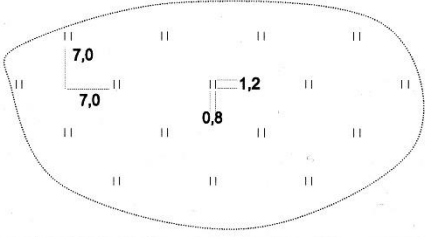
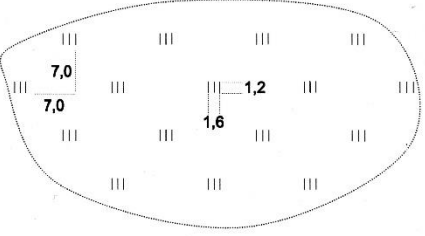
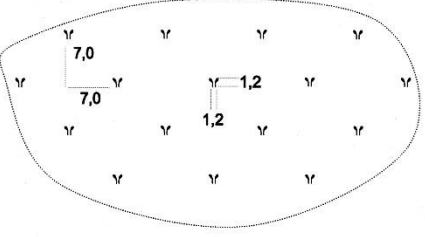
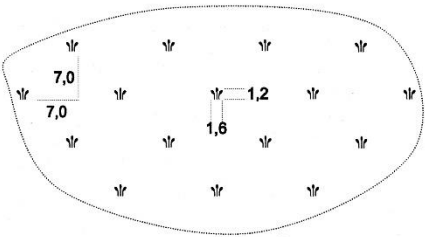
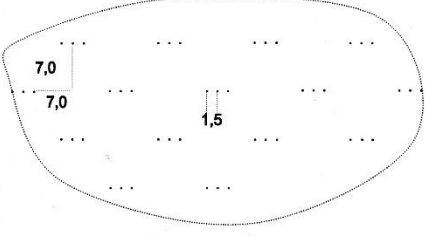
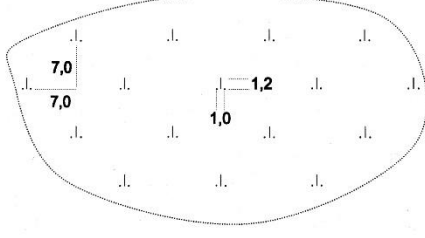
325	<p>1) Мости пішохідні</p> <p>2) Мости пішохідні висячі</p> <p>(колір водоймищ – голубий) (колір берегових ліній водоймищ – зелений)</p>		
326	<p>Пароми з механічними двигунами.</p> <p>Характеристики паромів: в чисельнику - розміри вантажної палуби, м; в знаменнику - вантажопідйомність, т</p> <p>(колір водоймищ – голубий) (колір берегових ліній водоймищ – зелений)</p>		
327	<p>1) Перевози човнярські з механічними двигунами</p> <p>2) Перевози човнярські</p> <p>(колір водоймищ – голубий) (колір берегових ліній водоймищ – зелений)</p>		
328	<p>Броди та їх характеристики: в чисельнику - глибина та довжина броду (м), в знаменнику - характер ґрунту дна та швидкість течії, в м/с</p>		
РЕЛЬЄФ			
329	<p>Горизонталі:</p> <p>1) горизонталі потовщені (через заданий інтервал основного перерізу)</p> <p>2) горизонталі основні</p> <p>3) горизонталі додаткові (півгоризонталі - на половині висоти основного перерізу)</p> <p>4) горизонталі допоміжні</p> <p>5) показники напрямку схилу (бергштрихи)</p> <p>6) підписи горизонталей, м.</p> <p>(колір горизонталей – коричневий)</p>		
330	Висоти		
332	Обриви земляні (цифри - глибини, м) (колір – коричневий)		

349	<p>Яри та вимивини:</p> <p>1) яри шириною на плані 1,5 мм і більше</p> <p>2) яри вузькі та вимивини</p> <p>3) борозни ерозійні (цифри біля ярів та вимивин, зображених двома лініями - глибини, м; біля промоїн в одну лінію - в чисельнику - ширина зверху, в знаменнику - глибина, м)</p> <p>(колір – коричневий)</p>		
352	<p>Зсуви:</p> <p>1) діючі (цифра - глибина, м)</p> <p>2) недіючі</p> <p>(колір – коричневий)</p>		
353	<p>Обсип</p> <p>(колір – коричневий)</p>		
РОСЛИННІСТЬ			
366	<p>Контури рослинності, сільськогосподарських угідь, ґрунтів та ін.</p> <p>(колір – чорний)</p>	<p>1.0 0.2</p>	<p>1.5 0.2</p>
Деревна рослинність			
367	<p>Характеристики лісових деревостой:</p> <p>За складом:</p> <p>1) листяні, 2) хвойні, 3) мішані</p> <p>За метричними даними:</p> <p>ліворуч - в чисельнику - середня висота в м, у знаменнику - середня товщина стовбурів, м; праворуч - середня віддаль між деревами, м</p>	<p>1) 2) 3)</p> <p>2.5 1.5</p> <p>$\frac{18}{0.22} 5$</p>	<p>1) 3)</p> <p>3.5 2.0</p> <p>$\frac{12}{0.15} 3$</p>
368	<p>Ліси природні високостовбурні</p>	<p>граб $\frac{15}{0.17} 4$ 1.5</p>	<p>бук ялина $\frac{8}{0.08} 5$ 2.0</p>
369	<p>Ліси пригнічені низькорослі та карликові</p>	<p>1.2 $\frac{4}{0.05} 1$</p> <p>сосна</p>	<p>1.2 $\frac{2}{0.03} 5$</p> <p>клен</p>






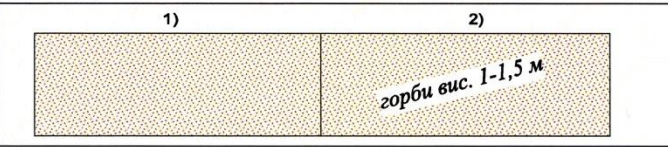

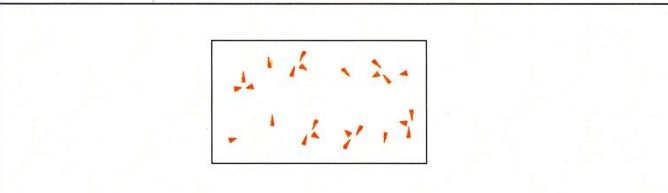
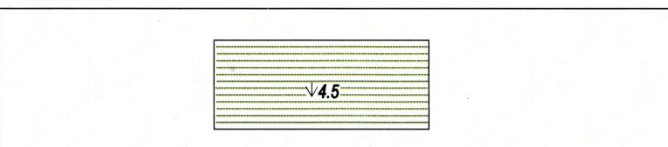
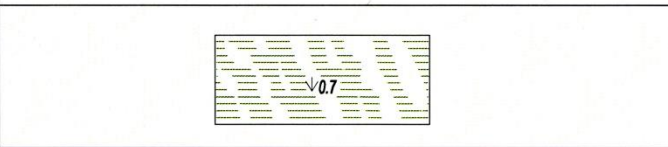

371	Поросль лісу (окрема цифра або чисельник - середня висота (м), знаменник - середня товщина стовбурів, м)		
372	Ліси саджені високостовбурні		
373	1) Лісонасадження молоді (цифра - середня висота, м)		
	2) розсадники лісових та декоративних порід		
374	Просіки в лісі:		
	1) шириною 5 мм та більше в масштабі плану		
	2) шириною від 1 до 5 мм в масштабі плану		
3) шириною від 0,5 до 1 мм в масштабі плану (цифри - ширина, м)			
378	Номери лісових кварталів		
379	Рідколісся високостовбурне		
381	Рідкий поріст лісу		

382	<p>Буреломи та вітровали</p> <p>1) зламано та повалено більше половини дерев</p> <p>зламано та повалено менше половини дерев</p>	
383	<p>1) Ділянки лісу горілі та сухостійні</p> <p>2) Ділянки лісу, пройдені пожежею</p>	
384	Ділянки лісу вирубані	
386	<p>Смуги деревних насаджень:</p> <p>1) шириною менше 2 мм у масштабі плану, висотою до 4 м (цифра - середня висота дерев)</p> <p>2) шириною менше 2 мм у масштабі плану, висотою 4 м і більше (цифра - середня висота дерев)</p> <p>3) шириною від 2 до 10 мм у масштабі плану, висотою до 4 м (цифра - середня висота дерев)</p> <p>4) шириною від 2 до 10 мм у масштабі плану, висотою 4 м і більше (цифра - середня висота дерев)</p> <p>5) шириною 10 мм і більше в масштабі плану, висотою до 4 м (цифра - середня висота дерев)</p> <p>6) шириною 10 мм і більше в масштабі плану, висотою до 4 м і більше</p>	

388	Окремі дерева орієнтирного або культурно-історичного значення: 1) листяні 2) хвойні 3) фруктові	1)  2,5 1,5 2)  2,5 1,5 3)  2,5 1,5	1)  3,5 2,0 2)  3,5 2,0 3)  3,5 2,0
389	Окремі дерева, які не мають орієнтирного або культурно-історичного значення	○= 1,0	 3,5 2,0  3,5 2,0  3,5 2,0
390	Породи дерев (позначення в подеревному зніманні): 1) широколисті (дуб, бук, клен, граб, липа, ясен, та ін.) 2) дрібнолисті (береза, верба, вільха, тополя та ін.) 3) фруктові 4) сосни 5) ялини	_____ _____ _____ _____ _____	1)  3,5 2,0 2)  3,5 2,0 3)  3,5 2,0 4)  3,5 2,0 5)  3,5 2,0
Чагарникова рослинність			
394	Окремі кущі	 0,6 : 0,8	
395	Чагарники 1) окремі групи 2) зарості (з указанням породи і середньої висоти, м)	1)  0,6 : 0,8 2)  0,4 : 0,8 горішник 2,5	
397	Смуги чагарників та живі огорожі (з вказанням породи та середньої висоти, м)	менше 2 мм в масштабі плану 2-10 мм в масштабі плану більше 10 мм в масштабі плану	5,0   2,5  акація 2,5

Трав'яна рослинність		
401	Рослинність трав'яна, лугова (різнотрав'я)	
402	Рослинність високотравна (парасолькові та ін. висотою 1 м і більше)	
403	Рослинність трав'яна вологолюбива (осока, пушиця та ін.)	
404	Зарості очерету	
406	Рослинність трав'яна степова (ковила, типчак та ін.)	
407	Рослинність мохова	


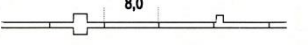

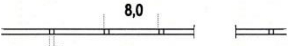

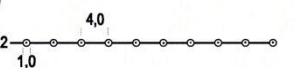
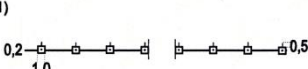

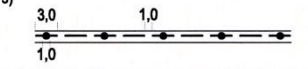

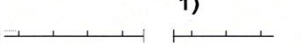
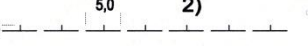


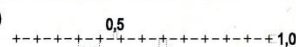
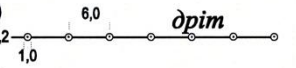
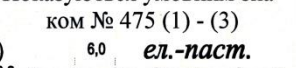
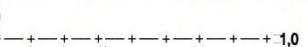

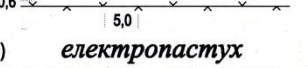


Культурна рослинність			
409	Сади фруктові (цифра - середня висота, м)		
410	Ягідники		
411	Виноградники		
412	Сади фруктові з ягідниками		
413	Сади фруктові з виноградниками		
414	Розсадники плодіві		
416	Газони		
СІЛЬСЬКОГОСПОДАРСЬКІ УГІДДЯ			
417	Рілля		
426	Городи		

435	Сіножаті		
442	Сіножаті заболочені (колір елементів гідрографії – зелений)		
444	Пасовища		
ҐРУНТИ ТА МІКРОФОРМИ ЗЕМНОЇ ПОВЕРХНІ			
455	Піски: 1) рівні 2) нерівні (горбисті) (колір пісків – коричневий)		
458	Поверхні глинясті (колір заповнювальних ум. знаків – коричневий)		
459	Поверхні щербінчасті та кам'янисті розси-пи (колір заповнювальних ум. знаків – коричневий)		
БОЛОТА			
466	Болота непрохідні та важкопрохідні (цифра - глибина, м) (колір елементів гідрографії – зелений)		
467	Болота прохідні (цифра - глибина, м) (колір елементів гідрографії – зелений)		
468	Землі заболочені (колір елементів гідрографії – зелений)		

ПРИКЛАДИ ПОЄДНАННЯ ЗОБРАЖЕННЯ РОСЛИННОСТІ І ҐРУНТІВ

<p>Поступовий перехід від лісу до рідколісся</p>	
<p>Рідколісся на кам'янистій поверхні (колір каміння – коричневий)</p>	
<p>1). Ліс на піску 2). Рідколісся на піску (колір пісків – коричневий)</p>	

ОГОРОЖІ

<p>472</p>	<p>Огорожі кам'яні і залізобетонні висотою 1 м і більше, стіни історичні</p>		
<p>473</p>	<p>Огорожі кам'яні і залізобетонні висотою менше 1 м, стіни глинобитні, ворота в огорожах</p>		
<p>474</p>	<p>Огорожі металеві: 1) висотою 1 м і більше, із воротами 2) висотою менше 1 м 3) на кам'яному бетонному або цегляному фундаменті</p>	<p>1) </p> <p>2) </p> <p>3) Показуються умовним знаком № 474 (1) або 474 (2)</p>	<p>1) </p> <p>2) </p> <p>3) </p>
<p>475</p>	<p>Огорожі дерев'яні: 1). суцільні з воротами 2). ґратка (із штахетника та ін.) 3). на кам'яному бетонному або цегляному фундаменті 4). з капітальними опорами</p>		<p>1) </p> <p>2) </p> <p>3) </p> <p>4) </p>
<p>476</p>	<p>Огорожі дротяні: 1). з колючого дроту 2). з «гладкого» дроту 3). з дротяної сітки (вольєри) 4). дротяні (електропастухи)</p>	<p>1) </p> <p>2) </p> <p>3) Показуються умовним знаком № 475 (1) - (3)</p> <p>4) </p>	<p>1) </p> <p>2) </p> <p>3) </p> <p>4) </p>
<p>477</p>	<p>Горожі, тини, трельяжі</p>	<p>Показуються умовним знаком № 475 (1) - (3)</p>	

КОРДОНИ (МЕЖІ)		
478	Кордони державні, прикордонні знаки та їхні номери, копці	
480	Межі областей	
482	Межі районні	
483	Межі міських земель	
484	Межі територій селищних і сільських рад	
485	Межі землекористувань і відводів	
486	Межі заповідників	
487	Межі державних заказників природних національних парків та пам'яток природи	

ЗРАЗКИ ШРИФТІВ НАПИСІВ

Топографічний півжирний (Т - 132)		
488	<p>Назви міст</p> <p>Назви сіл та селищ дачного типу:</p> <ol style="list-style-type: none"> 1) із кількістю мешканців 1 000 і більше 2) із кількістю мешканців від 500 до 1 000 3) із кількістю мешканців від 100 до 500 4) із кількістю мешканців менше 500 	<p>ЧЕРНІГІВ 6.0</p> <p>1) Болотня 5.0 2) Іванівка 4.5</p> <p>3) Жуків 4.0 4) Лапшин 3.5</p>
Древній курсив півжирний (Д - 432)		
489	<p>Назви містечок</p> <p>Назви суднохідних рік, каналів, озер заток та водосховищ</p> <p>Назви селищ при промислових підприємствах, залізничних станціях, пристанях та ін., не віднесених офіційно до розряду містечок.</p> <p>Назви несуднохідних рік, каналів, озер та ін.; хребтів, гір скель, пагорбів, ярів, балок, островів, мисів, солончаків, боліт, урочищ та ін.</p>	<p>ПІДГАЙЦІ Р. ПІВДЕННИЙ БУГ</p> <p>6.0 - 4.0</p> <p>Новий Розділ</p> <p>5.0 - 3.0 оз. <i>Бережанське</i> ур. <i>Капиталівка</i></p>

Рублений (Р - 131)		
490	<p>Назви частин міста, його районів та мікрорайонів; другі і повторні назви та написи за рамками планів для міст.</p> <p>Назви державних заповідників, заказників та парків.</p> <p>Назви селищ, які входять до складу міста чи підпорядкованих йому, другі і повторні назви і написи за рамками планів для сіл та селищ дачного типу.</p>	<p style="text-align: center;">ЛЬВІВ 5.0 ТЕРНОПІЛЬ</p> <p>Болотня 4.0 Іванівка 3.5</p> <p>Жуків 3.0 Лапшин 2.5</p>
491	<p>Другі й повторні назви та написи за рамками планів для:</p> <p>1) селищ міського типу; суднохідних рік каналів, озер, заток та водосховищ селищ при промислових підприємствах, залізничних станціях, пристанях та ін.; несудохідних рік, каналів, озер та ін.; хребтів, гір скель, пагорбів, ярів, балок, островів, мисів, солончаків, боліт, урочищ та ін.</p>	<p>1) ПІДГАЙЦІ 6.0 - 4.0 Р.ПІВДЕННИЙ БУГ</p> <p>2) Новий Розділ 5.0-3.0 оз. <i>Бережанське</i> ур. <i>Каптанівка</i></p>
БСАМ курсив малокоонтрастний (Бм - 431) 3,0 - 1,6		
492	<p>Назви станцій, роз'їздів, платформ, пристаней, санаторіїв, турбаз.</p> <p>Назви окремих дворів, будинків та геодезичних пунктів.</p> <p>Пояснювальні написи до умовних знаків геодезичних пунктів, будівель, споруд, доріг, огорож, гідрографії, рельєфу, рослинності та ґрунтів.</p> <p>Написи спеціалізації сільськогосподарських та промислових підприємств.</p> <p>Буквені індекси матеріалу покриття доріг та відмосток будинків, призначення трубопроводів, виду прокладок у тунелях, напруги електромереж, матеріалу мостів, гребель, труб, ґрунту dna рік, озер та морів (у зоні шельфу).</p>	<p><i>Підзамче Черче</i></p> <p><i>Адамівка Дибце</i></p> <p><i>телеф. тон. вдсх. пошта</i></p> <p><i>МТФ астр. ст. ніс.</i></p> <p><i>А Ц 2Н,Г ЗБ WW T КД П</i></p>
Рублений (Р - 131)		
493	<p>Назви вулиць, провулків, площ.</p> <p>Написи райрад, селищних та сільських рад (під назвами населених пунктів).</p> <p>Буквені індекси житлових та нежитлових будинків, матеріалу їхньої побудови.</p> <p>Написи горизонталей та ізобат, поверховості будинків та кількості мешканців у населених пунктах.</p> <p>(колір шрифту для елементів гідрографії – зелений, для елементів рельєфу - коричневий)</p>	<p style="text-align: center;">3,0 - 1,6</p> <p><i>пр. Незалежності пл. Галицька вул. Сахарова</i></p> <p style="text-align: center;">СР РР СР РР</p> <p style="text-align: center;">9КЖ 2Ж Н Н</p> <p style="text-align: center;">2,0 - 1,6</p> <p style="text-align: center;">50 75 100 125 150 50 75 100 125 150</p>

ЛІТЕРАТУРА

1. Волосецький Б. І. Геодезія у природокористуванні. Навч. посібник. Львів: Видавництво - Львівська політехніка, 2012 - 292 с.
2. Волосецький Б. І. Інженерна геодезія. Геодезичні роботи для проектування і будівництва водогосподарських та гідротехнічних споруд. Навч. посібник. Львів: Видавництво - Львівська політехніка, 2003 - 144 с.
3. Геодезичний енциклопедичний словник. – Львів, Євросвіт, 2001.
4. Інструкція з топографічного знімання у масштабах 1:5000, 1:2000, 1:1000 та 1:500. ГКНТА - 2.04-02-98, Київ, 1999.
5. Могильний С.Г., Войтенко С.П. Геодезія, частина перша. – м.Чернігів. ЧДІЕУ, 2002р. – 408с.
6. Островський А.Л. та інші. Геодезія (топографія). Частина І. – м. Львів, Видавництво НУ «Львівська політехніка», 2011р. – 440с.
7. Островський А.Л. та інші. Геодезія, підручник для вузів. Частина ІІ. – м.Львів, Видавництво НУ «Львівська політехніка», 2007р. 508с.
8. Перович І.Л., Сай В.М.. Кадастр територій: навч. посібник – Львів: Видавництво Львівської політехніки, 2012. – 264 с
9. Перович Л., Волосецький Б. Основи кадастру (ч.І). Навч. посібник. Львів: - Львівське астрономо-геодезичне товариство. 2000 - 128 с.
10. Ратушняк Г. С. Інженерна геодезія. Практикум: Навчальний посібник. – К. Вища школа, 1992, - 262 с.
11. Ступень М.Г. та інші. Теоретичні основи державного земельного кадастру: Навч. посібник – Львів: «Новий Світ-2000», 2006 – 336 с.
12. Терещук О.І., Мовенко В.І. та ін. Практикум з геодезії. – Чернігів, Чернігівська політехніка, 2008.
13. Умовні знаки для топографічних планів масштабів 1:5000, 1:2000, 1:1000, 1:500.-Київ, 2001.
14. Шевченко Т.Г., Мороз О.І., Тревого І.С. Геодезичні прилади. – Львів, „Львівська політехніка”, 2006.
15. GIS – the language of geography ESRI Map book./Ed. N. Sappington.– Redlands, 2004. –Vol. 19. – 120 p.

7. Інформаційні ресурси

1. <http://library.knuba.edu.ua/>
2. <http://www.dataplus.ru>
3. <http://resources.arcgis.com>
4. <http://maps.google.com>
5. <http://wiki.gis-lab.info>
6. <http://www.nss.kiev.ua/gps.php>
7. <http://www.glonass-ianc.rsa.ru/>
8. <http://navis-ukraine.com.ua/>