

Міністерство освіти і науки України
ЧЕРНІГІВСЬКИЙ НАЦІОНАЛЬНИЙ ТЕХНОЛОГІЧНИЙ УНІВЕРСИ-
ТЕТ

Навчально-науковий інститут управління та адміністрування
Факультет життєдіяльності, природокористування і туризму

Кафедра туризму

ЗОШИТ
для практичних робіт
з дисципліни

“Рекреаційні комплекси світу”

II частина

Студента (ки) _____ курсу _____ групи
напряму підготовки 24 “Сфера обслуговування”
спеціальності 242 “Туризм”

(прізвище та ініціали)

Чернігів, _____ рік

Зошит для практичних робіт з дисципліни “Рекреаційні комплекси світу” для студентів спеціальності 242 “Туризм” денної форми навчання / Укл.: Алешугіна Н.О. – Чернігів: ЧНТУ, 2017. – 28 с.

Розглянуто на засіданні кафедри туризму протокол № 1 від 28 серпня 2017 року

Практична робота 9

Характеристика світового туристичного простору

Теми, що виносяться на поточний контроль

1. Загальні закономірності та фактори просторового розвитку туризму
2. Характеристика світового туристичного простору

Номенклатура: “Світовий океан”

Вивчити по карті місце розташування наступних океанів, морів, заток та проток:

Атлантичний океан:

Балтійське море, Ботнічна затока, Фінська затока, протока Каттегат, протока Скагеррак, Північне море, протока Ла-Манш, Біскайська затока, Гібралтарська протока, Середземне море, Лігурійське море, Тірренське море, Іонічне море, Адріатичне море, Егейське море, протока Дарданелли, Мармурове море, протока Босфор, Чорне море, Керченська протока, Азовське море, Гвінейська затока, протока Дрейка, протока Магеллана, Карибське море, Мексиканська затока, затока Кампече, Саргасове море

Індійський океан:

Червоне море, Акабська затока, Баб-ель-Мандебська протока, Аденська затока, Перська затока, Ормузька протока, Оманська затока, Аравійське море, Бенгальська затока, Андаманське море, Малакська протока, Велика Австралійська затока, Мозамбікська протока.

Тихий океан:

Японське море, Жовте море, Східно-Китайське море, Південно-Китайське море, Сіамська затока, Яванське море, море Балі, Філіпінське море, море Сулу, море Сулавесі, Тиморське море, Арафурське море, затока Карпентарія, Панамська затока, Каліфорнійська затока.

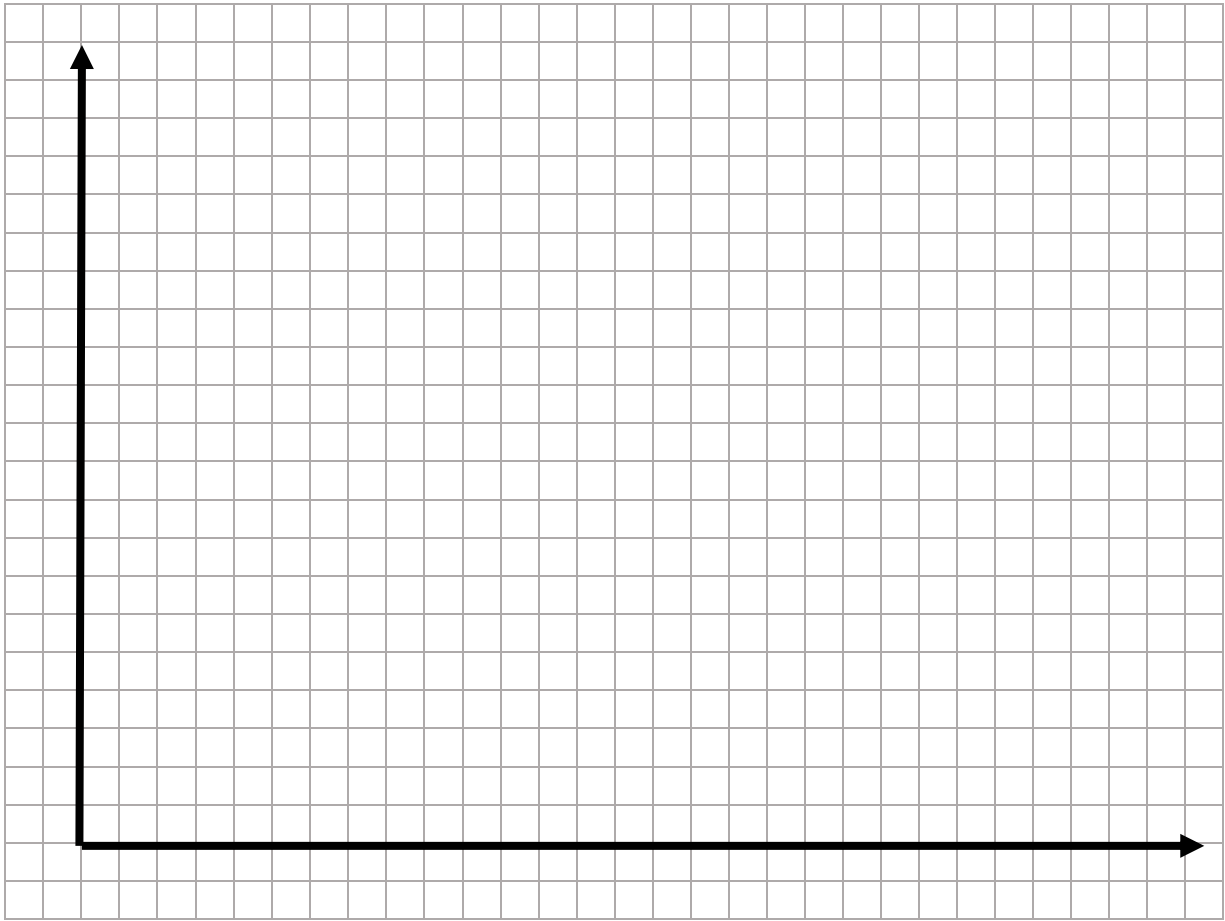
Завдання:

1. За даними таблиці 1 зобразити графіки динаміки турпотоків за туристичними регіонами світу. Зробити висновки.

Таблиця 1

Потужність міжнародних туристичних потоків, млн. осіб

| | 1990 | 1995 | 2000 | 2005 | 2010 | 2015 |
|--------------------------------|--------------|--------------|--------------|--------------|--------------|--------------|
| Європейський | 261,5 | 304,5 | 386,6 | 453,2 | 489,4 | 607,7 |
| Північна Європа | 28,7 | 36,4 | 44,8 | 59,9 | 62,8 | 75,9 |
| Західна Європа | 108,6 | 112,2 | 139,7 | 141,7 | 154,4 | 180,0 |
| Центральна і Східна Європа | 33,9 | 57,9 | 69,6 | 95,3 | 98,9 | 126,6 |
| Південна Європа | 90,3 | 98,0 | 132,6 | 156,4 | 173,3 | 225,2 |
| Азійсько-Тихоокеанський | 55,9 | 82,1 | 110,4 | 154,0 | 205,5 | 279,2 |
| Північно-Східна Азія | 26,4 | 41,3 | 58,3 | 85,9 | 111,5 | 142,1 |
| Південно-Східна Азія | 21,2 | 28,5 | 36,3 | 49,0 | 70,5 | 104,6 |
| Океанія | 5,2 | 8,1 | 9,6 | 10,9 | 11,4 | 14,2 |
| Південна Азія | 3,2 | 4,2 | 6,1 | 8,2 | 12,1 | 18,3 |
| Близькосхідний | 9,6 | 12,7 | 22,4 | 33,7 | 54,7 | 53,3 |
| Африканський | 14,8 | 18,7 | 26,2 | 34,8 | 50,4 | 53,5 |
| Північна Африка | 8,4 | 7,3 | 10,2 | 13,9 | 19,7 | 18,0 |
| На південь від Сахари | 6,4 | 11,5 | 16,0 | 20,9 | 30,7 | 35,4 |
| Американський | 92,8 | 108,9 | 128,2 | 133,3 | 150,2 | 192,6 |
| Північна Америка | 71,8 | 80,5 | 91,5 | 89,9 | 99,5 | 127,6 |
| Карибський басейн | 11,4 | 14,0 | 17,1 | 18,8 | 19,5 | 23,9 |
| Центральна Америка | 1,9 | 2,6 | 4,3 | 6,3 | 7,9 | 10,3 |
| Південна Америка | 7,7 | 11,7 | 15,3 | 18,3 | 23,2 | 30,8 |



Висновки:

2. За даними таблиці 2 обрахувати частку туристичних регіонів у туристичних відвідуваннях за 1990 та 2015 роки. Заповнити таблицю 2. Як змінилися ці показники за 25 років? Спробуйте пояснити такі зміни.

Таблиця 2

Структура туристичних відвідувань за туристичними регіонами

| Туристичні регіони | Кількість туристів, млн | Частка регіону у турпотоках, % | Кількість туристів, млн | Частка регіону у турпотоках, % |
|--------------------------------|-------------------------|--------------------------------|-------------------------|--------------------------------|
| | 1990 | | 2015 | |
| <i>Європейський</i> | 261,5 | | 607,7 | |
| <i>Азійсько-Тихоокеанський</i> | 55,9 | | 279,2 | |
| <i>Близькосхідний</i> | 9,6 | | 53,3 | |
| <i>Африканський</i> | 14,8 | | 53,5 | |
| <i>Американський</i> | 92,8 | | 192,6 | |
| <i>Всього у світі</i> | | | | |

Висновки:

3. За даними таблиці 3 визначити інтенсивність туристичних потоків та надходжень від туризму за туристичними регіонами та районами світу (за 2016 р.). Обчислити, в середньому які доходи від одного туристичного візиту отримують регіони та райони. Заповнити табл. 3. Порівняти отримані дані. Зробити висновки.

Інтенсивність туристичних потоків та надходжень від туризму за туристичними регіонами та районами світу

| | Кількість населення, млн.. | Кількість туристів, млн | | Надходження від туризму, млрд.. дол.. США | | Доходи від одного туристичного візиту, тис. дол.. США |
|---------------------------------------|-----------------------------------|--------------------------------|--|--|--|--|
| <i>Європейський</i> | 903,85 | 616,2 | | 447,3 | | |
| | 3 | | | | | |
| Північна Європа | 92,899 | 80,2 | | 74,6 | | |
| Західна Європа | 190,115 | 181,5 | | 145,337 | | |
| Центральна і Східна Європа | 382,625 | 126,0 | | 52,6 | | |
| Південна Європа | 238,214 | 228,5 | | 174,7 | | |
| <i>Азійсько-Тихоокеанський</i> | 3951,9 | 308,4 | | 366,7 | | |
| | 88 | | | | | |
| Північно-Східна Азія | 1556,27 | 154,3 | | 168,9 | | |
| Південно-Східна Азія | 595,612 | 113,2 | | 117,2 | | |
| Океанія | 37,913 | 15,6 | | 46,7 | | |
| Південна Азія | 1762,193 | 25,3 | | 33,8 | | |
| <i>Близькосхідний</i> | 193,91 | 53,6 | | 57,6 | | |
| | 3 | | | | | |
| <i>Африканський</i> | 958,62 | 57,8 | | 34,8 | | |
| | 6 | | | | | |
| Північна Африка | 113,585 | 18,6 | | 9,1 | | |
| На південь від Сахари | 845,041 | 39,2 | | 25,6 | | |
| <i>Американський</i> | 947,6 | 199,3 | | 313,2 | | |
| Північна Америка | 464,99 | 130,5 | | 243,7 | | |
| Карибський басейн | 41,631 | 25,2 | | 30,2 | | |
| Центральна Америка | 42,977 | 10,7 | | 12,2 | | |
| Південна Америка | 398,002 | 32,8 | | 27,0 | | |
| <i>Усього у світі</i> | | | | | | |

Висновки:

Завдання на наступне заняття:

Теорія.

Географія туристських потоків, доходів та витрат

Географія рекреаційних видів туризму

Географія активних видів туризму

Практична робота №9

Номенклатура “Острови”

Вивчити по карті місце розташування наступних островів:

Атлантичний океан:

Балеарські, Ельба, Корсика, Сардинія, Іск'я, Капрі, Сицилія, Іонічні, Крит, Киклади, Північні Споради, Південні Споради, Мальта, Кіпр, Канарські, Мадейра, Малі Антільські, Тринідад, Великі Антільські, Куба, Ямайка, Гаїті, Пуерто-Ріко, Багамські, Бермудські

Індійський океан:

Маврикій, Мадагаскар, Сейшельські, Занзібар, Мальдівські, Шрі-Ланка, Суматра, Тасманія

Тихий океан:

Хоккайдо, Хонсю, Сікоку, Кюсю, Тайвань, Хайнань, Ява, Балі, Калімантан, Сулавесі, Нова Гвінея, Філіпінські, Фіджі, Нова Зеландія, Галапагоські, Гавайські.

Практична робота 10

Географія рекреаційних видів туризму

Теми, що виносяться на поточний контроль

1. Географія туристських потоків, доходів та витрат
2. Географія рекреаційних видів туризму
3. Географія активних видів туризму

Номенклатура по темі “Острови”

Завдання:

1. На контурну карту нанести основні круїзні території світу:

Аляскінсько-Канадську – порти узбережжя Тихого океану від м. Анкорідж до м. Сіетл

Схід Північноамериканського узбережжя - порти узбережжя Атлантичного океану від м. Шарлотаун до м. Нью-Йорк

Мексиканську Рів'єру – від Сан-Франциско (США) до Акапулько

Карибську – понад 40 портів на островах Карибського моря

Гавайську – порти Гавайських островів

Південно-Тихоокеанську – порти Австралії: Дарвін, Перт, Сідней, Мельбурн, Хобарт; порти Н.Зеландії та Океанії

Південно-Американську – Гуаякіль (Еквадор), Кальяо (Перу), Вальпараїсо, Пуерто-Монт, Пунта-Аренас (Чилі), Ушуая, Буенос-Айрес (Аргентина), Монтевідео (Уругвай), Сан-Паулу, Ріо-де-Жанейро (Бразилія), Сальвадор, Ресифі, Белен (Бразилія)

Антарктичну (порти західного узбережжя Антарктиди)

Північноєвропейську: Скандинавія - Норвезькі фіорди: порт Лонгйір (Шпіцберген), узбережжя Норвезького моря від м. Хаммерфест до м.Ставангер (Норвегія); Балтія – порти Санкт-Петербург, Гельсінкі, Таллінн, Мальме, Стокгольм, Осло, Гамбург, Амстердам, Копенгаген.

Середземноморську – понад 40 портів Середземного та Чорного морів;

Західно-Африканську – порти Фуншал (Мадейра), Лас-Пальмас (Канарські о-ви), Дакар, Фрітаун (Сьєрра-Леоне), Монровія (Ліберія).

Африкано-Індійську – Момбаса(Кенія), Занзібар (Танзанія), Порт-Луї (Маврикій), Мумбай, Мадрас (Індія), Коломбо (Шрі-Ланка), Мале (Мальдіви)

Далекосхідну - понад 45 портів узбережжя Японського, Філіппінського, Південно-Китайського, Яванського морів.

2. На контурну карту нанести райони розвитку активних видів туризму:

Дайвінг-райони: Австралія - Великий Бар'єрний риф; Мексика – п-в Каліфорнія, Мексиканська Рів'єра, о.Косумель; Таїланд – о.Пхукет; Єгипет – Шарм-ель-Шейх; Беліз – заповідник “Бар'єрний риф”, Еквадор – Галапагоські о-ви, США – Гавайські о-ви; Мальдівські о-ви;

Світові центри серфінгу: Сафага, Дахаб (Єгипет), береги Акабської затоки, о. Сал, (Кабо Верде), Тарифа (Гібралтарська протока, Іспанія), п-в Корнуолл (Великобританія), Гаваї, штати Каліфорнія і Флорида у США.

Завдання на наступне заняття:

Теорія:

Географія культурно-пізнавального та подійного туризму

Географія ділового туризму

Географія релігійного туризму

Практична робота №10

Номенклатура “Гори”

Вивчити по карті місце розташування наступних гір:

Європа:

Скандинавські, Маанселькя, Пенініські, Кантабрійські, Піренеї, Іберійські, Центральна Кордильєра, Кордильєра-Бетіка, Севенни, Юра, Альпи, Апеніни, Шумава, Рудні гори, Судети, Карпати, Стара Планіна, Родопи, Пінд, Великий Кавказ, Уральські

Азія:

Понтійські, Малий Кавказ, Тавр, Алтай, Тянь-Шань, Гіндукуш, Кунь-Лунь, Гімалаї, Тибет, Сіхоте-Алінь, Західні Гати

Африка:

Атлаські, Кіліманджаро, Рувензорі, Драконові гори

Америка:

Апалачі, Кордильєри, Аляскінський хр., Скелясті гори, Береговий хребет, Каскадні гори, Сьєрра-Невада, Західна Сьєрра-Мадре, Східна Сьєрра-Мадре, Анди

Австралія:

Великий Вододільний хребет, Австралійські Альпи

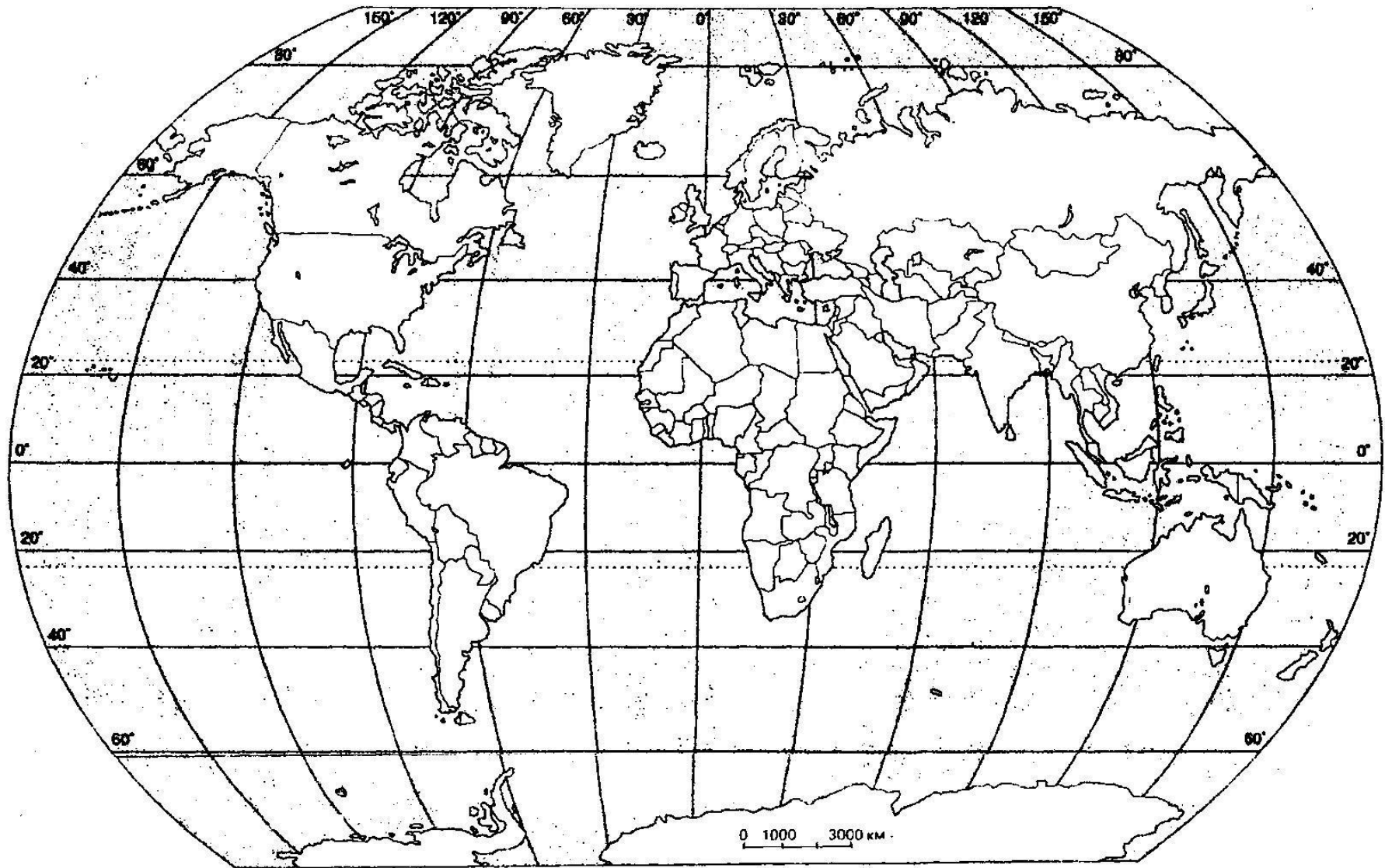


Рис. 1 Райони розвитку круїзного туризму, дайвінгу та серфінгу.

Практична робота 11 **Географія релігійного туризму**

Теми, що виносяться на поточний контроль:

1. Географія культурно-пізнавального та подійного туризму
2. Географія ділового туризму
3. Географія релігійного туризму

Номенклатура “Гори”

Завдання:

Нанести на контурну карту основні макрорегіони поширення релігій у світі та основні релігійні центри світу:

Християнство: Єрусалим, Рим, Турин, Неаполь, Барі, Аахен, Трір, Віттенберг, Женева, Цюрих, Париж, Лурд, Шартр, Сантьяго-ді-Компостелла, Авіла, Фатима, Ченстохова, Сергіїв Посад, Соловецькі острови, Козельськ, о.Валаам, Санкт-Петербург, Москва, Київ, Почаїв, Стамбул, Афон, Олександрія, Апаресида (Бразилія), Гуадалупе (Мексика);

Іслам: Мекка, Медина, Єрусалим, Хеврон, Кайруан, Багдад, Кербела (Ірак), Неджеф (Ірак), Самарканд (Узбекистан);

Іудаїзм: Хеврон, Єрусалим;

Буддизм: Лумбіні (Непал), Бодхгая (Індія), Сарнатх (Індія), Кушінара (Індія), Канді (Шрі-Ланка), Нара (Японія);

Синтоїзм: Нара (Японія),

Індуїзм: Бадрінатх, Пурі, Равешмарам, Дварака (Індія),

Джайнізм: Палітана (Індія).

Завдання на наступне заняття

Теорія.

Географія екологічного туризму

Рекреаційні комплекси Європейського туристичного регіону

Підготуватись до МКР. Теми: 15-23.

Практична робота №11.

Номенклатура “Країни Європейського РТР”:

Вивчити по карті місце розташування країн Європейського РТР

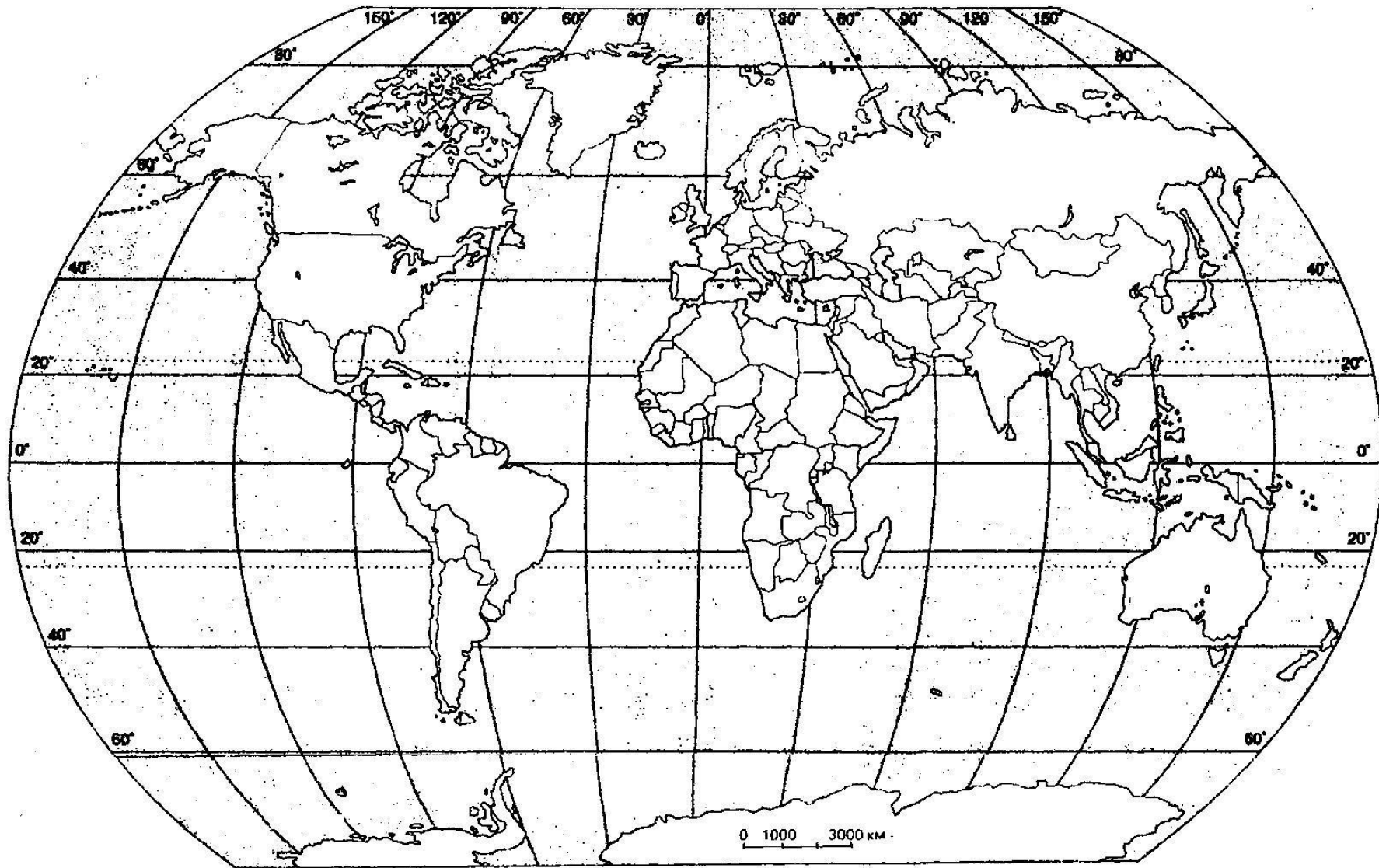


Рис.2. Релігії світу

Практична робота 12
Рекреаційні комплекси Європейського туристичного регіону

МКР!

Номенклатура “Країни Європейського РТР”

Завдання:

1. Нанести на контурну карту межі рекреаційних районів Європейського регіону, найбільші курорти, курортні місцевості та центри.



Рис.3. Рекреаційне районування Європейського РТР

2. Доповнити наведений рис. 4 умовними позначеннями.

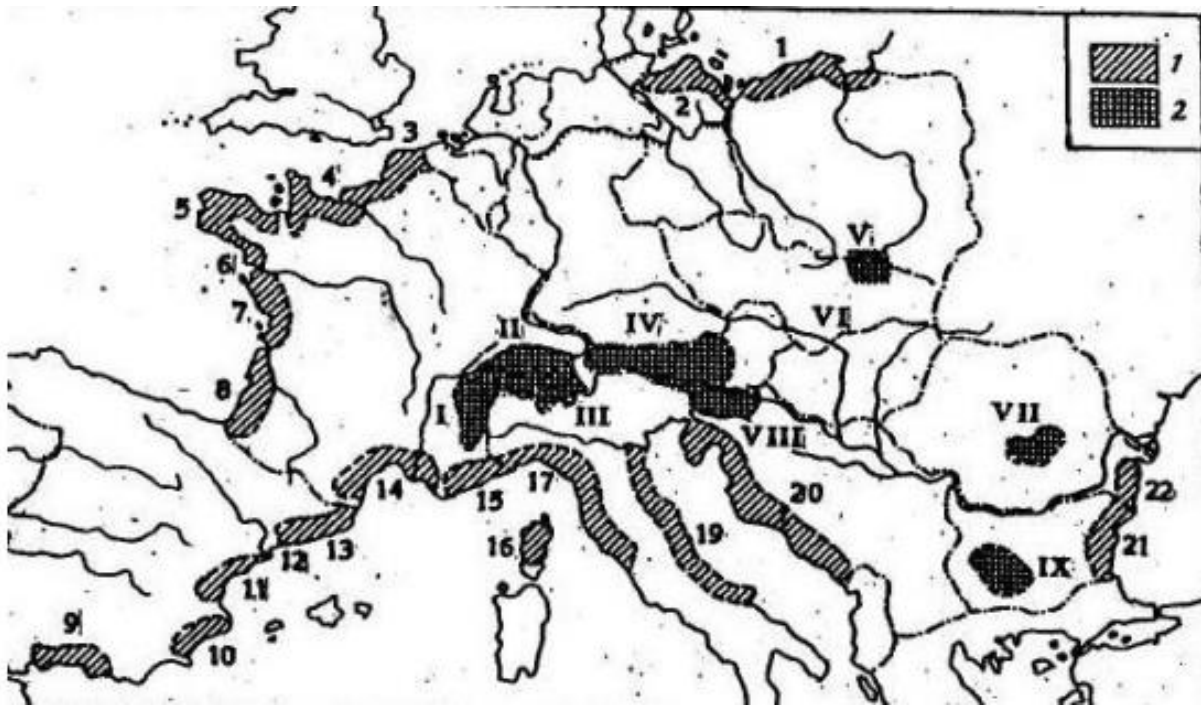
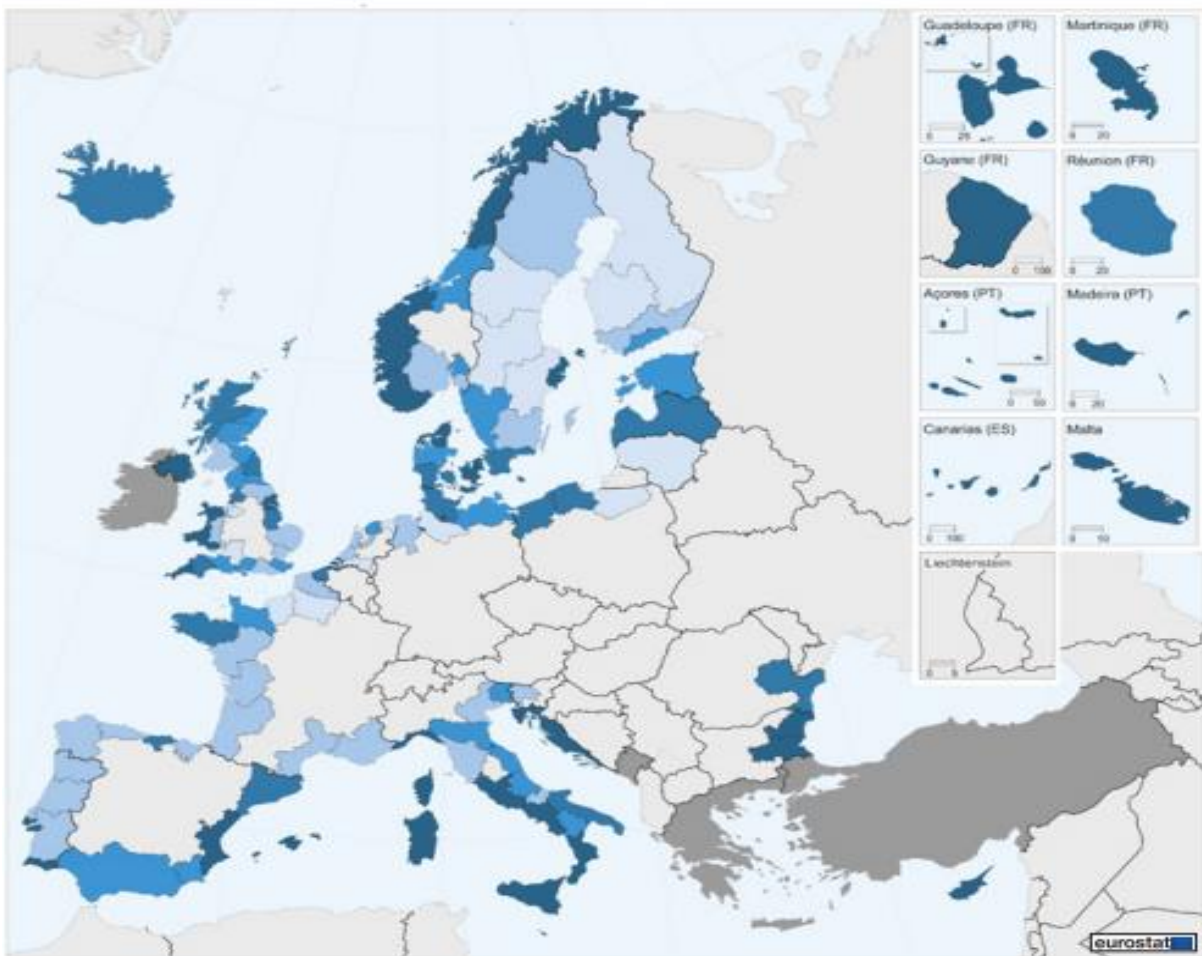


Рис. 4 Найбільші рекреаційні системи Європи

- | | |
|-----|-----|
| 1. | 12. |
| 2. | 13. |
| 3. | 14. |
| 4. | 15. |
| 5. | 16. |
| 6. | 17. |
| 7. | 18. |
| 8. | 19. |
| 9. | 20. |
| 10. | 21. |
| 11. | 22. |

- I
- II
- III
- IV
- V
- VI
- VII
- VIII
- IX

3. За малюнком 5 визначити регіони Європи, які орієнтуються на використання приморських рекреаційних ресурсів



% від загальної кількості ночей, проведених резидентами та нерезидентами в регіональних засобах розміщення




Рис.5 Ночі, проведені туристами в закладах розміщення, розташованих на узбережжі

Норвегія

Швеція

Данія

Великобританія

Ісландія

Латвія

Польща

Франція

Іспанія

Італія

Хорватія

Болгарія

Румунія

1. За малюнком 6 визначити регіони окремих країн Європи, найбільш забезпечені місцями в готелях. Пояснити такий стан.

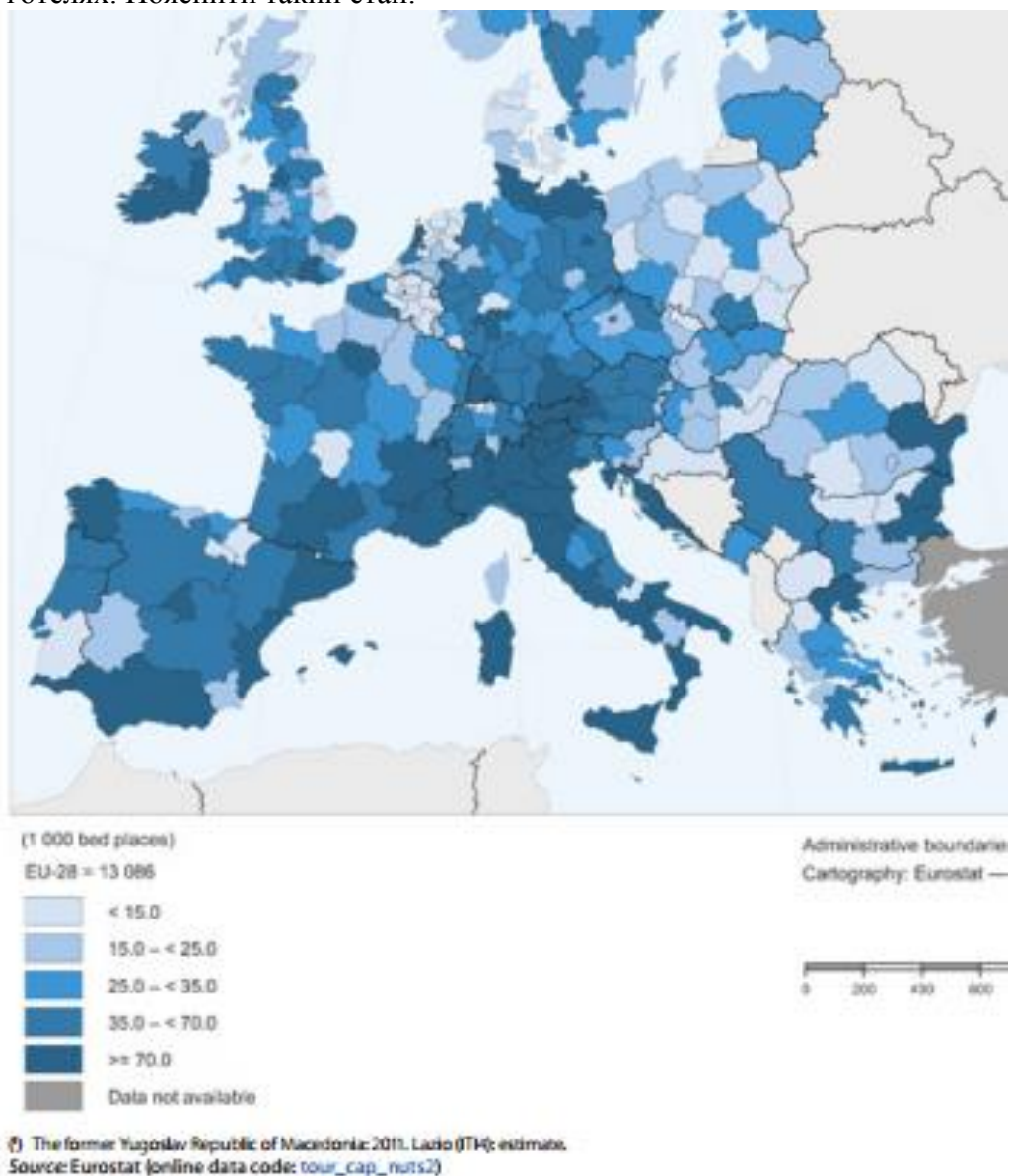


Рис.6 Кількість місць в готелях та аналогічних закладах розміщення регіонів Європи

Франція

Іспанія

Італія

Австрія

Німеччина

Великобританія

Висновки до роботи:

Завдання на наступне заняття:

Теорія.

Рекреаційні комплекси Європейського туристичного регіону - повторити
Рекреаційні комплекси АТР

Практична робота №12

Номенклатура: “Країни АТР”

Вивчити по карті місце розташування наступних країн АТР:

Китай, Монголія, Північна Корея, Республіка Корея, Тайвань, Японія, В'єтнам, Індонезія, Малайзія, Сінгапур, Таїланд, Філіпіни, Австралія, Гуам, Нова Зеландія, Індія, Іран, Мальдіви, Шрі-Ланка

До наступного тижня закрити III модуль.

Практична робота 13

Рекреаційні комплекси АТР

Теми, що виносяться на поточний контроль:

Рекреаційні комплекси Європейського РТР

Рекреаційні комплекси АТР

Номенклатура “Країни АТР”

Завдання:

1. Нанести на контурну карту (рис.7) мережу рекреаційних регіонів Азії, найбільші центри та райони.
2. Скласти комплексну характеристику рекреаційних комплексів, нанести на карту (рис.7) найбільші курортні місцевості та центри: а) Китаю; б) Індії; в) Індонезії; г) Японії.



Рис. 7. Рекреаційне районування Азійсько-Тихоокеанського рекреаційно-туристичного регіону

Завдання на наступне заняття:

Теорія. Туристична індустрія України

Номенклатура “Країни Американського РТР”

Вивчити по карті місце розташування наступних країн Американського РТР:

Канада, США, Мексика, Багами, Куба, Домініканська Республіка, Ямайка, Пуерто-Ріко, Коста-Ріка, Сальвадор, Гватемала, Нікарагуа, Панама, Аргентина, Бразилія, Чилі, Колумбія, Еквадор, Перу, Уругвай

Практична робота №13

Практична робота 14
Туристична індустрія України

Теми, що виносяться на поточний контроль:

1. Туристична індустрія України

Номенклатура “Країни Американського РТР”

Завдання:

Завдання

1. За даними таблиці 4 створити:

А.) стовпчикову діаграму, на якій відобразити співвідношення кількості колективних засобів розміщення, які належать юридичним та фізичним особам, зробити висновки.

Б.) колову діаграму, на якій зобразити структуру колективних засобів розміщення України. Зробити висновки

Таблиця 4

Кількість колективних засобів розміщення за типами засобів в Україні

| | Юридичні особи | Фізичні особи |
|--|----------------|---------------|
| Кількість колективних засобів розміщування | 2512 | 2060 |
| У тому числі, готелі та аналогічні засоби розміщення | 1086 | 1558 |
| З них готелі | 759 | 764 |
| Мотелі | 29 | 109 |
| Хостели | 5 | 23 |
| Кемпінги | 6 | 5 |
| Агроготелі | - | - |
| Гуртожитки для приїжджих | 100 | 16 |
| Туристські бази, гірські притулки, студентські літні табори, інші місця для тимчасового розміщування | 187 | 641 |
| Спеціалізовані засоби розміщування | 1426 | 502 |
| З них санаторії | 187 | - |
| Дитячі санаторії | 117 | - |
| Пансіонати з лікуванням | 16 | - |
| Дитячі заклади оздоровлення цілорічної дії | 18 | - |
| Санаторії-профілакторії | 118 | - |
| Бальнеологічні лікарні, грязелікарні | 3 | - |
| Будинки відпочинку | 9 | 8 |
| Пансіонати відпочинку | 61 | 12 |
| Бази відпочинку | 886 | 481 |
| Оздоровчі заклади 1-2 денного перебування | 11 | 1 |

Висновки:




Рис.8. Співвідношення кількості колективних засобів розміщення, які належать юридичним та фізичним особам

Рис.9 Структура колективних засобів розміщення

2. За даними таблиці 5 обрахувати кількість готелів та спеціалізованих засобів розміщення у регіонах України, а також розрахувати забезпеченість регіонів колективними засобами розміщення у розрахунку на 10 тис. осіб. Заповнити таблицю 5. Створити картограму, на якій відобразити найкраще, гарно, середньо, погано та найгірше забезпечені регіони.

Таблиця 5

Кількість колективних засобів розміщення за регіонами

| | Кількість населення, тис. осіб | Кількість готелів та аналогічних засобів розміщення | | Кількість спеціалізованих засобів розміщення | | Кількість колективних засобів розміщення | Забезпеченість регіонів колективними засобами розміщення, на 10 тис. осіб |
|-----------------|--------------------------------|---|--------------------------|--|--------------------------|--|---|
| | | Юридичні особи | Фізичні особи-підприємці | Юридичні особи | Фізичні особи-підприємці | | |
| Україна | 45426,2 | 1086 | 1558 | 1426 | 502 | | |
| Вінницька | 1618,3 | 19 | 54 | 25 | - | | |
| Волинська | 1041,3 | 23 | 41 | 70 | 4 | | |
| Дніпровська | 3292,4 | 87 | 59 | 112 | 7 | | |
| Донецька | 4343,9 | 36 | 14 | 53 | 9 | | |
| Житомирська | 1262,5 | 25 | 34 | 17 | 3 | | |
| Закарпатська | 1256,8 | 49 | 180 | 46 | 12 | | |
| Запорізька | 1775,8 | 46 | 79 | 155 | 75 | | |
| Ів.-Франківська | 1382,1 | 51 | 161 | 30 | 1 | | |
| Київська | 1725,5 | 51 | 38 | 74 | 1 | | |
| Кропивницька | 987,5 | 18 | 30 | 28 | 1 | | |
| Луганська | 2239,5 | 10 | 3 | 7 | 1 | | |
| Львівська | 2538,4 | 145 | 128 | 67 | - | | |
| Миколаївська | 1168,4 | 32 | 57 | 125 | 101 | | |
| Одеська | 2396,5 | 81 | 154 | 200 | 194 | | |
| Полтавська | 1458,2 | 49 | 57 | 31 | 6 | | |
| Рівненська | 1158,9 | 14 | 36 | 15 | - | | |
| Сумська | 1132,9 | 23 | 18 | 19 | - | | |
| Тернопільська | 1073,3 | 14 | 44 | 11 | 1 | | |
| Харківська | 2737,2 | 48 | 77 | 71 | 4 | | |
| Херсонська | 1072,6 | 23 | 86 | 130 | 80 | | |
| Хмельницька | 1306,9 | 33 | 51 | 16 | - | | |
| Черкаська | 1259,9 | 27 | 46 | 49 | 2 | | |
| Чернівецька | 908,5 | 21 | 70 | 9 | - | | |
| Чернігівська | 1066,8 | 31 | 14 | 29 | - | | |
| м.Київ | 2868,7 | 130 | 27 | 37 | - | | |

Висновки:



Рис.10 Забезпеченість регіонів України закладами розміщення

3. За даними таблиці 5 розрахувати кількість колективних засобів розміщення у рекреаційно-туристичних районах України. Визначити частку районів у загальній кількості закладів. Заповнити таблицю 6.

Таблиця 6

Колективні засоби розміщення у рекреаційно-туристичних районах України

| Район | Кількість готелів та аналогічних засобів розміщення | Частка району у загальній кількості готелів та аналогічних засобів розміщення | Кількість спеціалізованих засобів розміщення | Частка у загальній кількості спеціалізованих засобів розміщення |
|-----------------------------|---|---|--|---|
| Причорноморський | | | | |
| Приазовський | | | | |
| Карпатський | | | | |
| Подільський | | | | |
| Подільський | | | | |
| Столичний | | | | |
| Слобожансько-Надніпрянський | | | | |
| Придніпровський | | | | |
| Донецький | | | | |

Висновки:

Завдання на наступне заняття

Теорія.

Проблеми розвитку рекреаційного комплексу України
Туристичні підприємства Чернігівської області
Туристичне районування Чернігівської області

Номенклатура “Країни Африканського та Близькосхідного РТР”

Вивчити по карті місце розташування наступних країн Африканського та Близькосхідного РТР:

Алжир, Марокко, Туніс, Ботсвана, Гана, Кенія, Маврикій, Мозамбік, Намібія, Руанда, ПАР, Танзанія, Уганда, Зімбабве;

Єгипет, Йорданія, Ірак, Ліван, Оман, Катар, Саудівська Аравія, Сирія, ОАЕ, Ємен.

Практична робота №14

Підготуватись до МКР №4. Теми: 24-26, 29-32

Практична робота 15
Туристичні підприємства Чернігівської області

МКР №4

Номенклатура “Країни Африканського та Близькосхідного РТР”

Завдання:

1. На контурну карту Чернігівської області нанести туристично-рекреаційні райони регіону. Запам'ятати схему туристичного районування.



Рис.11 Туристичне районування Чернігівської області

2. Проаналізувати таблицю 7. Зробити висновки щодо тенденцій розвитку туризму в Чернігівській області.

Таблиця 7

Динаміка туристичних потоків Чернігівської області

| Роки | Кількість туристів, обслугованих суб'єктами туристичної діяльності України ¹ – усього | Із загальної кількості туристів | | | Кількість екскурсантів |
|------|--|---------------------------------|--|-------------------|------------------------|
| | | іноземні туристи | туристи-громадяни України, які виїжджали за кордон | внутрішні туристи | |
| 2000 | 12121 | 286 | 1842 | 9993 | 16128 |
| 2001 | 12726 | 237 | 1529 | 10960 | 16786 |
| 2002 | 12792 | 83 | 1613 | 11096 | 16154 |
| 2003 | 20725 | 283 | 2427 | 18015 | 18814 |
| 2004 | 18575 | 599 | 2222 | 15754 | 14569 |
| 2005 | 24883 | 2431 | 3240 | 19212 | 17969 |
| 2006 | 37804 | 3779 | 5659 | 28366 | 18997 |
| 2007 | 32913 | 2464 | 6501 | 23948 | 28339 |
| 2008 | 36627 | 3494 | 8059 | 25074 | 24437 |
| 2009 | 24341 | 3300 | 6434 | 14607 | 14255 |
| 2010 | 24234 | 1660 | 7663 | 14911 | 10769 |
| 2011 | 15687 | 148 | 6873 | 8666 | 14846 |
| 2012 | 15908 | 148 | 8512 | 7248 | 14001 |
| 2013 | 9328 | 14 | 7952 | 1362 | 10746 |
| 2014 | 7689 | 7 | 7041 | 641 | 3641 |
| 2015 | 7052 | - | 6543 | 509 | 3336 |

Висновки:

3. Проаналізувати дані таблиці 8. Зробити висновки щодо тенденцій розвитку санаторно-курортного господарства Чернігівської області.

Таблиця 8

Санаторно-курортні та оздоровчі заклади Чернігівської області.

| Роки | Санаторії та пансіонати з лікуванням ¹ | | Санаторії-профілакторії ¹ | | Будинки і пансіонати відпочинку ¹ | | Бази та інші заклади відпочинку ¹ | | Дитячі оздоровчі табори ² | |
|------|---|-------------------|--------------------------------------|-------------------|--|-------------------|--|-------------------|--------------------------------------|-------------------|
| | усього | у них ліжок, тис. | усього | у них ліжок, тис. | усього | у них місць, тис. | усього | у них місць, тис. | усього | у них місць, тис. |
| 1995 | 9 | 1,4 | 7 | 0,6 | 3 | 0,6 | 54 | 5,1 | 306 | 4,0 |
| 1996 | 10 | 1,6 | 7 | 0,5 | 2 | 0,2 | 50 | 4,5 | 233 | 4,0 |
| 1997 | 10 | 1,8 | 7 | 0,5 | 2 | 0,3 | 43 | 3,8 | 100 | 3,8 |
| 1998 | 10 | 1,8 | 7 | 0,5 | 3 | 0,5 | 38 | 3,1 | 116 | 3,3 |
| 1999 | 10 | 1,8 | 6 | 0,6 | 3 | 0,5 | 40 | 2,8 | 96 | 3,7 |
| 2000 | 10 | 1,8 | 6 | 0,6 | 2 | 0,3 | 43 | 2,9 | 56 | 4,0 |
| 2001 | 10 | 1,8 | 6 | 0,6 | 1 | 0,2 | 40 | 2,7 | 74 | 2,3 |
| 2002 | 9 | 1,7 | 6 | 0,6 | 1 | 0,2 | 40 | 3,4 | 372 | 2,7 |
| 2003 | 8 | 1,5 | 6 | 0,6 | 1 | 0,1 | 37 | 3,7 | 379 | 3,4 |
| 2004 | 8 | 1,3 | 5 | 0,4 | 1 | 0,1 | 38 | 3,8 | 536 | 4,6 |
| 2005 | 8 | 1,3 | 5 | 0,4 | 1 | 0,1 | 37 | 3,9 | 536 | 4,3 |
| 2006 | 7 | 1,3 | 5 | 0,4 | 1 | 0,1 | 37 | 3,8 | 554 | 4,1 |
| 2007 | 7 | 1,3 | 3 | 0,3 | 1 | 0,1 | 34 | 3,7 | 563 | 4,0 |
| 2008 | 7 | 1,3 | 3 | 0,3 | 2 | 0,2 | 30 | 3,2 | 560 | 4,0 |
| 2009 | 7 | 1,3 | 3 | 0,3 | 2 | 0,3 | 30 | 3,2 | 569 | 3,4 |
| 2010 | 7 | 1,3 | 3 | 0,3 | 1 | 0,2 | 26 | 2,8 | 562 | 3,5 |
| 2011 | 7 | 1,3 | 3 | 0,2 | - | - | 26 | 2,6 | 550 | 3,8 |
| 2012 | 7 | 1,3 | 3 | 0,2 | - | - | 24 | 2,3 | 559 | 3,8 |
| 2013 | 6 | 1,2 | 2 | 0,1 | - | - | 24 | 2,3 | 547 | 4,0 |
| 2014 | 6 | 1,2 | 2 | 0,1 | - | - | 21 | 1,9 | 493 | 3,3 |
| 2015 | 6 | 1,2 | - | - | - | - | 16 | 1,7 | X | X |

Висновки:

4. Проаналізувати таблицю 9. Зробити висновки щодо структури та розміщення музеїв на території Чернігівської області

Таблиця 9

Музеї Чернігівської області

| | | | |
|----|--|-------------------------------|---|
| 1 | Національний історико-культурний заповідник “Гетьманська столиця” | смт Батурин | історико-культурні |
| 2 | Бахмацький історичний музей | м. Бахмач | історичні |
| 3 | Березнянський історико-меморіальний музей ім.Г.Верьовки | смт Березна | красназавчі |
| 4 | Борзнянський художньо-меморіальний музей “Садиба народного художника України О.Саснка” | м. Борзна | художні |
| 5 | Вертіївський історико-меморіальний музей М.Кирпоноса | с. Вертіївка Ніжинського р-ну | меморіальні |
| 6 | Іржавецький меморіальний музей Л.Ревуцького | с. Іржавець Ічнянського р-ну | меморіальні |
| 7 | Ічнянський красназавчий музей | м. Ічня | красназавчі |
| 8 | Національний історико-культурний заповідник “Качанівка” | с. Качанівка Ічнянського р-ну | історико-культурні |
| 9 | Козелецький музей історії ткацтва на Чернігівщині | смт Козелець | етнографічні |
| 10 | Коропський регіональний історико-археологічний музей | смт Короп | історичні |
| 11 | Меморіальний музей М.Кибальчича | смт Короп | меморіальні |
| 12 | Корюківський історичний музей | м. Корюківка | історичні |
| 13 | Кунашівський історико-меморіальний музей М.Подвойського | с. Кунашівка | меморіальні |
| 14 | Менський красназавчий музей | м. Мена | красназавчі |
| 15 | Мізинський археологічний музей | с. Мізин | археологічні |
| 16 | Музей “Поштова станція” | м. Ніжин | інші |
| 17 | Ніжинський красназавчий музей | м. Ніжин | красназавчі |
| 18 | Музей історії с. Піски | с. Піски Бобровицького р-ну | історичні |
| 19 | Новгород-сіверський красназавчий музей | м. Новгород-Сіверський | красназавчі |
| 20 | Новгород-Сіверський історико-культурний музей-заповідник “Слово о полку Ігоревім” | м. Новгород-Сіверський | історико-культурні |
| 21 | Остерський красназавчий музей | м. Остер | красназавчі |
| 22 | Меморіальний музей О.Кошового | м. Прилуки | меморіальні |
| 23 | Прилуцький красназавчий музей | м. Прилуки | красназавчі |
| 24 | Яхнівський історичний музей | с. Світанок Ніжинського р-ну | історичні |
| 25 | Семенівський красназавчий музей | м. Семенівка | красназавчі |
| 26 | Сосницький літературно-меморіальний музей О.Довженка | смт Сосниця | меморіальні |
| 27 | Сосницький красназавчий музей ім. Ю.Виноградського | смт Сосниця | красназавчі |
| 28 | Чернігівський історико-культурний заповідник “Чернігів стародавній” | м. Чернігів | історико-культурні |
| 29 | Чернігівський обласний художній музей ім. Г.Галагана | м. Чернігів | художні |
| 30 | Чернігівський літературно-меморіальний музей-заповідник М.Коцюбинського | м. Чернігів | меморіальні |
| 31 | Музей народного декоративного мистецтва | м. Чернігів | декоративно-ужиткового мистецтва |
| 32 | Військово-історичний музей | м. Чернігів | військово-історичні, військово-технічні |
| 33 | Чернігівський обласний історичний музей ім. В.Тарновського | м. Чернігів | історичні |
| 34 | Щорський історико-меморіальний музей М.Щорса | м. Щорс | історичні |

Висновки:

УВАГА! 4 модуль необхідно закрити до початку залікового тижня!